






# Тренажер по математике. Уравнения. 2 класс

Подготовила: учитель начальных  
классов

МАОУ СШ №9 г.  
Красноуфимска  
Пролубщикова Н.В.



# Инструкция



Каждое задание содержит три ответа, из них нужно выбрать один правильный.

Если ответ правильный, произойдет переход к следующему заданию.

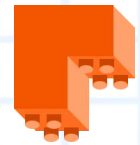
Если ответ неверный, то он загорится красным цветом. Для перехода к следующему заданию необходимо исправить ошибку, выбрав верный ответ.





**Желаю  
успеха!**




$$x + y = z$$



Найди корень уравнения:  $X - 25 = 10$




$$a^2 + b^2 = c^2$$



<input type="checkbox"/>	35
<input type="checkbox"/>	15
<input type="checkbox"/>	45

$$x + y = z$$

Найди корень уравнения:  $30 - X = 22$




$$a^2 + b^2 = c^2$$

<input type="checkbox"/>	52
<input type="checkbox"/>	8
<input type="checkbox"/>	7

$$x + y = z$$


Найди корень уравнения:  $27 + X = 36$



<input type="checkbox"/>	7
<input type="checkbox"/>	8
<input type="checkbox"/>	9

$$x + y = z$$


Найди корень уравнения:  $X + 8 = 50$



<input type="checkbox"/>	58
<input type="checkbox"/>	42
<input type="checkbox"/>	43

$$x + y = z$$


Найди корень уравнения:  $35 + X = 42$



<input type="checkbox"/>	7
<input type="checkbox"/>	77
<input type="checkbox"/>	6

$$x + y = z$$

Найди уравнение, которое будешь решать сложением.




- |                          |               |
|--------------------------|---------------|
| <input type="checkbox"/> | $74 - X = 54$ |
| <input type="checkbox"/> | $X + 35 = 60$ |
| <input type="checkbox"/> | $X - 28 = 70$ |



$$x + y = z$$

Найди уравнение, которое будешь решать вычитанием.




$x - 9 = 65$

$64 + x = 73$

$x - 30 = 44$

$$x + y = z$$

Молодец!



$$a^2 + b^2 = c^2$$

