



Интерактивный тренажёр
«Считай и ответ выбирай»
3 класс

Подготовила: учитель начальных классов
МАОУ СШ №9 г.Красноуфимска
Свердловской области
Пролубщикова Н.В.



Найди разность чисел 82 и 36.




45



46



56





Найди сумму чисел 41 и 49.



91



89



90




Сколько надо вычесть из 84,
чтобы стало 48?

36

35

37





Первое слагаемое **17**, сумма **54**.
Найди второе слагаемое.



71



36

37



Сколько надо прибавить к **56**,
чтобы получилось **95**?



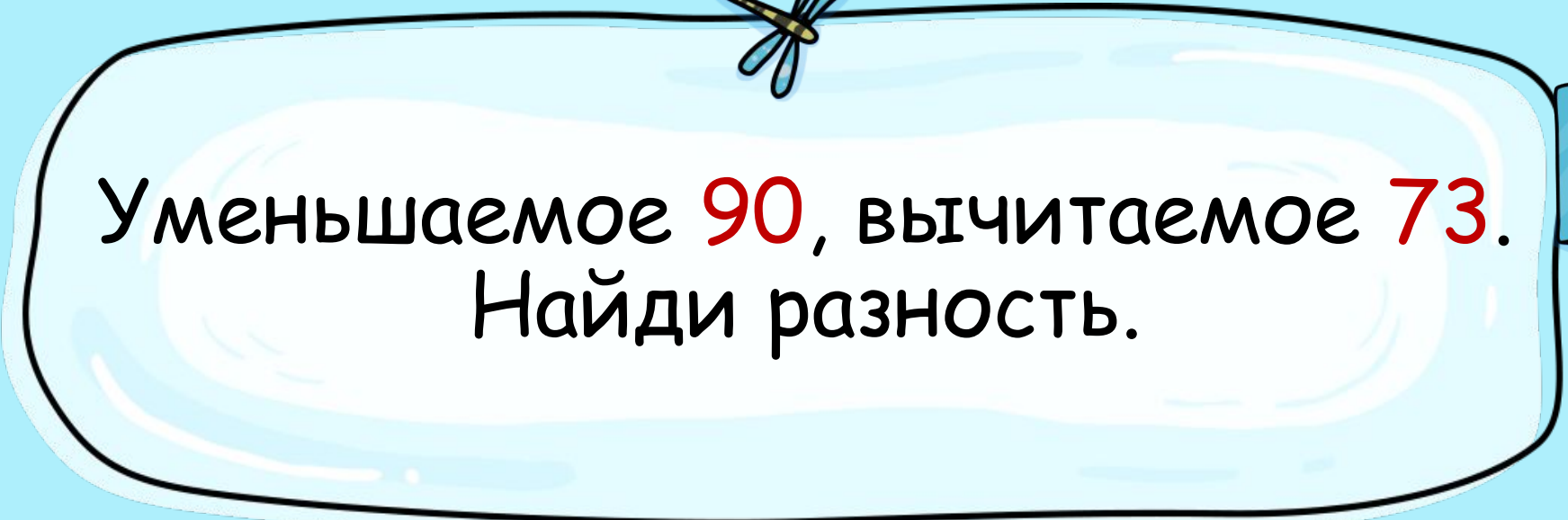
39



38



37



Уменьшаемое **90**, вычитаемое **73**.
Найди разность.



27



17



18



28 увеличь на 33.

62

61

60


A large light blue rounded rectangle with a black outline, containing the text "93 уменьши на 37." in red and black. The number "93" is red, "уменьши на" is black, and "37." is red. The background of the page is light blue and decorated with various school and art supplies: a watercolor palette at the top, a blue book and envelope at the top left, a red stamp at the top left, a yellow backpack at the bottom left, a green book at the bottom left, a paintbrush at the bottom left, a yellow teddy bear at the top right, a blue flower at the top right, a green ruler at the top right, an open book at the bottom right, and a red pen at the bottom right.

93 уменьши на 37.

55

46

56



Из какого числа нужно
вычесть **49**, чтобы стало **12**?

37

61

62



94 без 58.



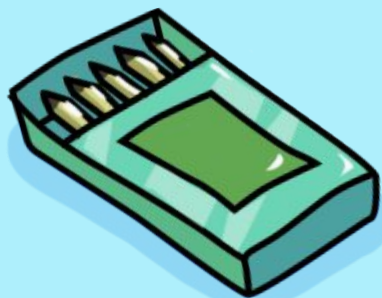
36



35



26



Молодец!

