A decorative border surrounds the page, featuring green vines with leaves, yellow flowers, and several butterflies in various colors (yellow, green, brown, and red). Two ladybugs are also visible on the vines. The background is a light cream color.

Итоговый тест
по окружающему миру
2 класс

*Романчина Елена Николаевна
учитель начальных классов
МКОУ «Извековская ОШ»
Смоленская область*

Дорогой друг!

Подходит к концу учебный год.

**Ты многому научился
во втором классе.**

**Проверь свои знания по
окружающему миру.**

Желаю успеха!

Муравей Вопросик




1. Что относится к живой природе?

- а) луна
- б) камень
- в) береза
- г) облако



2. Как правильно записать показание термометра "пять градусов тепла"?

- а) $+5^{\circ}$;
- б) -5° ;
- в) $+5\text{Г.}$;
- г) 5° .



3. Какое из этих растений является культурным?

- а) подорожник;
- б) пшеница;
- в) крапива;
- г) репейник.



4. В какой группе растений перечислены только деревья?

- а) зверобой, ромашка, клен;
- б) брусника, черника, голубика;
- в) осина, яблоня, сосна;
- г) смородина, малина, калина.



5. Признаком каких животных являются шесть ножек?

- а) насекомых;
- б) рыб;
- в) птиц;
- г) зверей.



6. Чем занимается сельское хозяйство?

- а) строительством домов;
- б) выращиванием культурных растений и домашних животных;
- в) производством одежды, обуви, посуды;
- г) перевозкой людей и грузов.



7. Что обозначает этот знак ?



- а) подземный пешеходный переход;
- б) наземный пешеходный переход;
- в) пешеходный переход;
- г) ВХОД ИЛИ ВЫХОД.




8. По какому телефону вызывают "скорую помощь"?

- а) 01;
- б) 02;
- в) 03;
- г) 04.



9. Что НЕ относится к внутренним органам человека?

- а) голова;
- б) сердце;
- в) желудок;
- г) легкие.




10. Какой из этих грибов ядовит?

- а) сыроежка;
- б) рыжик;
- в) волнушка;
- г) бледная поганка.



11. Определи последовательность создания одежды. Поставь цифры от 1 до 5.

- а) шерсть
- б) овца
- в) шерстяная одежда
- г) шерстяная нить
- д) шерстяная ткань



Напиши ответ на вопрос

- **12. Как часто нужно чистить зубы?**



13. В каких случаях используются эти слова?

- 1. «Спасибо»
-
- 2. «Здравствуйте»
-
- 3. «Простите»
- 4. «Счастливого пути»

а) Извинение

б) Прощание

в) Приветствие

г) Благодарность



14. Как называется это ядовитое растение?



15. Правильно ли поступили мальчики? Почему? Напиши.



- В воскресенье я решил пойти к озеру. Передо мной по тропинке шли два мальчика. Вдруг они в траве увидели маленькую лягушку. "Давай возьмем ее себе, чтобы она не заблудилась!" - сказал один мальчик. "Не трогай ее! Лягушка сама найдет дорогу!" - сказал другой. Мальчики решили не ловить лягушку.



КЛЮЧ

- 1-в
- 2-а
- 3-б
- 4-в
- 5-а
- 6-б
- 7-в
- 8-в
- 9-а
- 10-г

11. 1-б, 2-а, 3-г, 4-д, 5-в.

12. Утром и вечером перед сном.

13. 1-г, 2-в, 3-а, 4-б.

14. Вороний глаз.

Оцени работу

- Каждое верно выполненное задание части 1 оценивается в 1 балл, части 2-в 2 балла.
- 18 баллов - отметка "5";
- 17-14 баллов - оценка "4";
- 13-9 баллов - отметка "3";
- менее 9 баллов - отметка "2".
- Задание 15 оценивается отдельно.

Молодец!



Используемая литература

- 1. Мир вокруг нас. Проверим себя: Тетрадь для учащихся 2 класса начальной школы/ А. А. Плешаков. 13-е изд. - М.: ВИТА-ПРЕСС, 2008, -48 с.: ил.
- 2. Литературное чтение. Типовые тестовые задания за курс начальной школы / Сост. С. В. Кутявина. -2-е изд., перераб. - М.: ВАКО, 2014. - 64 с.

Интернет-ресурсы

- <http://www.maam.ru/detskijsad/digra-yekologicheskii-svetofor.html>
- https://go.mail.ru/search_images?q=муравей%20вопросик&rf
- https://go.mail.ru/search_images?rf=9824&fm=1&q=вороний%20глаз&frm
- <https://multiurok.ru/>
- : <http://elenaranko.ucoz.ru/>