

Муниципальное общеобразовательное учреждение средняя общеобразовательная школа №4
имени Ф. Н. Красовского города Галича Костромской области.

Тема: «Таблица сложения».

(1 КЛАСС ФГОС).


(Образовательная система «Школа 2100»)

Подготовила: Смирнова Марина
Анатольевна,
учитель начальных классов.

22 апреля – День Земли







1

2



4

5



7

8



10



12



14



16

17





19





Выбери и вставь нужную фигуру







$$9 + 1$$



1

2

3

4

5

6

7

8

9

10



$$8 + 2$$



1

7

5

4

9

10

8

6

3

2



$$7 + 3$$



1

2

4

10

5

9

7

8

6

3



$$6 + 4$$



1

5

3

4

8

6

7

10

9

2

$5 + 5$

1

10

3

4

5


6

7

8

9

2



Физкультминут

ка

Мы работали,
устали...






Правила друзей природы!



Алгоритм

- 1) Дополни до 10
(разложи второе слагаемое
на части).
- 2) Прибавь оставшуюся часть.






Будьте здоровы!




$$\begin{array}{l} 9 + 2 = 11 \quad 8 + 3 = 11 \quad 7 + 4 = 11 \quad 6 + 5 = 11 \\ 9 + 3 = 12 \quad 8 + 4 = 12 \quad 7 + 5 = 12 \quad 6 + 6 = 12 \\ 9 + 4 = 13 \quad 8 + 5 = 13 \quad 7 + 6 = 13 \quad 6 + 7 = 13 \\ 9 + 5 = 14 \quad 8 + 6 = 14 \quad 7 + 7 = 14 \quad 6 + 8 = 14 \\ 9 + 6 = 15 \quad 8 + 7 = 15 \quad 7 + 8 = 15 \quad 6 + 9 = 15 \\ 9 + 7 = 16 \quad 8 + 8 = 16 \quad 7 + 9 = 16 \\ 9 + 8 = 17 \quad 8 + 9 = 17 \\ 9 + 9 = 18 \end{array}$$



**Дружно муравьи живут
И без дела не снуют
Семь несут травинку,
Пять несут иголки.
Сколько их под ёлкой?**




Петя нарисовал насекомых **3 жука**, **4 бабочки** и **5 стрекозы**. Сколько всего насекомых нарисовал Петя?



$$3 + 4 + 5 = 12 \text{ (н.)}$$

Ответ: 12 насекомых.





Молодцы!

До новых встреч!

