



Математическая разминка

«УГЛЫ ВСПОМИНАЕМ, ВЫЧИСЛЕНИЯ ВЫПОЛНЯЕМ» №2

3 класс



Подготовила: учитель начальных классов
МАОУ СШ №9 г.Красноуфимска
Свердловской области
Пролубщикова Наталья Владимировна



Вспомним названия геометрических фигур




ТРАПЕЦИЯ



РОМБ

КВАДРАТ



ЧЕТЫРЕХУГОЛЬНИК



ТРЕУГОЛЬНИК

Вспомним названия углов

ТРАПЕЦИЯ



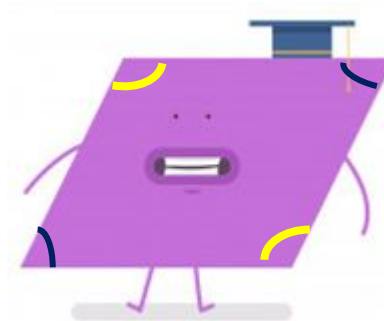
ОСТРЫЕ УГЛЫ
выделены синим
цветом

ТУПЫЕ УГЛЫ
выделены
желтым цветом

РОМБ



ПРЯМОЙ УГОЛ
выделен
красным цветом



ТРЕУГОЛЬНИК

ЧЕТЫРЕХУГОЛЬНИК




Названия углов
вспоминайте,
И вычисления
выполняйте.



Задание №1

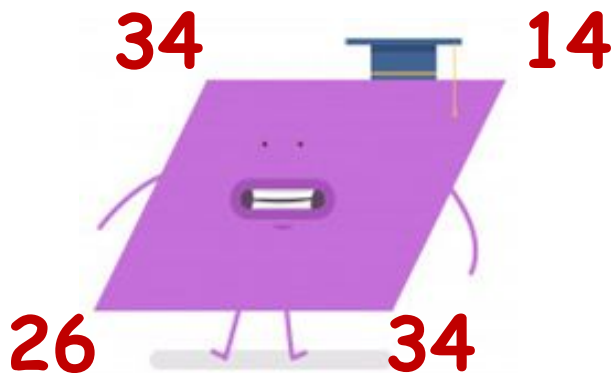
Рассмотрите фигуры. Найдите сумму чисел, которые стоят у **тупых** углов и **прямого** угла.



Ответ: 80

Задание №2


Сложите числа, которые стоят
у всех **острых** углов.



Ответ: 91

Задание №3

Сложите числа, которые стоят
у всех **прямых** углов.



Ответ: 90

Задание №4

Найдите **произведение** чисел,
которые стоят у острых углов.

9



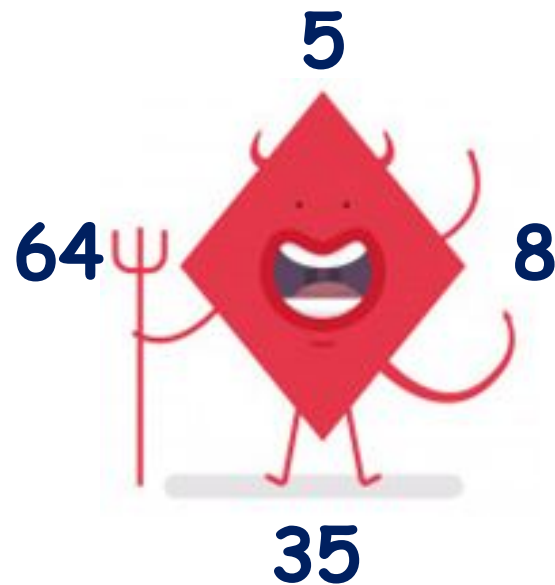
5

6

Ответ: 54

Задание №5

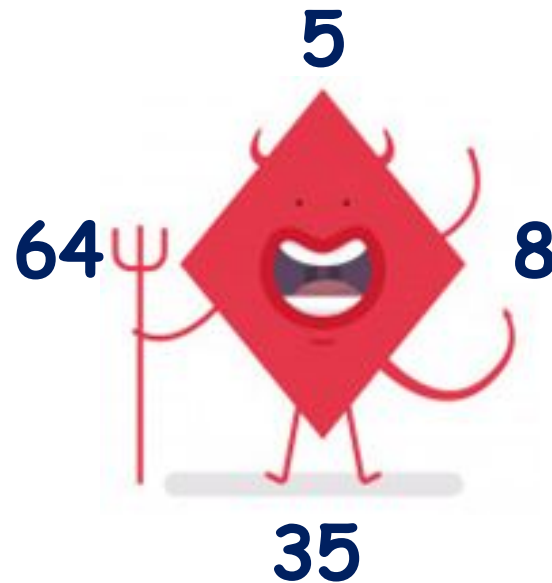
Найдите **частное** чисел, которые стоят у **острых** углов.



Ответ: 7

Задание №6

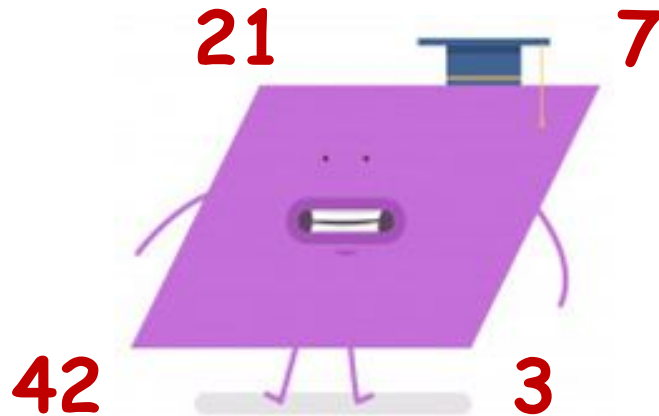
Найдите **частное** чисел, которые стоят у тупых углов.



Ответ: 8

Задание №7

Найдите **частное** чисел, которые стоят у **острых** углов.



Ответ: 6

Задание №8

Найдите **произведение** чисел, которые стоят у **тупых** углов.



Ответ: 63



Проверка ответов:

80, 91, 90, 54, 7, 8, 6, 63.



Фон презентации:

<https://ru.dreamstime.com/%D0%B3%D0%BE%D0%BB%D0%BE%D0%B2%D0%BE%D0%BB%D0%BE%D0%BC%D0%BA%D0%B0-%D0%B3%D0%BE%D0%BB%D0%BE%D0%B2%D0%BE%D0%BB%D0%BE%D0%BC%D0%BA%D0%B8-%D1%81%D0%BB%D0%BE%D0%B2%D0%B0-%D0%B8%D1%81%D0%BA%D1%83%D1%81%D1%81%D1%82%D0%B2%D0%B0-%D0%B2-%D0%BA%D1%80%D1%83%D0%B3%D0%B5-image104124507>

Дети с геометрическими фигурами:

https://www.freepik.com/premium-vector/cute-kids-learn-basic-shape_5708281.htm

Мультишные геометрические фигур:

https://www.freepik.com/premium-vector/funny-geometric-shapes-vector-cartoon-character-set-isolated-white-background_5349118.htm