



Математическая разминка

«УГЛЫ ВСПОМИНАЕМ,
ВЫЧИСЛЕНИЯ ВЫПОЛНЯЕМ»

3 класс



Подготовила: учитель начальных классов
МАОУ СШ №9 г.Красноуфимска
Свердловской области
Пролубщикова Наталья Владимировна

Вспомним названия геометрических фигур



ТРАПЕЦИЯ



РОМБ



ТРЕУГОЛЬНИК



ЧЕТЫРЕХУГОЛЬНИК

Вспомним названия углов

ТРАПЕЦИЯ



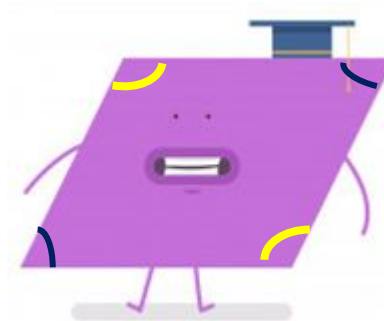
ОСТРЫЕ УГЛЫ
выделены синим
цветом

ТУПЫЕ УГЛЫ
выделены
желтым цветом

РОМБ



ПРЯМОЙ УГОЛ
выделен
красным цветом



ТРЕУГОЛЬНИК

ЧЕТЫРЕХУГОЛЬНИК



Названия углов
вспоминайте,
И вычисления
выполняйте.



Задание №1

Сложите числа, которые стоят
у тупых углов.



Ответ: 62

Задание №2

Сложите числа, которые стоят
у острых углов.



Ответ: 91

Задание №3

Сложите числа, которые стоят
у острых углов.

44



Ответ: 82

Задание №4

Найдите разность чисел,
которые стоят у острых углов.

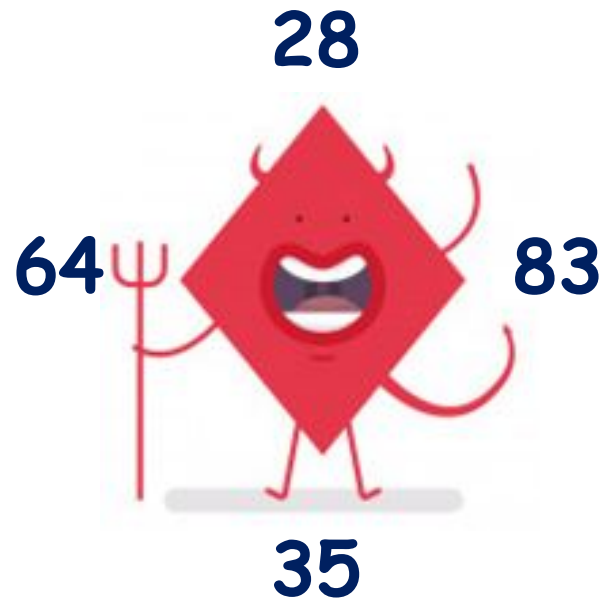
44



Ответ: 6

Задание №5

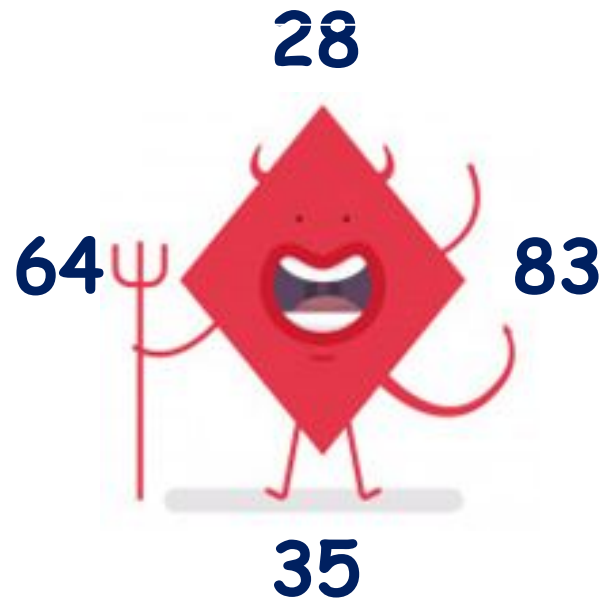
Сложите числа, которые стоят у острых углов.



Ответ: 63

Задание №6


Найдите разность чисел, которые стоят у тупых углов.



Ответ: 19

Задание №7


Найдите разность чисел, которые стоят у острых углов.



Ответ: 53

Задание №8

Найдите сумму чисел, которые стоят у тупых углов.



Ответ: 100



Проверка ответов:

62, 91, 82, 6, 63, 19, 53, 100.



Фон презентации:

<https://ru.dreamstime.com/%D0%B3%D0%BE%D0%BB%D0%BE%D0%B2%D0%BE%D0%BB%D0%BE%D0%BC%D0%BA%D0%B0-%D0%B3%D0%BE%D0%BB%D0%BE%D0%B2%D0%BE%D0%BB%D0%BE%D0%BC%D0%BA%D0%B8-%D1%81%D0%BB%D0%BE%D0%B2%D0%B0-%D0%B8%D1%81%D0%BA%D1%83%D1%81%D1%81%D1%82%D0%B2%D0%B0-%D0%B2-%D0%BA%D1%80%D1%83%D0%B3%D0%B5-image104124507>

Дети с геометрическими фигурами:

https://www.freepik.com/premium-vector/cute-kids-learn-basic-shape_5708281.htm

Мультишные геометрические фигур:

https://www.freepik.com/premium-vector/funny-geometric-shapes-vector-cartoon-character-set-isolated-white-background_5349118.htm