



**Классная работа 24.12.2020**  
**Математическое письмо**  
**Деду Морозу.**

**Автор : Конюхова Галина Станиславовна,  
учитель математики, классный руководитель 5 «А» класса  
МБОУ Аннинская СОШ №3  
Воронежская область  
24 декабря 2020**

**А знаете ли вы, что 18 ноября в России  
официально празднуют день рождения  
Деда Мороза?**




**А знаете ли вы,  
что Деду Морозу более 2000 лет**



**А знаете ли вы, что у настоящего  
русского Деда Мороза должна быть  
длинная седая борода**



А знаете ли вы, что у русского Деда  
Мороза есть помощница – внучка  
Снегурочка





**А знаете ли вы, что  
возраст Снегурочки  
может меняться – от  
маленькой девочки до  
молодой девушки, а вот  
волосы – всегда  
светлые и обязательно –  
коса.**

# Зимняя разминка



# Зимняя разминка



Сколько дней в декабре?





# Зимняя разминка

Сказка С. Маршак  
**ДВЕНАДЦАТЬ  
МЕСЯЦЕВ**



**Сколько месяцев в году?**

# Зимняя разминка



На строительство снежной крепости ушло 8 ц снега.  
Сколько это килограммов?

# Зимняя разминка



За ночь на стадион  
выпало 2 т снега.  
Сколько это килограммов?

# Бухгалтерия Деда Мороза



**Фейерверк горит 60 секунд, а  
бенгальский огонь в 3 раза дольше.**

**Сколько минут мы можем  
любоваться бенгальским огнем?**



**Бухгалтерия Деда Мороза**

# Бухгалтерия Деда Мороза

Для украшения  
новогодней ёлки  
купили 75 шишек,  
а шаров в 3 раза  
меньше. Сколько  
купили игрушек  
для украшения  
ёлки?



Длина катка 40 м, а ширина 30 м.  
Каковы его периметр и площадь?



Бухгалтерия Деда Мороза

**Комната Деда Мороза имеет  
длину 5 м, ширину – 6 м  
и высоту – 300 см.  
Каков объем комнаты?**



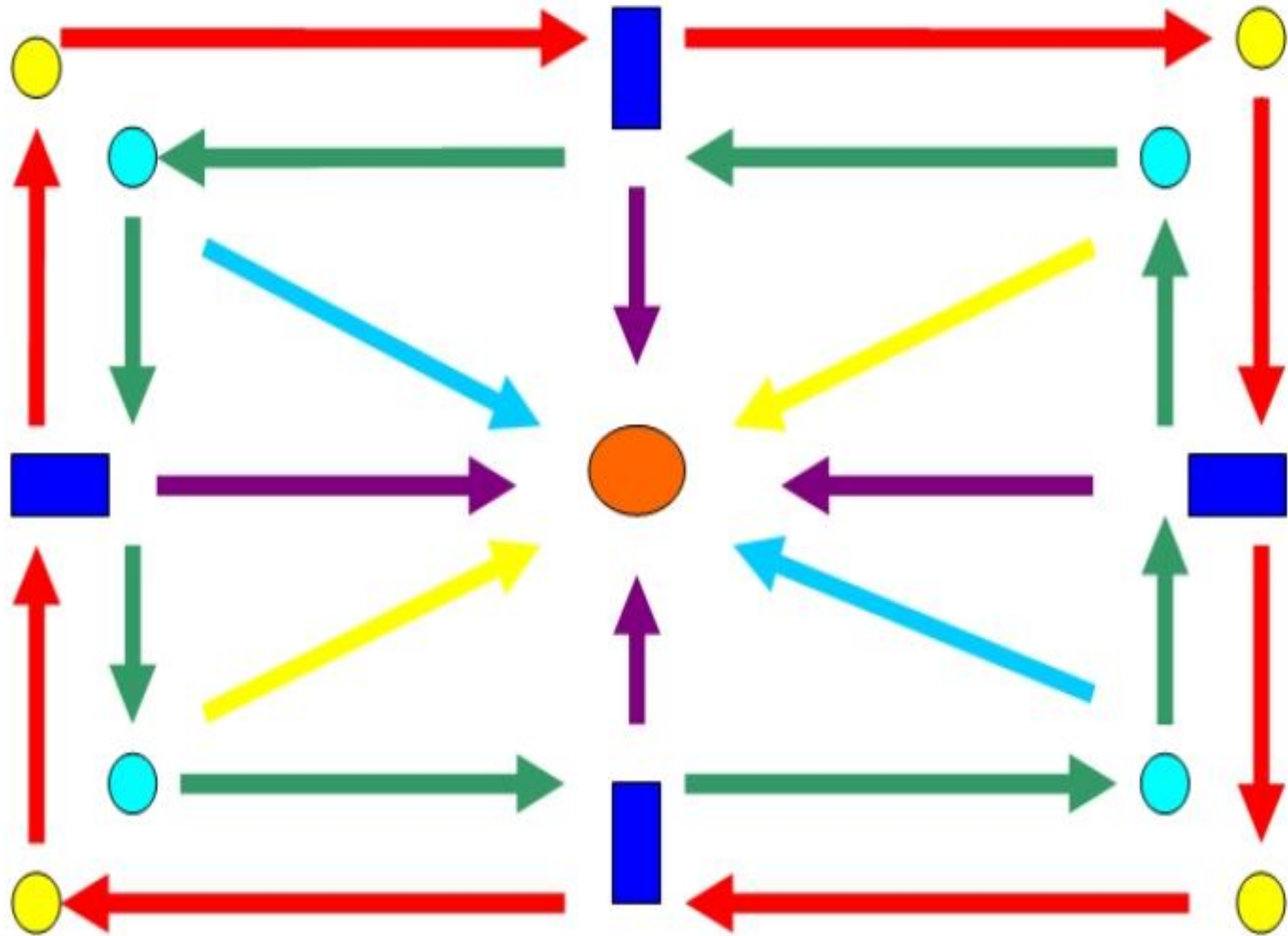
**Бухгалтерия Деда Мороза**



# Бухгалтерия Деда Мороза

Для новогодних призов было куплено 28 кг конфет. Конфеты “Ласточка” составили 2 части, “Степ” - 3 части, “Ромашка” - 2 части. Сколько конфет каждого сорта купили?

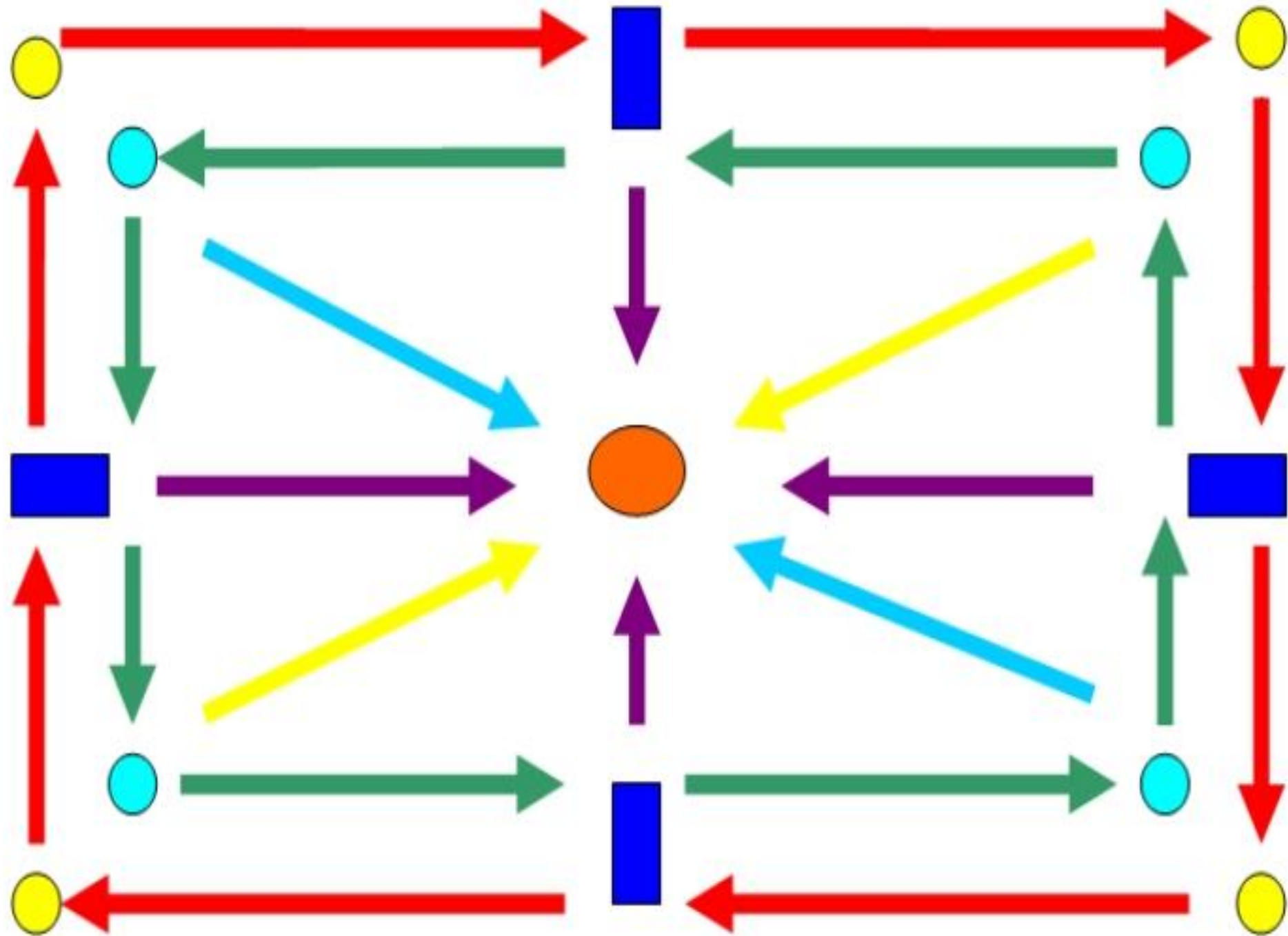





# Тренажёр «Видеоазимут»

## Схема упражнений

1. Оббежать только взором, не двигая головой, красный прямоугольник. Дозировка для школьников в первом классе - 7, затем добавляется по одному на каждый возраст. Взрослым даем 25 раз.
2. Оббежать взором зеленый прямоугольник.
3. Оббежать взором диагональ из угла в угол. Поочередно каждую.
4. Вертикаль и горизонталь в той же дозировке.



# Новогодняя открытка







**Спасибо за урок**