

Ментальная математика

«Числа на счётках» №2

Нумерация в пределах 100. 2 класс



Подготовила: учитель начальных классов МБОУ СШ №9

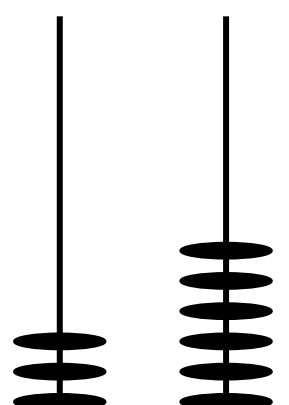







г.Красноуфимска

Пролубщикова Наталья Владимировна

Задание

1. Нарисуй числа по образцу.
2. Запиши числа в порядке возрастания.
3. Обведи в **овал** числа, в которых количество единиц **меньше**, чем количество десятков.

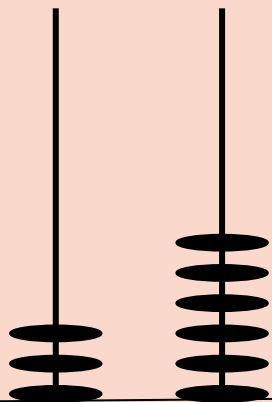


			
<p>3</p>	<p>3</p>	<p>5</p>	<p>4</p>
			
<p>6</p>	<p>9</p>	<p>4</p>	<p>5</p>
<p>7 1</p>	<p>6</p>	<p>9</p>	<p>8 1</p>

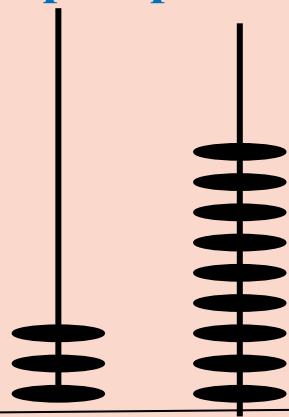
8

3

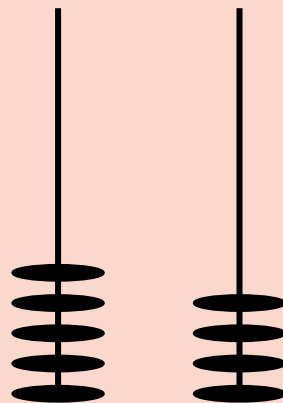
Проверь себя:



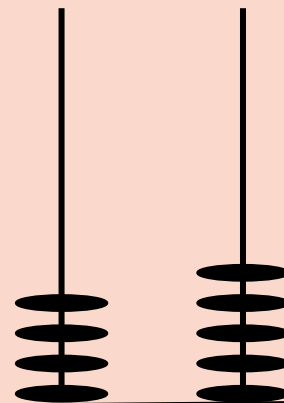
3



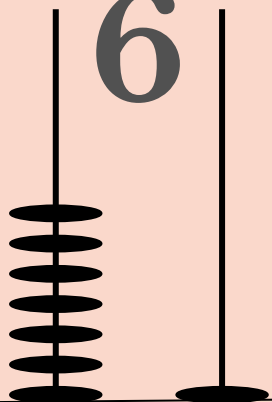
3



5

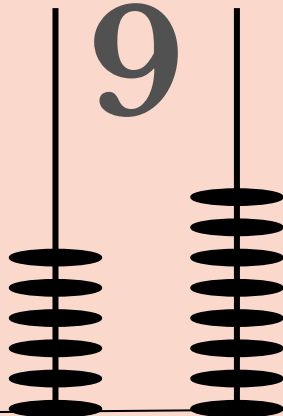


4



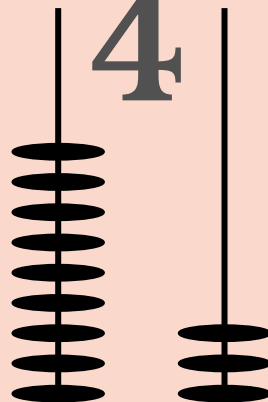
6

7 1



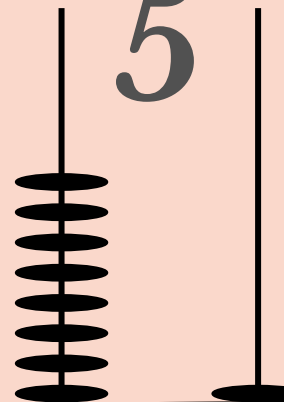
9

6



4

9



5

8 1

8

3

1. Числа записаны в порядке возрастания.
2. В овал обведены числа, в которых количество единиц меньше, чем количество десятков.

36, 39, 45, 54, 68, 71, 81, 93



Картинка на первом слайде:

[https://ru.freepik.com/free-vector/set-of-children-holding-number 4510772.htm](https://ru.freepik.com/free-vector/set-of-children-holding-number-4510772.htm)

Картинка на втором слайде:

[https://proshkolu.ru/user/liudmila-md/file/27](https://proshkolu.ru/user/liudmila-md/file/2719488/)

[19488/](https://proshkolu.ru/user/liudmila-md/file/2719488/)
Картинка на пятом слайде:

[https://ru.freepik.com/free-vector/boy-doing-math-with-abacus 4951725.htm](https://ru.freepik.com/free-vector/boy-doing-math-with-abacus-4951725.htm)