

# Ментальная математика

## «Числа на счётах» №3

### Нумерация в пределах 100. 2 класс



Подготовила: учитель начальных классов МБОУ СШ №9

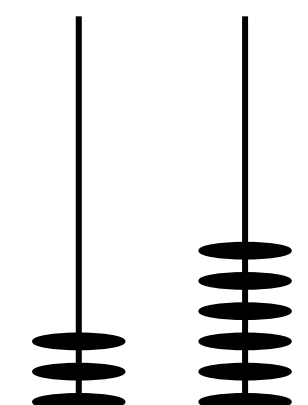







г.Красноуфимска

Пролубщикова Наталья Владимировна

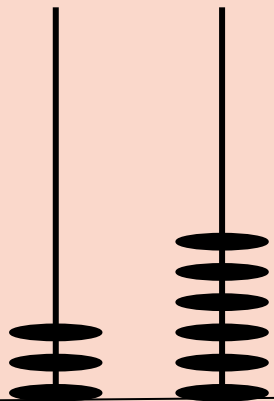
# Задание

1. Нарисуй числа по образцу.
2. Запиши числа в порядке **убывания**.
3. Обведи в **овал** числа, в которых количество единиц **больше**, чем количество десятков.

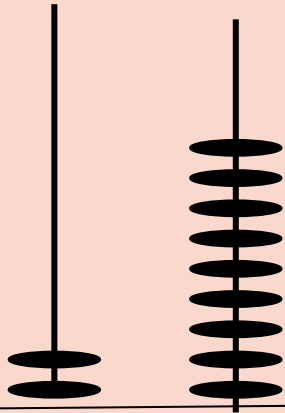


			
3	2	5 1	5
			
6	9		3
6	5	9	7
2	5	4	6

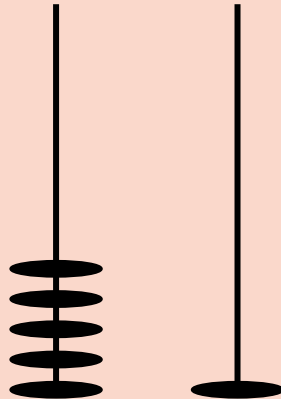
Проверь себя:



3

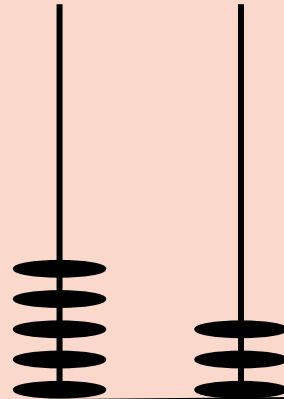


2

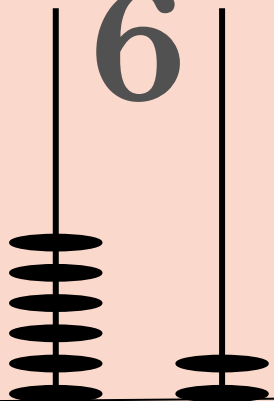


5

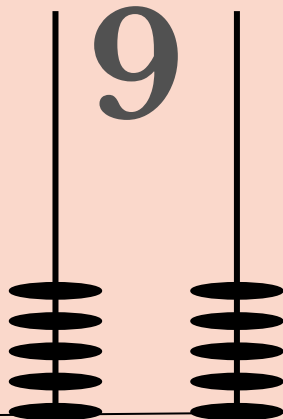
1



5

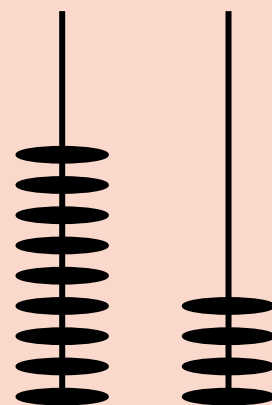


6



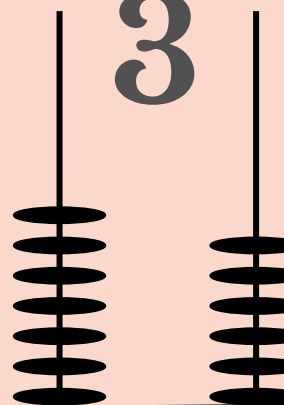
9

5



9

3



7

6

2

5

4

6

1. Числа записаны в порядке убывания.

2. В овал обведены числа, в которых количество единиц больше, чем количество десятков.

94, 76, 62, 55, 53, 51, 36, 29



**Картинка на первом слайде:**

[https://ru.freepik.com/free-vector/set-of-children-holding-number\\_4510772.htm](https://ru.freepik.com/free-vector/set-of-children-holding-number_4510772.htm)

**Картинка на втором слайде:**

<https://proshkolu.ru/user/liudmila-md/file/2719488/>

**Картинка на пятом слайде:**

[https://ru.freepik.com/free-vector/boy-doing-math-with-abacus\\_4951725.htm](https://ru.freepik.com/free-vector/boy-doing-math-with-abacus_4951725.htm)