

Ментальная математика

«Числа на счётах» №4

Нумерация в пределах 100. 2 класс



Подготовила: учитель начальных классов МБОУ СШ №9

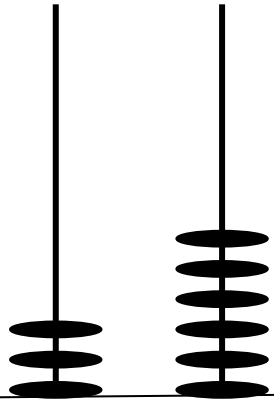
г.Красноуфимска

Пролубщикова Наталья Владимировна


Задание

1. Нарисуй числа по образцу.
2. Запиши числа в порядке **убывания**.
3. Обведи в **кружок** только **чётные** числа.







3




4



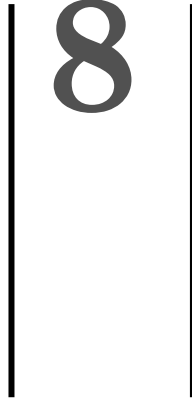
2




7



6



8



7



2

5 1

3

6

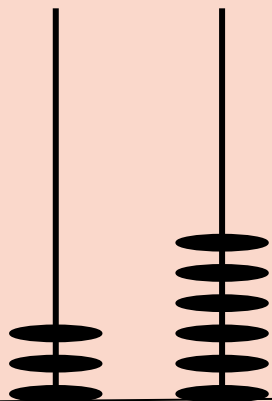
4

5

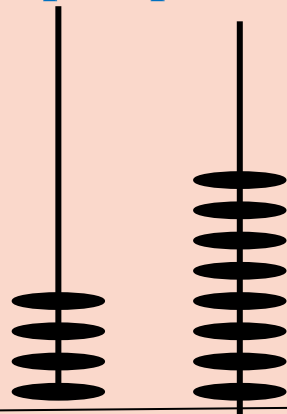
4

6

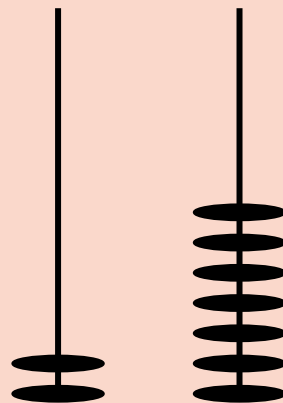
Проверь себя:



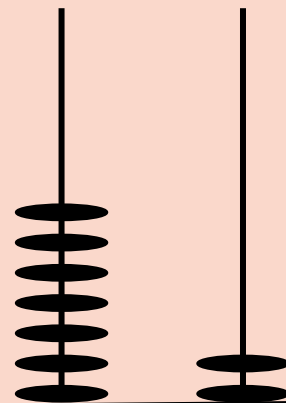
3



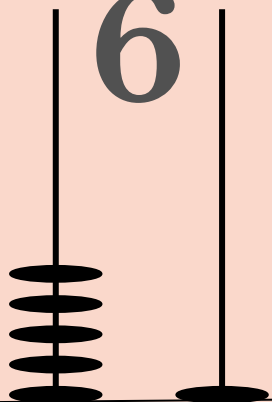
4



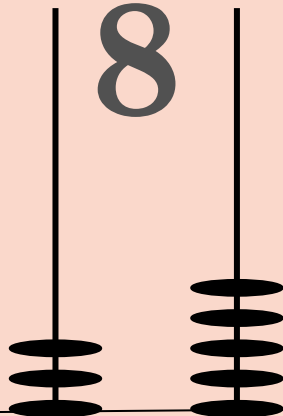
2



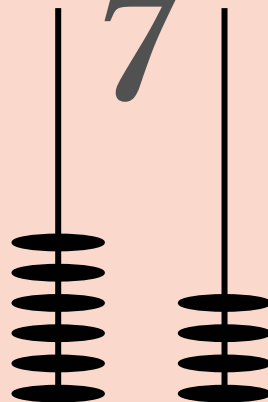
7



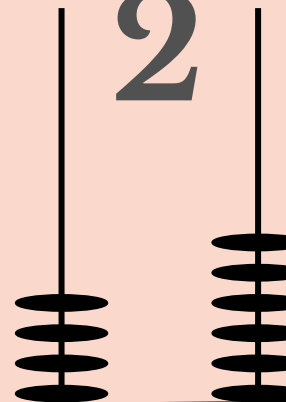
6



8



7



2

5 1

3

6

4

5

4

6

1. Числа записаны в порядке убывания.

2. В кружок обведены только чётные числа.

72, 64, 51, 48, 46, 36, 35, 27



Картинка на первом слайде:

[https://ru.freepik.com/free-vector/set-of-children-holding-number 4510772.htm](https://ru.freepik.com/free-vector/set-of-children-holding-number-4510772.htm)

Картинка на втором слайде:

[https://proshkolu.ru/user/liudmila-md/file/27](https://proshkolu.ru/user/liudmila-md/file/2719488/)

[19488/](https://proshkolu.ru/user/liudmila-md/file/2719488/)
Картинка на пятом слайде:

[https://ru.freepik.com/free-vector/boy-doing-math-with-abacus 4951725.htm](https://ru.freepik.com/free-vector/boy-doing-math-with-abacus-4951725.htm)