

Ментальная математика

«Числа на счётах» №6

Нумерация в пределах 100. 2 класс



Подготовила: учитель начальных классов МБОУ СШ №9

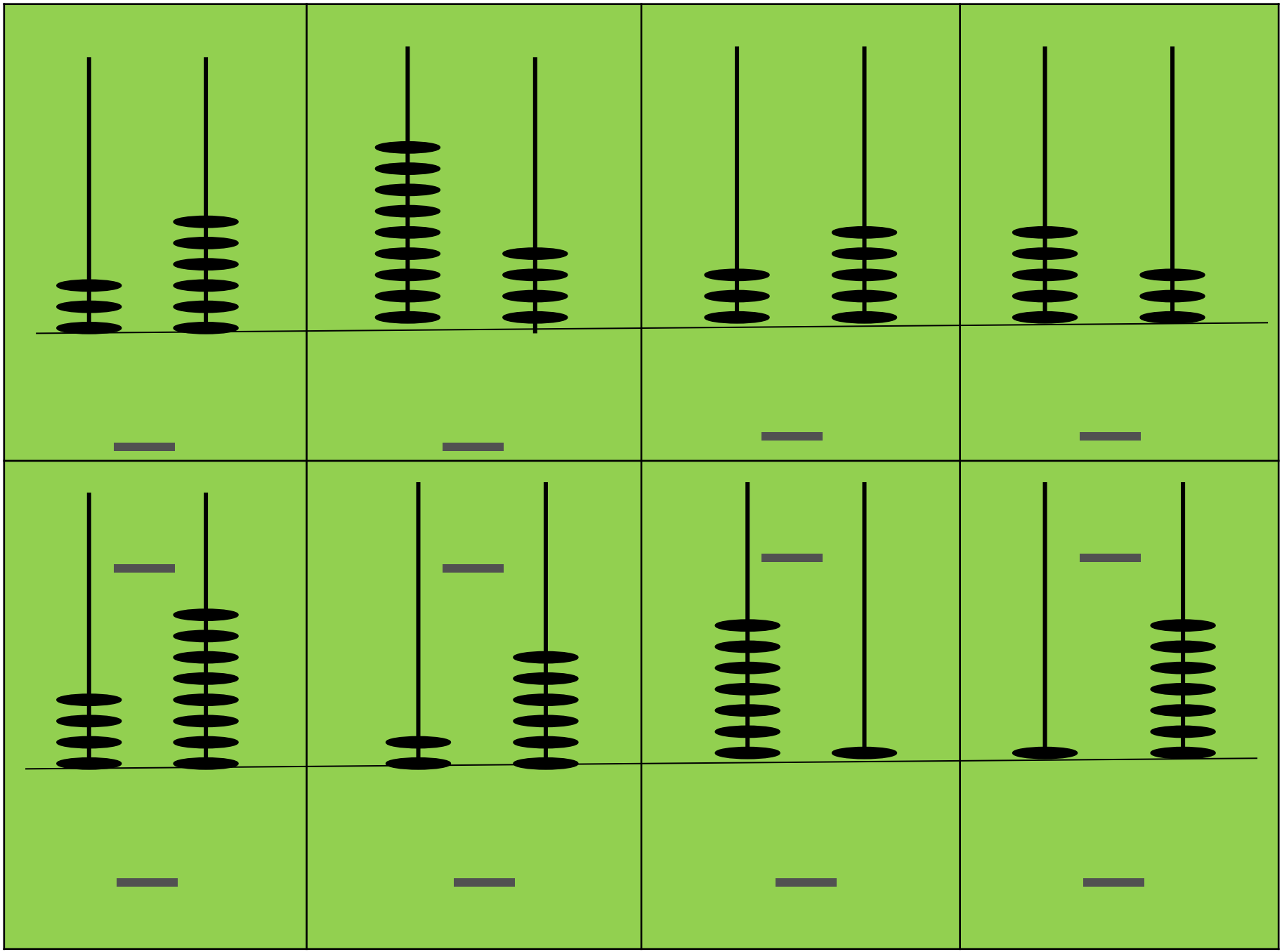
г.Краснофимска

Пролубщикова Наталья Владимировна


Задание

1. Запиши числа, изображённые на счётах.
2. Выпиши числа в тетрадь в порядке возрастания.
3. Обведи в кружок только чётные числа.







Проверь себя:




3



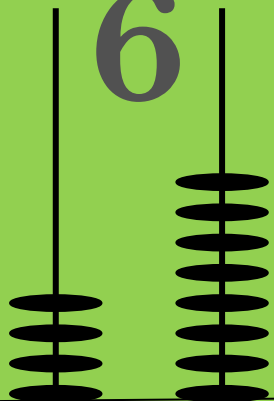
9



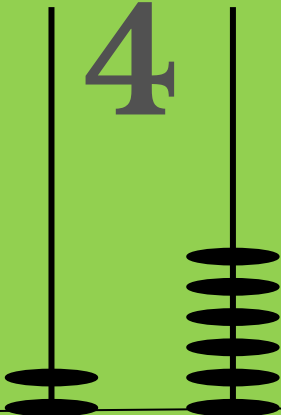
3



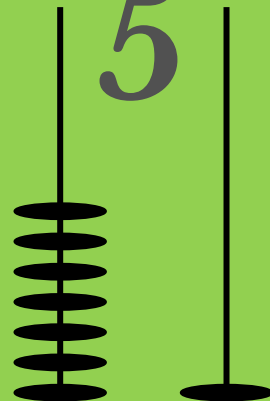
5




6



4



5



3

4

2

7 1

1 7

8

6

1. Числа записаны в порядке возрастания.
2. В кружок обведены только чётные числа.

17, 26, 35, 36, 48, 53, 71, 94



Картинка на первом слайде:

https://ru.freepik.com/premium-vector/children-playing-with-abacus_492708.htm

Картинка на втором слайде:

[https://proshkolu.ru/user/liudmila-md/file/27](https://proshkolu.ru/user/liudmila-md/file/2719488/)

[19488/](https://proshkolu.ru/user/liudmila-md/file/2719488/)
Картинка на пятом слайде:

https://ru.freepik.com/premium-vector/children-learning-math-with-abacus_3388596.htm