


# Ментальная математика

## «Числа на счётах» №7

### Нумерация в пределах 100. 2 класс

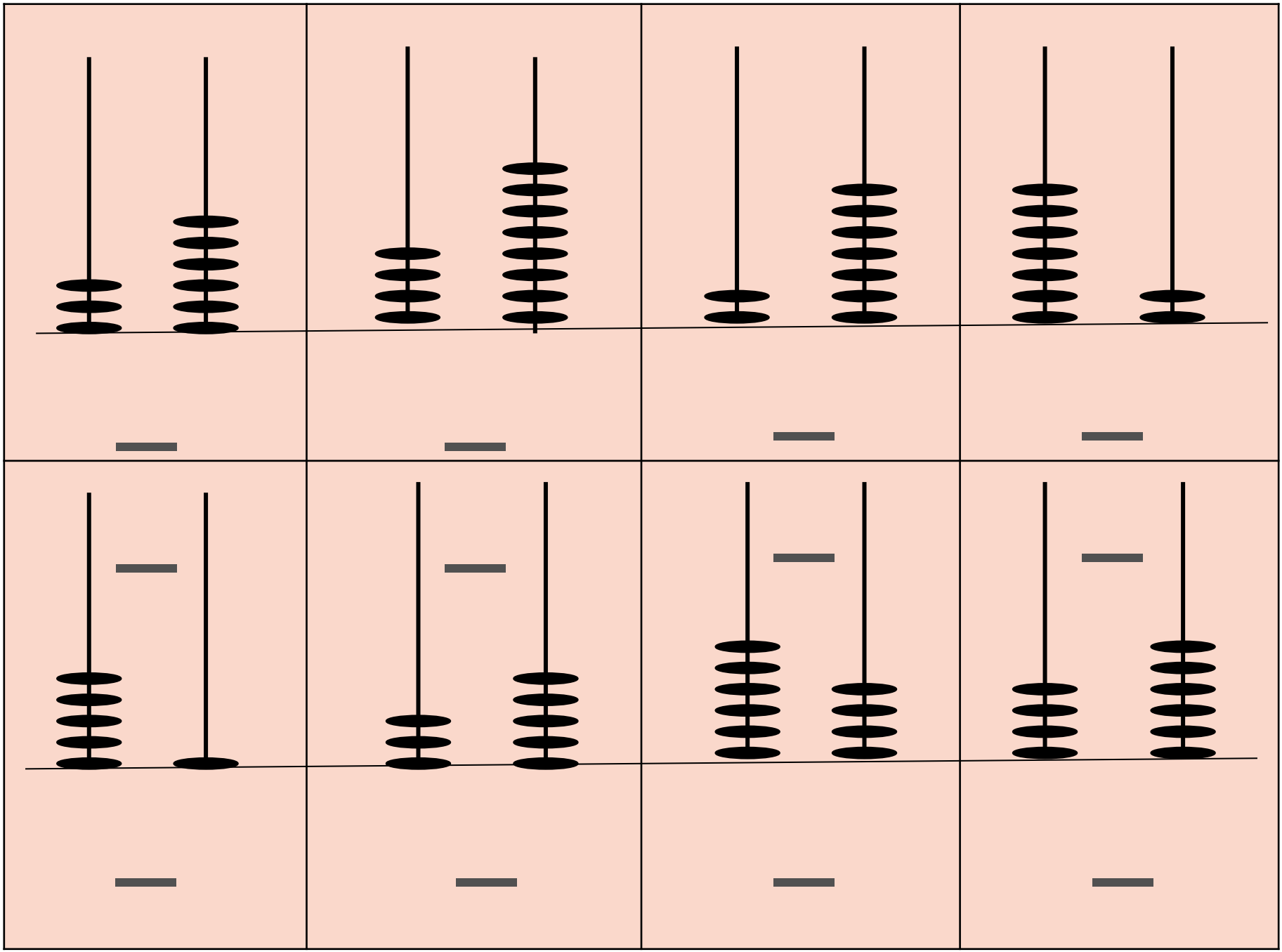


Подготовила: учитель начальных классов  
МБОУ СШ №9 г.Красноуфимска  
Пролубщикова Наталья Владимировна

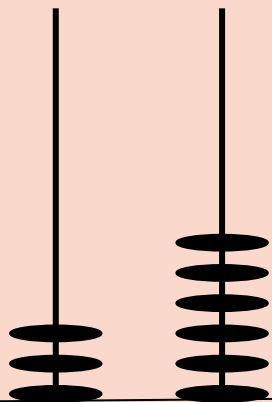
# Задание

1. Запиши числа по их изображению на счётах.
2. Выпиши числа в порядке **убывания**.
3. Обведи в **кружок** числа, в которых количество десятков меньше, чем количество единиц.

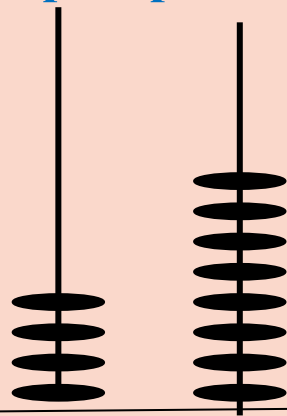




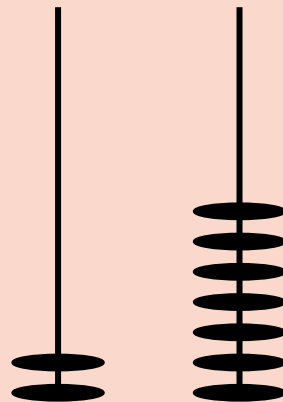
Проверь себя:



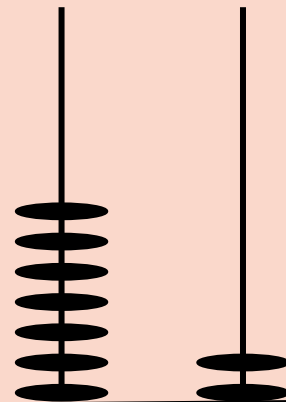
3



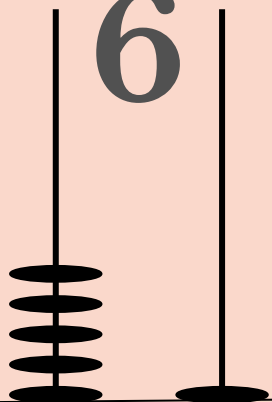
4



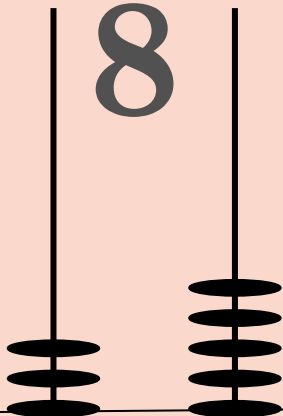
2



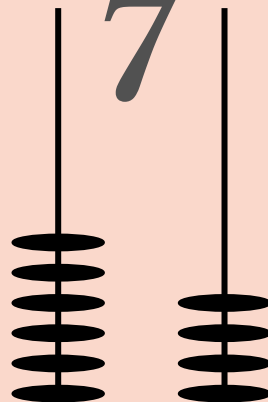
7



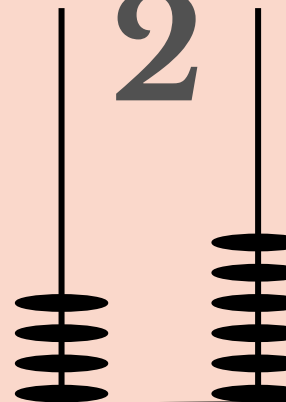
6



8



7



2

5 1

3

6

4

5

4

6

1. Числа записаны в порядке убывания.

2. В кружок обведены числа, в которых количество

десятков меньше, чем количество единиц.

72, 64, 51, 48, 46, 36, 35, 27



**Картинка на первом слайде:**

[https://ru.freepik.com/premium-vector/children-playing-with-abacus\\_492708.htm](https://ru.freepik.com/premium-vector/children-playing-with-abacus_492708.htm)

**Картинка на втором слайде:**

<https://proshkolu.ru/user/liudmila-md/file/2719488/>

**Картинка на пятом слайде:**

[https://ru.freepik.com/premium-vector/children-learning-math-with-abacus\\_3388596.htm](https://ru.freepik.com/premium-vector/children-learning-math-with-abacus_3388596.htm)