

Ментальная математика

«Числа на счётах» №8

Нумерация в пределах 100. 2 класс

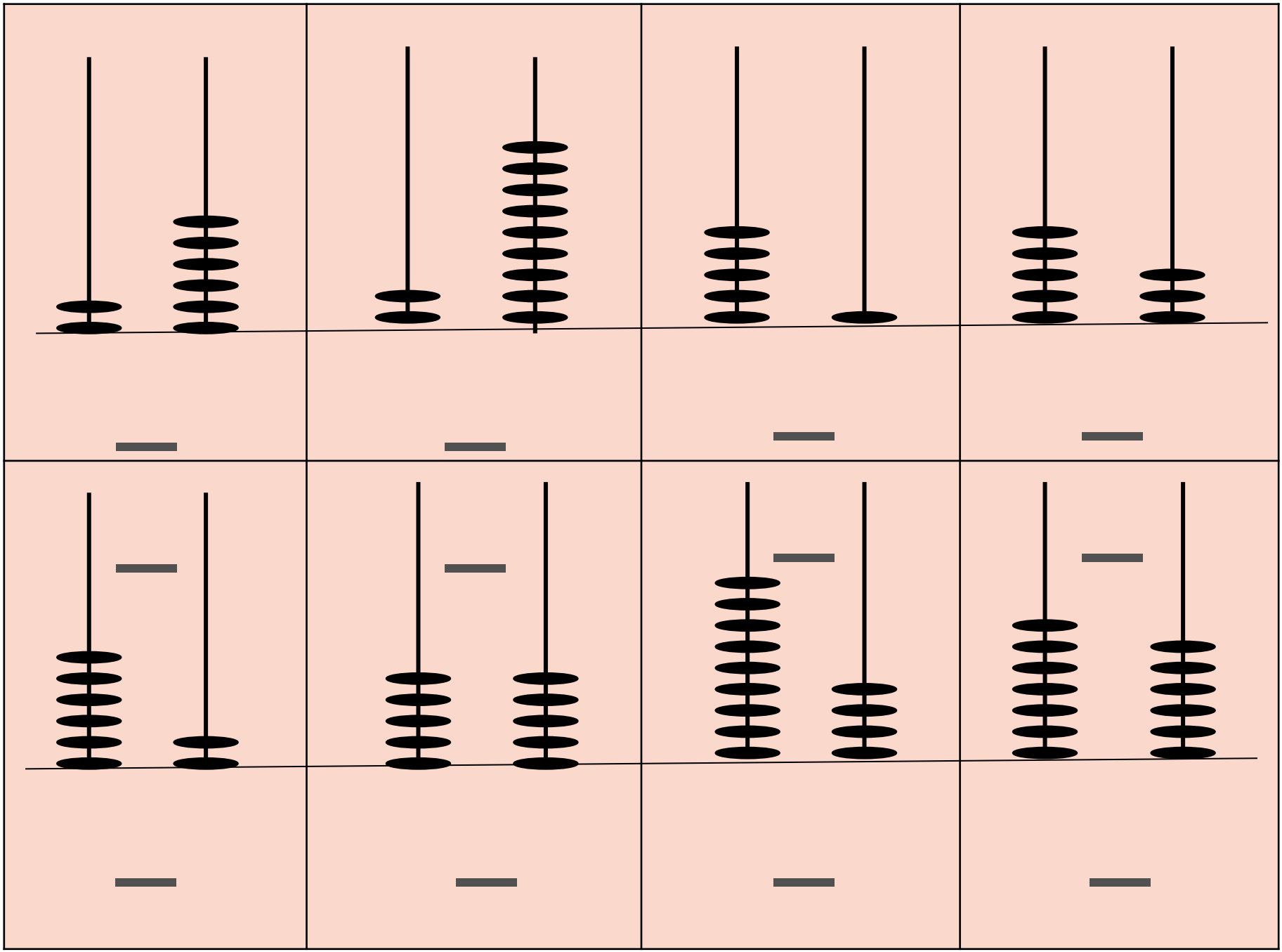


Подготовила: учитель начальных классов
МБОУ СШ №9 г.Красноуфимска
Пролубщикова Наталья Владимировна

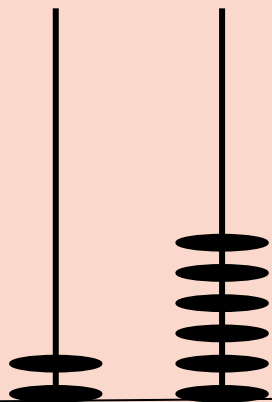
Задание

1. Запиши числа по их изображению на счётах.
2. Выпиши числа в порядке **увеличения**.
3. Обведи в **кружок** числа, в которых количество десятков **больше**, чем количество единиц.

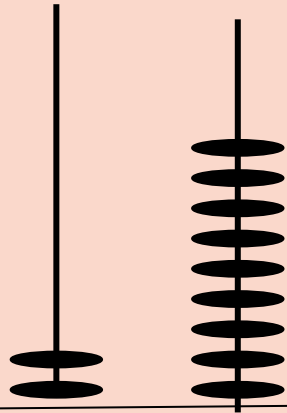




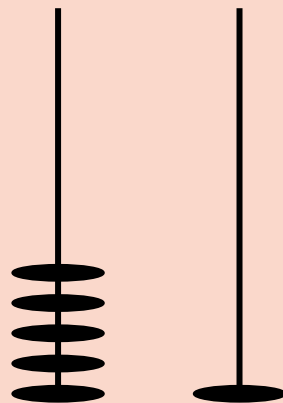
Проверь себя:



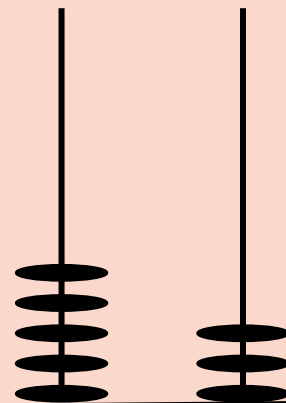
2



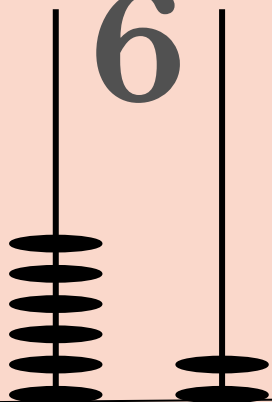
2



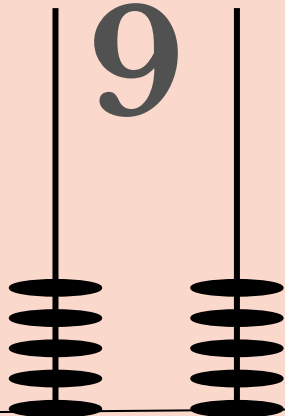
5 1



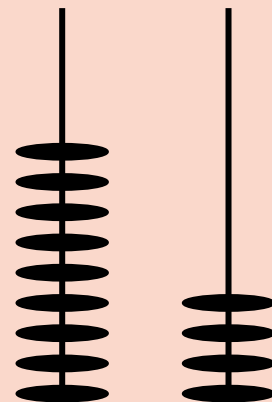
5



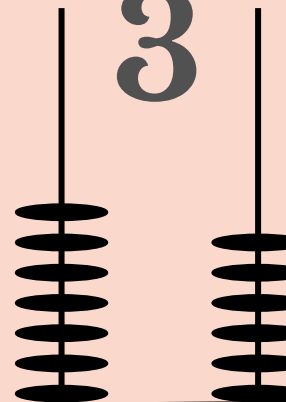
6



9



9



3

6

5

7

2

5

4

6

1. Числа записаны в порядке увеличения.

2. В кружок обведены числа, в которых количество

десятков больше, чем количество единиц.

26, 29, 51, 53, 55, 62, 76, 94





Картинка на первом и шестом слайде:

https://ru.freepik.com/premium-vector/children-playing-with-abacus_4492708.htm

Картинка на втором слайде:

<https://proshkolu.ru/user/liudmila-md/file/2719488/>

Картинка на пятом слайде:

https://ru.freepik.com/premium-vector/children-learning-math-with-abacus_3388596.htm