

Ментальная математика
«Расскажи о числах» №2
Нумерация чисел в пределах 100
2 класс



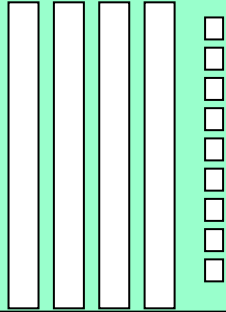
Подготовила: учитель начальных классов МБОУ СШ №9
г.Красноуфимска
Пролубщикова Наталья Владимировна

Задание

1. Дополни информацию о каждом числе в таблице.
2. Запиши числа в тетрадь в порядке возрастания.




49

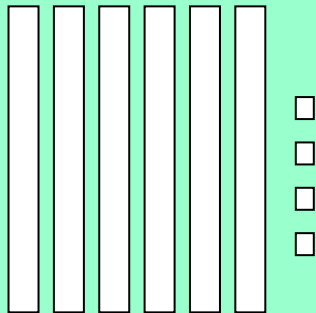


$$40 + 9 = 49$$

**Сорок
девять**



$$50 + 6 = 56$$



83

1. Картинка на первом слайде

[https://ru.freepik.com/premium-vector/
kids-and-numbers-one-to-five-2450680.
htm](https://ru.freepik.com/premium-vector/kids-and-numbers-one-to-five-2450680.htm)

2. Картинка «Мальчик в задумчивости»

[https://proshkolu.ru/user/liudmila-md/fi
le/2719488/](https://proshkolu.ru/user/liudmila-md/file/2719488/)