

Ментальная математика
«Расскажи о числах» №3
Нумерация чисел в пределах 100
2 класс



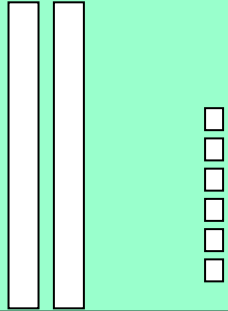
Подготовила: учитель начальных классов МБОУ СШ №9
г.Красноуфимска
Пролубщикова Наталья Владимировна

Задание

1. Дополни информацию о каждом числе в таблице.
2. Запиши числа в тетрадь в порядке убывания.




26





$$20 + 6 = 26$$

**Двадцать
шесть**



$$30 + 7 = 37$$



68

1. Картинка на первом слайде

<https://ru.freepik.com/premium-vector/kids-and-numbers-one-to-five-2450680.htm>

2. Картинка «Мальчик в задумчивости»

<https://proshkolu.ru/user/liudmila-md/file/2719488/>