

Ментальная математика
«Расскажи о числах» №5
Нумерация чисел в пределах 100
2 класс




Подготовила: учитель начальных классов МБОУ СШ №9
г.Красноуфимска
Пролубщикова Наталья Владимировна

Задание

1. Дополни информацию о каждом числе в таблице.
2. Запиши числа в тетрадь, обведи в кружок только чётные числа.




26





$$20 + _ = _$$

Двадцать
шесть



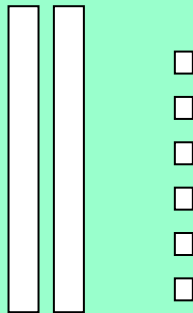
$$70 + 1 = _$$



35

Проверка:


26



$$20 + \underset{6}{\overline{6}} = \underset{6}{\overline{26}}$$

Двадцать
шесть


7 1



$$70 + 1 = \underline{71}$$

Семьдесят
один

8

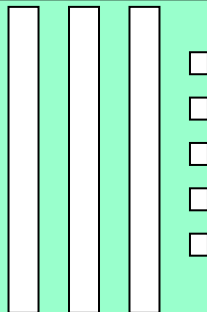


$$80 + 4 = \underset{4}{8}$$

Восемьдесят
четыре

4

35



$$30 + 5 = 35$$

Тридцать пять

1. Картинка на первом слайде

<https://ru.freepik.com/premium-vector/kids-and-numbers-one-to-five-2450680.htm>

2. Картинка «Мальчик в задумчивости»

<https://proshkolu.ru/user/liudmila-md/file/2719488/>