

Математика

►7. Тема: «Много. Один»

1 класс; часть **1**; «Числа от **1** до **10**: Нумерация»; автор: Иван Арапов

Новый раздел!

Числа от **1** до **10**

Нумерация

Выполните задание



О чём можно сказать
много? *один?*

Выполните задание



Рассмотрите рисунок.

Сколько деревьев в лесу?

(много)

Сколько ёлочек на поляне?

(одна)


Сколько грибов в корзине?

(много)

Сколько грибов у девочки в руках?

(один)

Выполните задание



квадратов?

(один)

точек?


(одна)

Какое время показывают часы?

(один час)

Какой цифрой это обозначают?

Выполните задание




О чём можно сказать *много*?

О чём можно сказать *один*?

одна? одно?

Задание повышенной сложности

Определите, кто с каким клубком играет, если у
и клубки одинакового цвета, а у и
— одинакового размера



Задание повышенной сложности

Закончи рассуждения:




и

играют с клубками своего цвета,

значит,



... играет с клубком красного цвета.



Разгадайте ребус и узнайте тему
следующего урока

“1”



Урок закончен!

Домашнее задание:

раб. тетр. стр. **9**
(до синей линии)

Источники:

<https://catalog.prosv.ru/item/38898>