

Математика

► **6.** Тема: **«Насколько больше? На сколько меньше?»**

1 класс; часть **1**; «Подготовка к изучению чисел»; автор: Иван Арапов

Выполните задание

Определите по рисунку, хватит ли кружек на всех козлят?

(нет)

Сколько ещё нужно положить кружек, чтобы хватило каждому козлёнку и маме-козе?

(две)

Хватит ли пирожков на всю семью?

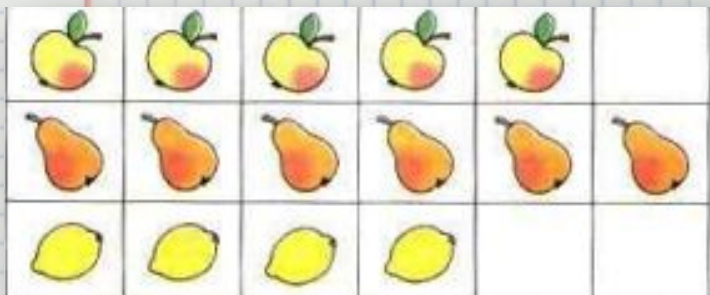
(да)

А баранок?

(да)

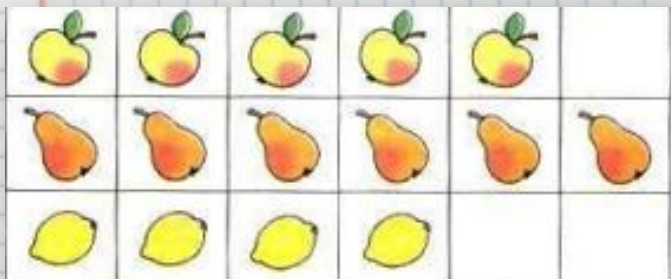


Выполните задание



Скажите, чего больше?
меньше? На сколько
больше?

Выполните задание



Как можно двумя способами уравнять любые две группы предметов из трёх заданных. Расскажите, используя слова: *добавить, убрать.*

Выполните задание

Определите, не
пересчитывая, всем ли
хватит по одной лопате?

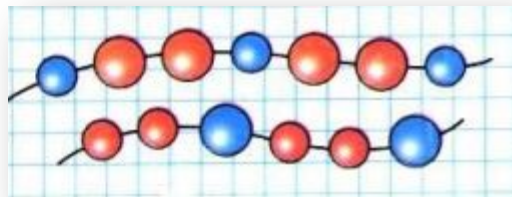
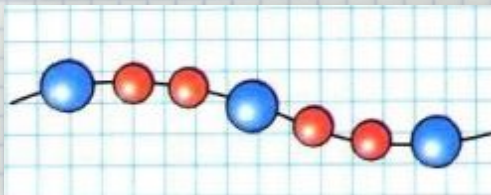
(нет)

А по одному ведру?

(да)




Задание для интерактивной доски



Покажите стрелкой
каким кусочком
нужно продолжить
бусы.



Проверь себя и оцени свои успехи



Сравните картинки. Где помидоров больше: справа или слева?

(слева)

Где меньше?

(справа)

Как можно изменить рисунки так, чтобы помидоров на них стало поровну.

(добавить на правую картинку один помидор)

Урок закончен!

Домашнее задание:

раб. тетр. стр. **8**

Источники:

<https://catalog.prosv.ru/item/38898>