

Всероссийский дистанционный конкурс
педагогического мастерства для учителей
технологии

«Контрольная работа в формате теста»

Новогодний тест по технологии

«В мастерских Деда Мороза» 3 класс



Автор: учитель начальных классов
МАОУ СШ №9 г.Красноуфимска
Свердловской области
Пролубщикова Наталья Владимировна
2020

Приветствую тебя, мой юный технолог!

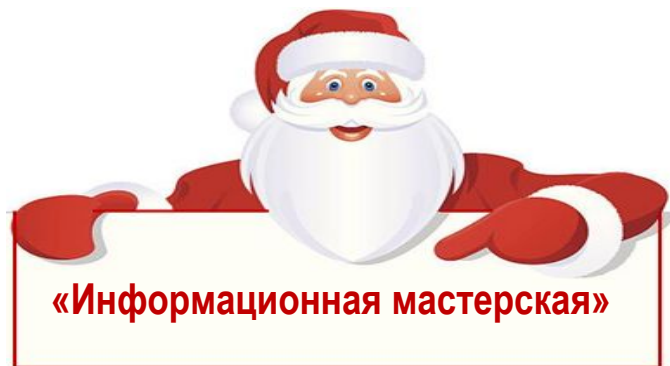
Совсем скоро наступит самый волшебный праздник – Новый год!

Дед Мороз уже готовит для нас подарки. Сегодня ты попадёшь в мастерские Деда Мороза. Ты посетишь «Информационную мастерскую», «Мастерскую скульптора» и «Мастерскую Рукодельниц».

Помоги Деду Морозу ответить на вопросы. Тест состоит из 10 вопросов.

Внимательно читай задания и выбирай правильные ответы. За каждый правильный ответ ты будешь получать баллы. Постарайся правильно ответить на все вопросы.





Лист 1

Дед Мороз выполняет эскизы подарков на компьютере. Ему нужно знать, что такое компьютер и из каких частей он состоит. Помоги Деду Морозу ответить на вопросы.

Вопрос №1

Что такое компьютер?

Закрась звездочку рядом с правильным ответом.



1

Электронное вычислительное устройство



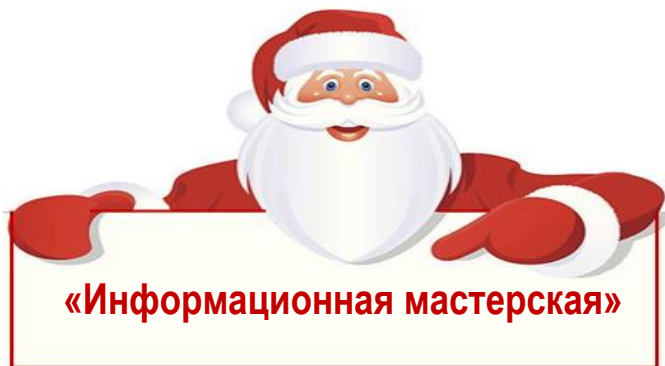
2

Устройство для хранения информации



3

Сложное электронное устройство для работы с информацией



Лист 2

Вопрос №2

Установи соответствие между частями компьютера и их определениями. Поставь стрелки.

Принтер

В нём находятся компоненты, обеспечивающие работу компьютера

Клавиатура,
мышь

Устройство для отображения информации


Системный блок

Устройства для ввода информации

Монитор

Печатающее устройство

Лист 3



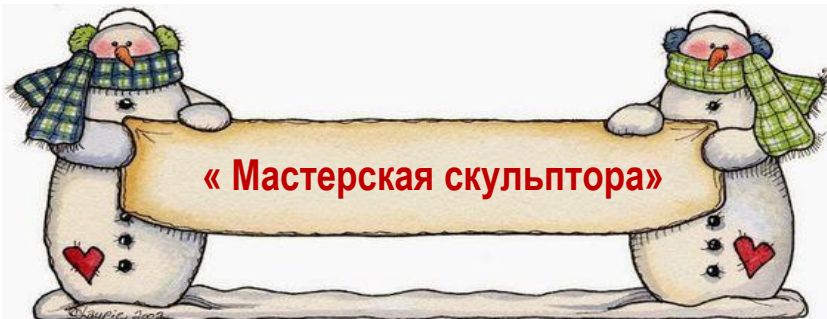
Вопрос №3

Дед Мороз сделал в качестве подарка
дымковскую
игрушку – лошадку.
Какой способ создания игруш
он использовал?



- от 3а
- | | |
|---|------------------|
| 1 | Резьб |
| 2 | а
Лепк
а |
| 3 | Высекани |
| 4 | е
Отливк
а |

Лист 4



Вопрос №4

Определи последовательность изготовления игрушки.



Запиши номера операций в звёздочки.



Роспис



ь
Побелк
а




Лепк



а
Обжи

г



Вопрос №5

Установи соответствие между видами рельефа и их определениями. Поставь стрелки.

Барельеф

Изображение, врезанное
вглубь,
Вдавленное.

Горельеф

Изображение, немного
выступающее над
плоскостью

Контррельеф

Изображение, сильно
выступающее над
плоскостью

Лист 5

Лист 6



Вопрос №6

Дед Мороз сделал вот такую ёлочку из солёного теста.

Укажи, какой вид рельефа он использовал?



Закрась звёздочку рядом с правильным ответом.



1

Барелье

ф



2

Контррель

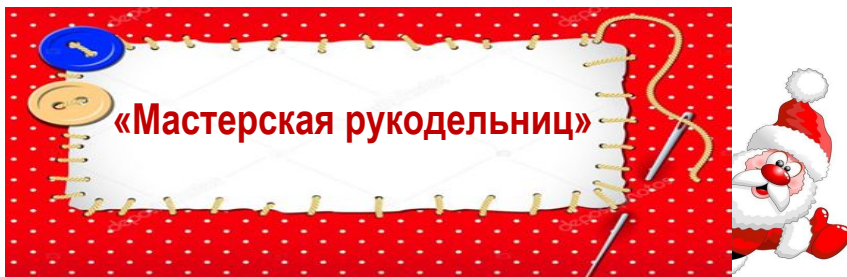
еф



3

Горелье

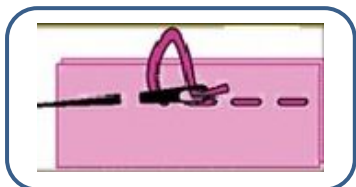
ф



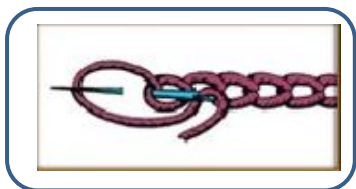
Лист 7

Вопрос №7

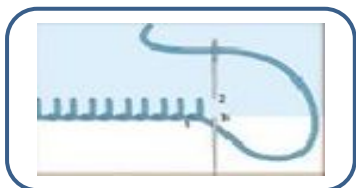
Установи соответствие между картинками и видами стежков. Поставь стрелки.



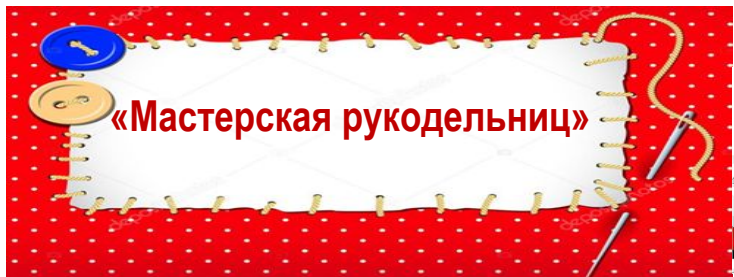
Петельный



Вперёд иголку



Тамбурный



Лист 8

Вопрос №8

В мастерской Деда Мороза изготовил объёмную звездочку из ткани. Какой вид стежка использовали для соединения деталей?



Закрась звёздочку рядом с правильным ответом.



Вперёд
иголку

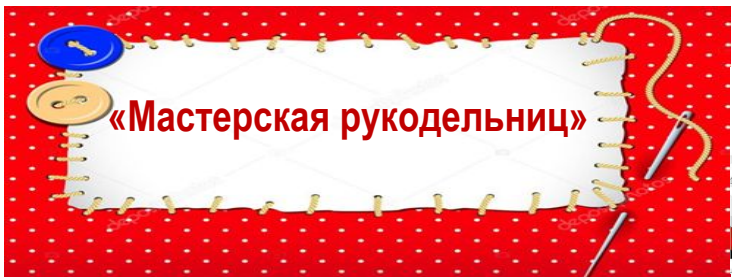


Петельн
ый



Тамбурны
й





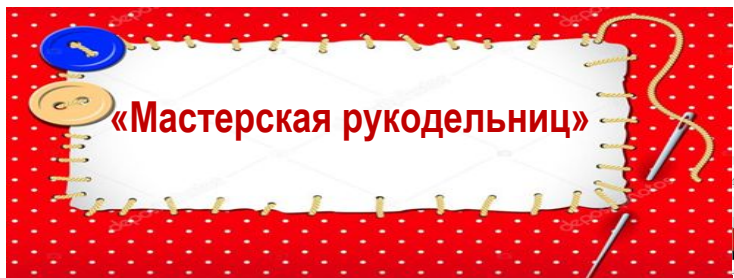
Лист 9

Вопрос №9

Для того, чтобы сшить такую игрушку необходимо приготовить лекало. Найди лекало, по которому сшита ёлочка.

Закрась звёздочку рядом с правильным ответом





Лист 10

Вопрос №10

Какой вид стежка использовали для соединения деталей ёлочки?



Закрась звёздочку рядом с правильным ответом.



Вперёд
иголку



Петельн
ый



Тамбурны
й

Лист


11

Самооценка

Оцени свою работу, раскрась
звёздочку:



У меня всё получилось.



Были небольшие
затруднения.



Мне было трудно.

Лист 12

Раскрась
открытку

С Новым Годом!

