An aerial photograph of a river winding through a lush green forest. The river forms a large loop, with a sandy bank visible on the inner curve. The text is overlaid on the image in yellow and white.

Презентация к уроку по учебному
предмету «География» в 7 классе на
тему

«БРАЗИЛИЯ»

Автор: Збитнева Наталья
Викторовна
учитель географии 1
категории

БОУ города Омска «Гимназия
№ 159»

- сформировать представление о Бразилии:
особенностях природы, населении и его хозяйственной деятельности, традициях и быте;
- продолжить формирование умения работать с картами.

Карта оценки качества знаний по теме « Бразилия»

Фамилия, имя учащегося _____

7 класс

| УЭ(уч. элемент) | Изучение темы | Знаю все, умею | Не совсем уверен, не совсем умею | Не знаю, не умею | Следует повторить к следующему уроку | Отметка учителя |
|-----------------|---|-------------------------------------|---|---|--|-----------------|
| | | | | | | |
| УЭ-1 | Географическое положение Бразилии | Все ответы теста верные | Допустил 2 ошибки в тесте | Допустил 3-4 ошибки в тесте | п.39 Стр 156 учебника | |
| УЭ-2 | Природа Амазонской низменности | Все ответы теста верные | Допустил 2 ошибки в тесте | Допустил 3-4 ошибки в тесте | п.38 Стр 152 учебника | |
| УЭ-3 | Особенности природы Бразильского плоскогорья | Все ответы теста верные | Допустил 2 ошибки в тесте | Допустил 3-4 ошибки в тесте | Стр 151 учебника | |
| УЭ-4 | Главные черты населения и хозяйства | Все ответы теста верные | Допустил 2 ошибки в тесте | Допустил 3-4 ошибки в тесте | п.39 Стр 157 учебника | |
| | Оценить своё умение пользоваться картой как важнейшим источником знаний для решения поставленных задач. | Все задания по карте выполнил верно | Допустил 1-2 ошибки при работе с картой | Допустил 3-4 ошибки при работе с картой | Требуется дополнительная работа с картой | |
| | | Большой рюкзачок | Средний рюкзачок | Маленький рюкзачок | | |

1. Географическое положение Бразилии

● Работа с картой

1. Охарактеризуйте географическое положение Бразилии.

- Как расположена территория страны по отношению к экватору, южному тропику? Сделайте вывод о влиянии географического положения Бразилии на ее климат.



ЮЖНАЯ АМЕРИКА



- С какими странами граничит Бразилия?
- По каким природным объектам проходит граница?
- Какие океанические течения находятся у берегов страны? Как они влияют на ее климат?

Вопросы для самоконтроля по микротеме: Географическое положение Бразилии

1. Бразилия находится на материке:

1. Африка 2. Южная Америка 3. Евразия 4. Северная Америка

2. С какими государствами граничит Бразилия?

1. Венесуэла 2. Индия 3. Франция 4. Мексика

3. Экватор пересекает Бразилию на:

1. Западе 2. Востоке 3. Севере 4. Юге

4. Южный тропик пересекает Бразилию на:


1. Западе 2. Востоке 3. Севере 4. Юге

5. Водами какого океана омывается Бразилия?

1. Северного Ледовитого 2. Тихого 3. Индийского 4. Атлантического

6. Какие течения проходят вдоль Бразилии?

- 1. Бразильское и Гвианское 2. Лабрадорское и Бразильское
- 3. Канарское и Гвианское 4. Перуанское и Бразильское

- 
- Определите на сколько различных по рельефу частей можно разделить Бразилию. Назовите основные формы рельефа, расположенные на территории страны.

НИЗМЕННОСТЬ

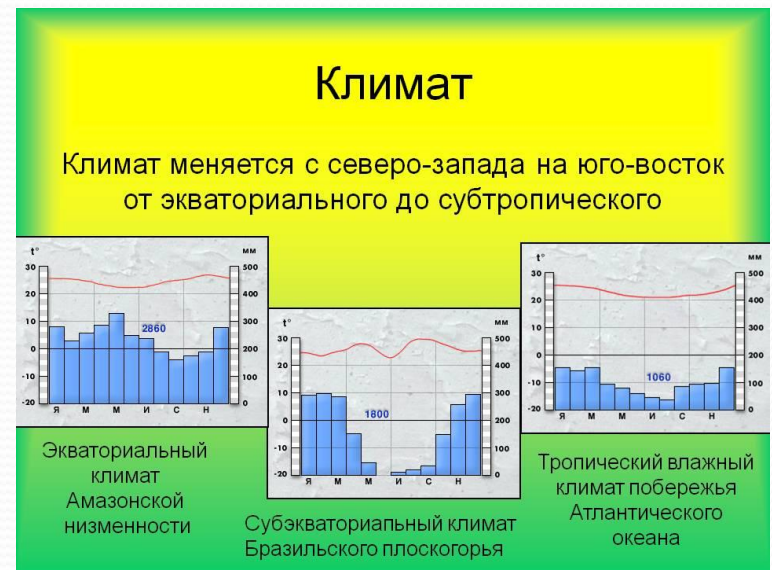


Амазонская
низменность -
северная часть
Бразилии, покрыта
влажными
экваториальными
лесами, которые
называются
сельвой

Анализ климатограммы

● План работы

- 1. Внимательно рассмотрите все обозначения на диаграмме
- 2. Что по ней можно узнать?
- 3. Выясните годовой ход температур.
- Чему равна температура в январе и в июле? Определите амплитуду температур.
- 4. Какое количество осадков характерно для данного типа климата?
- 5. Режим осадков.
- 6. Сделайте вывод о типе климата



Природа Амазонии



- . Растительность образует непроходимые многоярусные заросли из фикусов, пальм, каучуконосных деревьев гивея, деревьев какао, множество орхидей

Амазонка



- **Амазонка имеет сложный и своеобразный режим. Она полноводна в течении всего года. На долю Амазонки приходится 15-17% от стока всех рек земного шара.**

План описания реки

| План описания реки. | Характеристика реки Амазонки |
|---|--|
| 1. В какой части материка протекает река? | В северной части материка |
| 2. Где берет начало (исток реки) и в каком направлении течет? | Образуется при слиянии 2- рек Мараньон и Укаяли, течет с запада на восток |
| 3. Куда впадает (устье)? | В Атлантический океан |
| 4. К бассейну какого океана относится? | Бассейн Атлантического океана |
| 5. Притоки: левые, правые. | Левые: Рио-Негру, Жапура, Иса Правые: Шингу, Тапажос, Мадейра, Пурус, Журуа, |
| 6. Характер течения реки в зависимости от рельефа. | Равнинный почти на всем протяжении |
| 7. Питание реки. | Дождевое |
| 8. Режим реки в зависимости от климата. | Полноводна в течении всего года |
| 9. Хозяйственная деятельность человека | Судоходна в течении всего года |
| Вывод | обильные осадки в течение всего года, большое количество притоков как в Южном так и в северном полушарии, делают Амазонку самой полноводной рекой планеты. Равнинность рельефа делает ее судоходной почти на всем протяжении |

Флора Амазонии



По берегам рек насчитывается до 700 видов орхидей.

. Здесь растут кофейное и хинное дерево, различные виды пальм, лавры кипарисы, саман - гигантская мимоза, древовидные папоротники, высотой до 3 метров, агавы, различные виды кактусов.





**В тихих заводях произрастает
интересное растение
кувшинка виктория -регия.**

**Округлые листья имеют
диаметр до 2 метров и
выдерживают вес до 50
килограмм.**



Фауна Амазонии

АНАКОНДА

Средние размеры взрослой анаконды 5-6 м, но изредка встречаются особи до 10 м длиной.



ПИРАНЬИ

Пирани принадлежат к отряду карпообразных. Самые крупные из них достигают 60 см в длину



Анаконда – самая большая змея.



Пираньи





АРАПАИМА

Известна в Бразилии под названием пираруку и является также одной из крупнейших современных пресноводных рыб. По одним данным, она достигает длины 2,4 м и веса 90 кг, по другим — 4,6 м и 200



ЧЕРНЫЙ КАЙМАН

самый крупный вид аллигаторовых и второе по величине животное Южной Америки, после Оринокского крокодила

Самая маленькая птица – колибри (вес 1,6г, длина -5,5см)



Вопросы для самоконтроля по микротеме: Природа Амазонской низменности

- 1. Крупнейшая река Бразилии:
 1. Амазонка
 2. Дунай
 3. Волга
 4. Миссури
- 2. Как называются густые непроходимые заросли в Амазонии?
 1. Патагония
 2. Сельва
 3. Пампа
 4. Прерии
- 3. Какой тип климата в Амазонии?
 1. Тропический
 2. Экваториальный
 3. Умеренный
 4. Арктический
- 4. Амазонка берет начало при слиянии каких рек:
 1. Обь и Иртыш
 2. Шилка и Аргунь
 3. Мараньон и Укаяли
 4. Бия и Катунь
- 5. В лесах Амазонии встречаются:
 1. Слоны и медведи
 2. Змеи и крокодилы
 3. Жирафы и антилопы
 4. Зайцы и волки

3. Природа Бразильского плоскогорья



- занимает центральную и южную часть Бразилии
- добывают железные, марганцевые, руды, золото, алмазы.
- Во многих местах добыча ведется
- открытым способом в связи с
- выходом горных пород фундамента
- платформы на поверхность
- четко выражен влажный и сухой сезоны года
- на реках Бразилии построены гидроэлектростанции, вырабатывающие основную часть электроэнергии страны.


Водопад: Игуасу



Вопросы для самоконтроля по микротеме: Природа Бразильского плоскогорья

- 1. Какую часть Бразилии занимает Бразильское плоскогорье?
 1. Восточную и северную
 2. Восточную и западную
 3. Центральную и южную
 4. Центральную и северную
- 2. Какие природные зоны располагаются на Бразильском плоскогорье?
 1. Влажный тропический и экваториальный лес
 2. Степи и пустыни
 3. Саванны и редколесья
 4. Широколиственный лес и саванны
- 3. Какие полезные ископаемые добывают на Бразильском плоскогорье?
 1. Нефть и золото
 2. Железные руды и золото
 3. Уголь и марганцевые руды
 4. Нефть и газ
- 4. Какие реки протекают по территории Бразильского плоскогорья?
 1. Амазонка
 2. Парана
 3. Ориноко
 4. Рио-Колорадо
- 5. Как называется самый грандиозный водопад в Бразилии?
 1. Анхель
 2. Виктория
 3. Стэнли
 4. Игуасу

4. Главные черты населения и хозяйства Бразилии






индеец



европеец



африканец



самбо



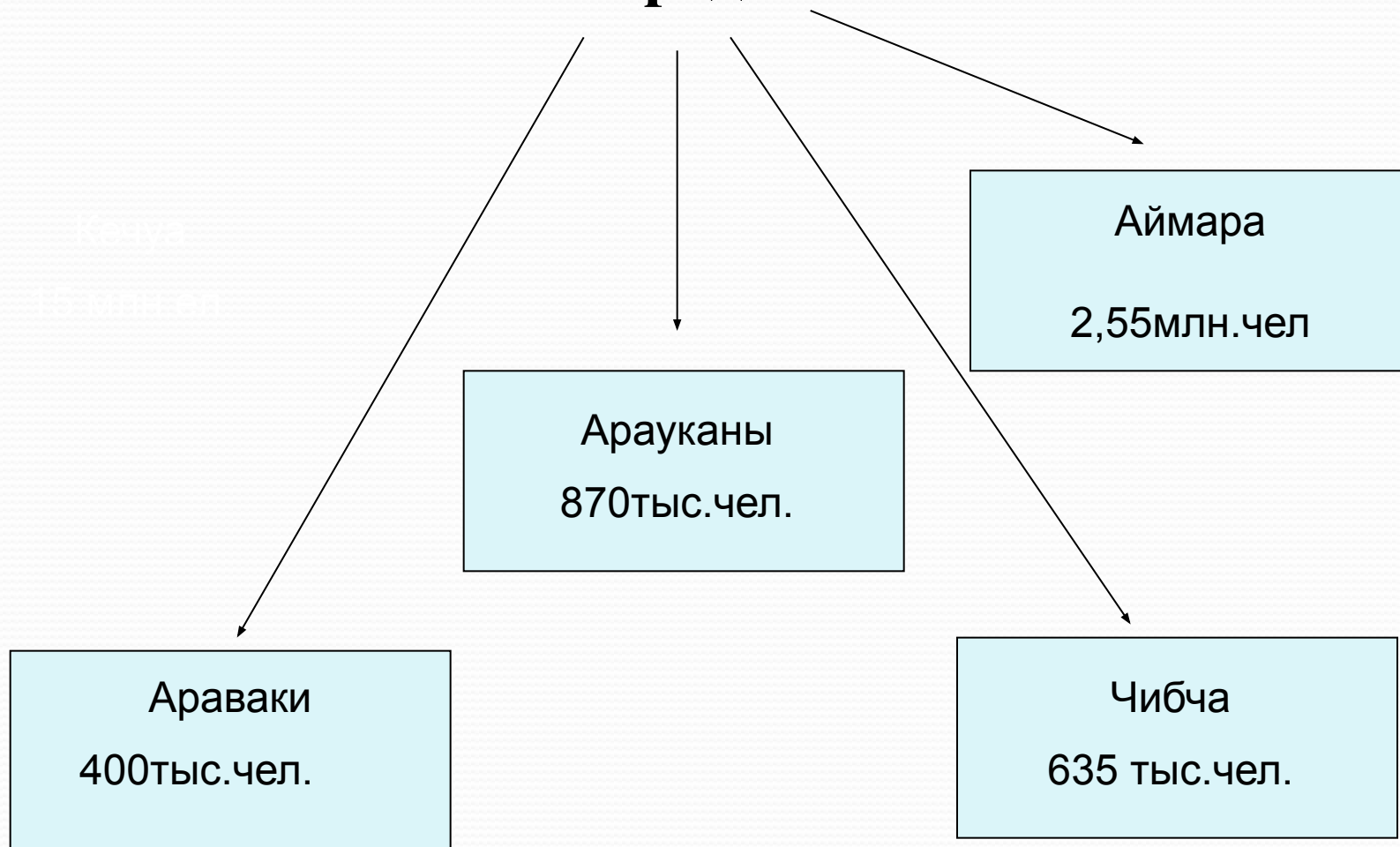
МЕТИС




мулат




Крупнейшие индейские народы



Крупнейшие индейские народы



Кечуа
(15 млн)



Аймара
(2,5 млн.)

Бразильский футбол



Пеле



FIFA WORLD CUP
Brasil

Бразильский карнавал



С 12 февраля по 16 февраля - пять дней и ночей.

Родина сельскохозяйственных культур



Вопросы для самоконтроля по микротеме

Бразильцы: происхождение, занятия, образ жизни

- 1. Какое место в мире Бразилия занимает по численности населения и площади?
 1. Первое
 2. Третье
 3. Пятое
 4. Седьмое
- 2. Коренные жители Бразилии:
 1. Европейцы
 2. Индейцы
 3. Негры
 4. Монголы
- 3. Как называются потомки от смешанных браков индейцев и африканцев?
 1. Самбо
 2. Метисы
 3. Криолы
 4. Мулаты
- 4. Какой официальный язык в Бразилии?
 1. Французский
 2. Испанский
 3. Английский
 4. Португальский
- 5. Столица Бразилии:
 1. Рио-де-Жанейро
 2. Сан -Паулу
 3. Форталеза
 4. Бразилиа

Подводим итог урока:

- 1. Бразилия занимает восточную и центральную часть Южной Америки, граничит со всеми странами материка, кроме Эквадора и Чили.
- Страна расположена в жарком тепловом поясе.
- В рельефе выделяется Амазонская низменность и Бразильское плоскогорье.
- Население Бразилии составляют представители 3 рас: европеоидной, негроидной и монголоидной.
- Бразилия известна на мировом рынке производством кофе, сахарным тростником, цитрусовыми культурами.

Достигли ли мы цели урока?

Моя рефлексия:

1. Мне было интересно на уроке да/нет
2. Мне было трудно отвечать на вопросы да/нет
3. Мне было трудно выполнять практические задания да/нет
4. Сегодня на уроке я узнал(а) _____
5. Согласны ли вы с тем, что если получили
Большой рюкзачок - усвоили материал полностью,
Средний рюкзачок – усвоили частично,
Маленький – мало что усвоил, надо еще поработать

Оценка за урок _____ моя _____ учителя.

Домашнее задание

- Параграф 39, на контурную карту нанести географические объекты Бразилии(береговую линию, рельеф, полезные ископаемые, реки, водопад, столицу, крупные города).