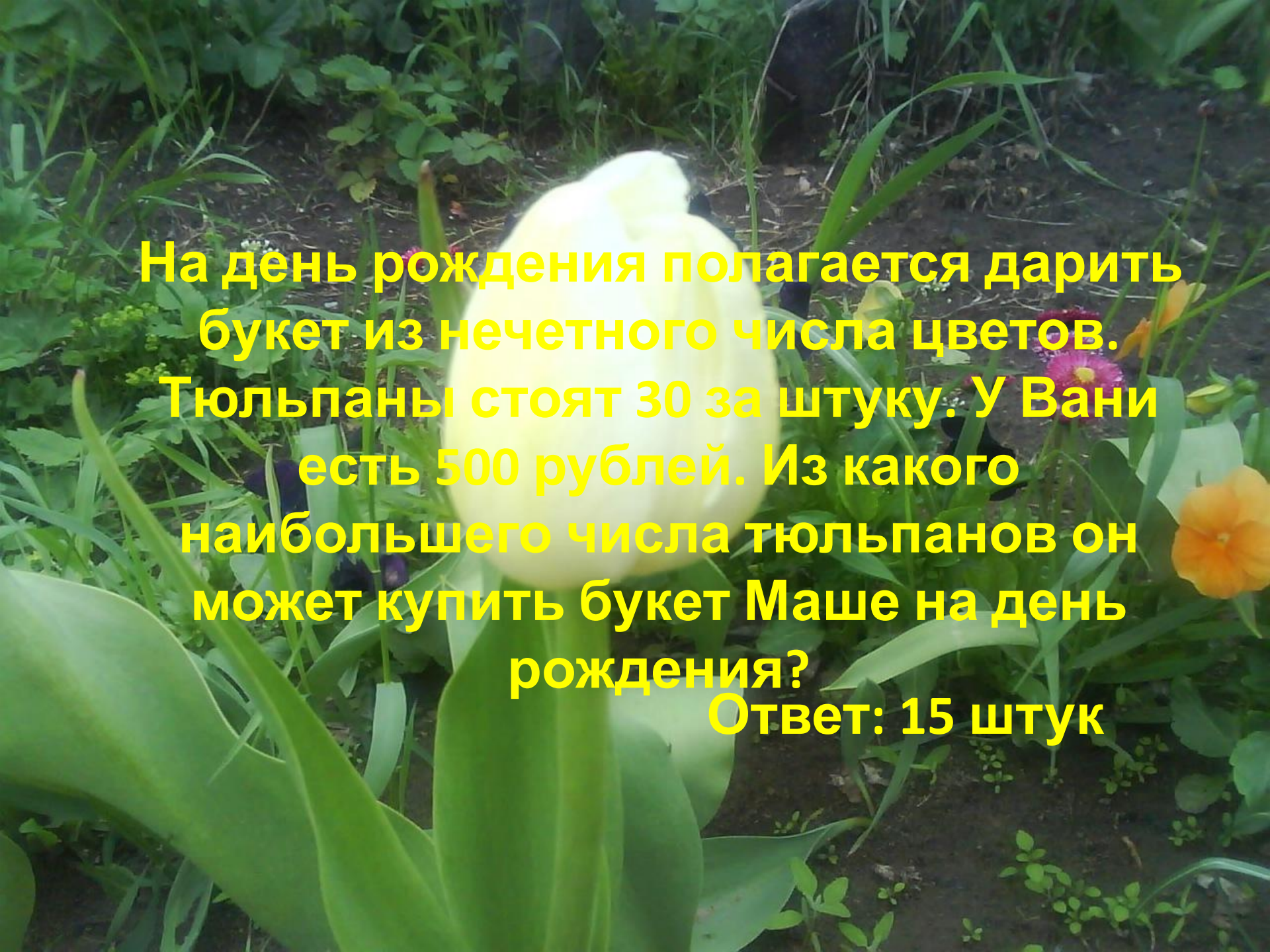


A photograph of a garden scene. In the foreground, there are several plants, including pink and red flowers, and some purple flowers. A green mesh fence is visible in the background, partially obscuring the view of the garden. The text is overlaid on the image in a bright yellow color.

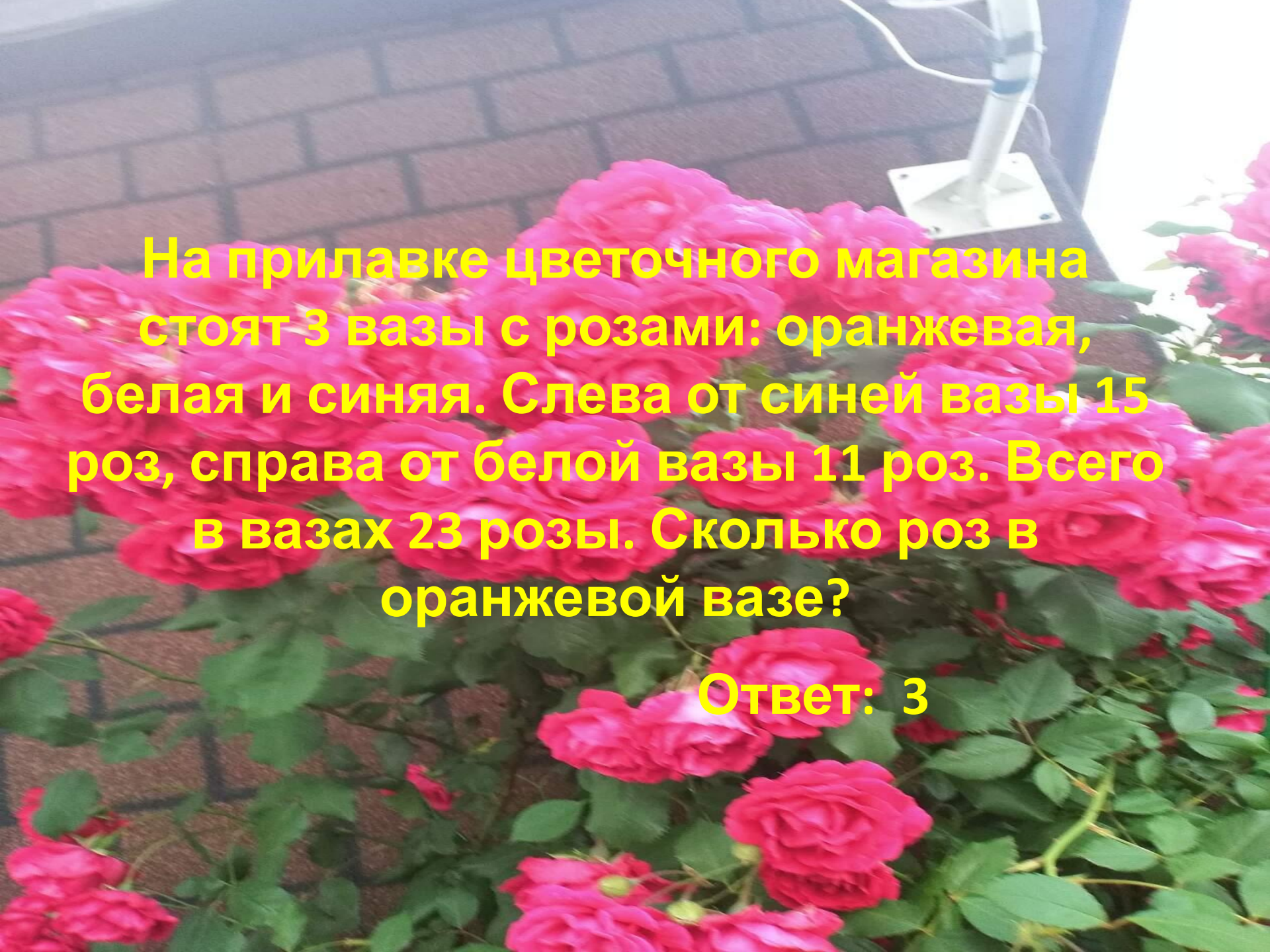
**Подготовка к ЕГЭ
(решение простейших
текстовых задач)**

**Выполнила: Чурина Елена
Вениаминовна, учитель первой
квалификационной категории
МБОУ СОШ №1 г. Южи Ивановской
области**




На день рождения полагается дарить
букет из нечетного числа цветов.
Тюльпаны стоят 30 за штуку. У Вани
есть 500 рублей. Из какого
наибольшего числа тюльпанов он
может купить букет Маше на день
рождения?

Ответ: 15 штук



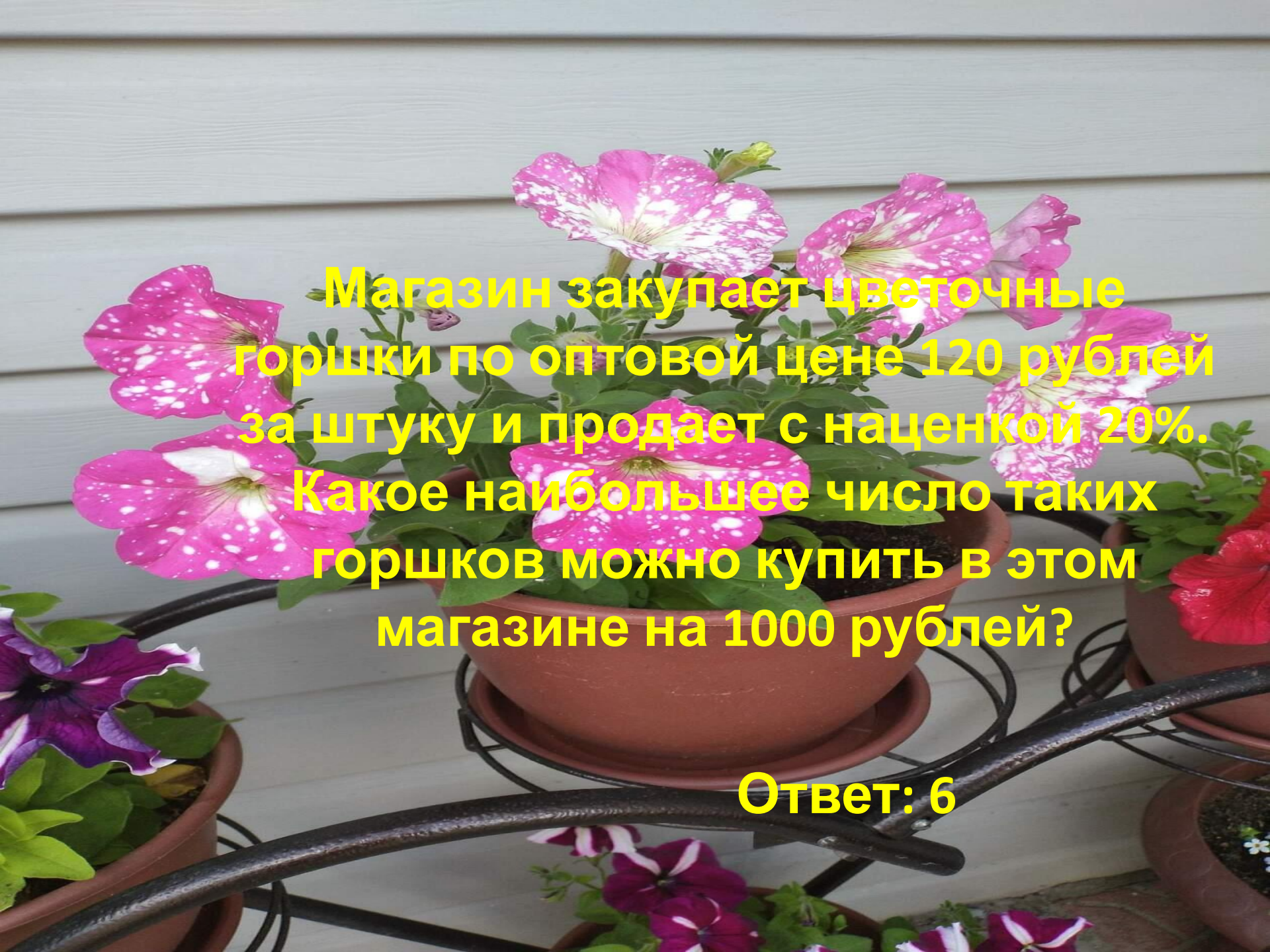
На прилавке цветочного магазина
стоят 3 вазы с розами: оранжевая,
белая и синяя. Слева от синей вазы 15
роз, справа от белой вазы 11 роз. Всего
в вазах 23 розы. Сколько роз в
оранжевой вазе?

Ответ: 3



Выпускники 11а покупают букеты цветов для последнего звонка: из 3 роз каждому учителю и из 7 роз классному руководителю и директору. Всего они собираются подарить 15 букетов, розы покупаются по оптовой цене 35 рублей за штуку. Сколько рублей стоят все розы?

1855.



**Магазин закупает цветочные горшки по оптовой цене 120 рублей за штуку и продает с наценкой 20%.
Какое наибольшее число таких горшков можно купить в этом магазине на 1000 рублей?**

Ответ: 6



ИСТОЧНИКИ:

<https://ege.sdamgia.ru>

Фото автора