

Сколько рублей сдачи получит покупатель, расплатившийся за 2 пакета молока и пакет сока купюрой в 200 рублей?



У Миши есть 800 рублей, и ему нужно купить банку кофе и 4 банки клубничного компота. На оставшиеся деньги он решил купить мороженого. Какое максимальное количество мороженого он сможет купить?



У мамы 1000 рублей. Она купила 2 кг капусты, 2 кг лука, 4 кг яблок. Определи, какое максимальное количество клубники она сможет купить на сдачу?



В таблице указаны средние цены (в рублях) на некоторые основные продукты питания в трех городах России (2010 г).

Определи, в каком из городов окажется самым дешевым следующий набор продуктов: 3 кг картофеля, 1 кг сыра, 3 литра подсолнечного масла. Ответ запиши в рублях.

Наименование продукта	Краснодар	Тамбов	Ростов –на-Дону
Пшеничный хлеб	14	14	12
Молоко (1 литр)	23	23	23
Картофель (1 кг)	12	11	13
Сыр (1 кг)	265	220	215
Мясо (говядина)	280	240	265
Подсолнечное масло (1 литр)	44	54	55



Гречневая крупа- 82 руб



Перловая крупа- 44 руб



Овсяные хлопья- 40 руб



Пшеничная крупа- 46 руб



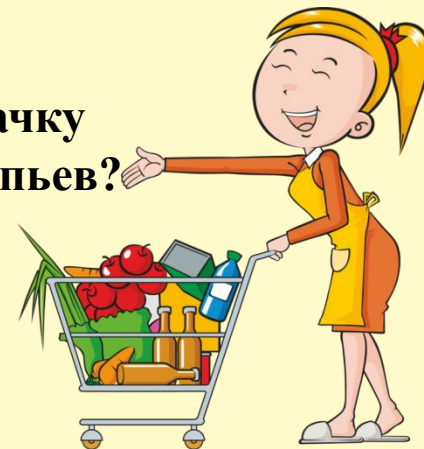
Фасоль- 100 руб



Горох- 54 руб



Сколько рублей нужно будет заплатить, если купить одну пачку фасоли, две пачки гречневой крупы и три пачки овсяных хлопьев?



У Марины есть список школьных принадлежностей, которые ей нужно купить:

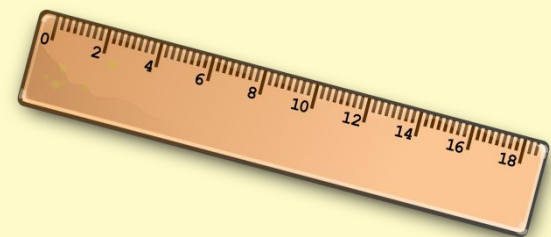
Ручка — 5 штук;

Линейка — 2 штуки;

Тетрадь — 10 штук;

Карандаш — 5 штуки.

Сколько сдачи она получит с 500 рублей?



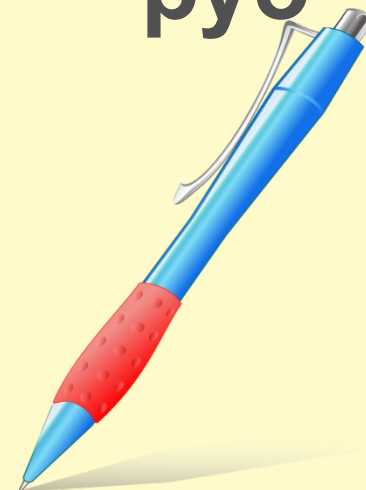
32
руб

18
руб



10
руб

22
руб



Борис на день рождения маме выбрал букет из 3 роз, 5 астр и 3 тюльпанов. Определи, сколько сдачи он получит с 500 рублей.



Роза – 55

Астра – 35

руб

Лилия – 115



Пион – 33

Тюльпан – 38

№ задания	1	2	3	4	5	6	7
Ответ	45	6	3	Тамбов	384	96	46