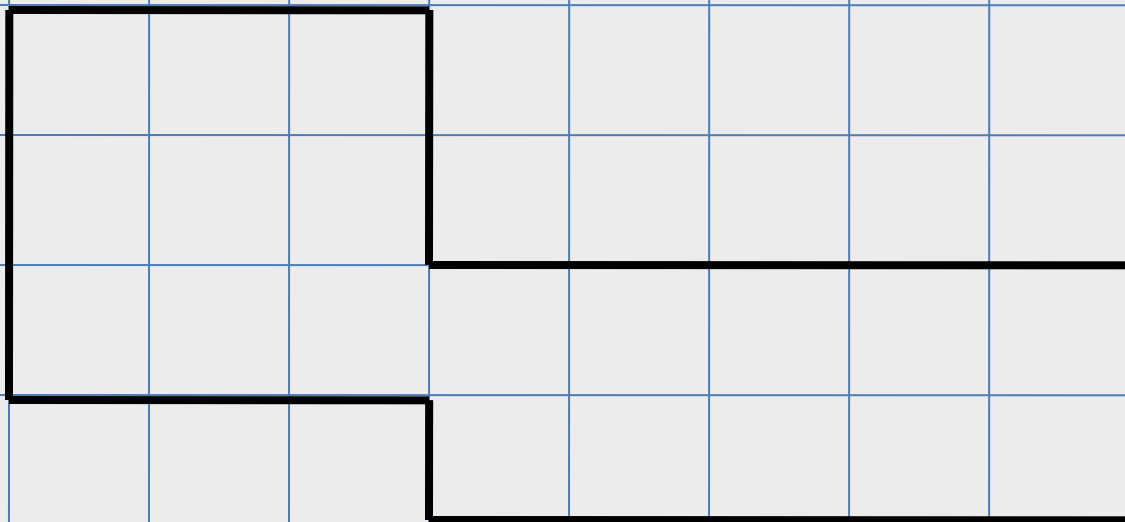


Подготовка к ВПР по математике. Задание 5. Часть 1

Подготовила: Фокина Лидия Петровна,
учитель начальных классов МБОУ «СОШ ст. Евсино»
Искитимского района Новосибирской области
2020



1 см




1. Начерти данную фигуру.
2. Найди площадь этой фигуры.

Ответ: 19 см^2 площадь фигуры.



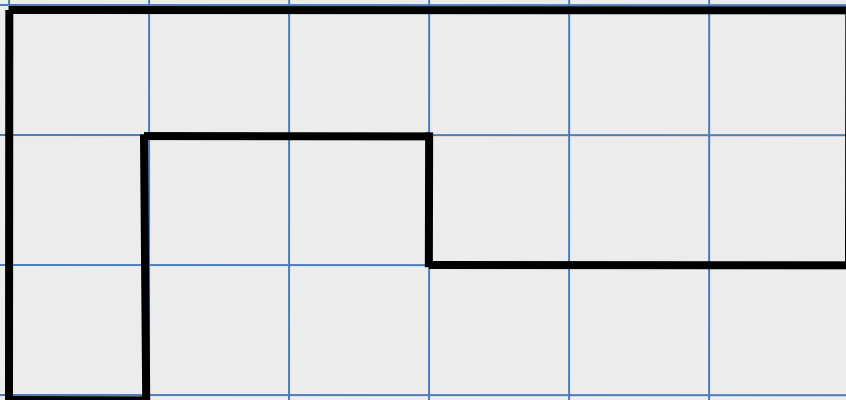
1 см



Проведи прямую так, чтобы эта фигура была разбита на квадрат и прямоугольник.



1 см

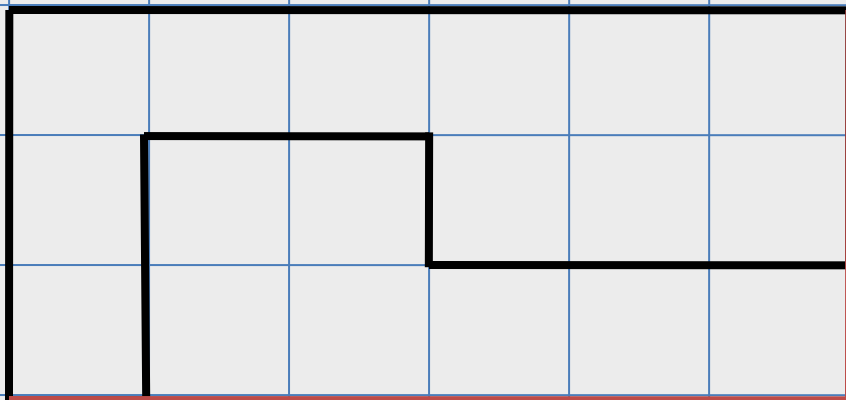


1. Начерти данную фигуру.
2. Найди площадь этой фигуры.

Ответ: 11 см^2 площадь фигуры.



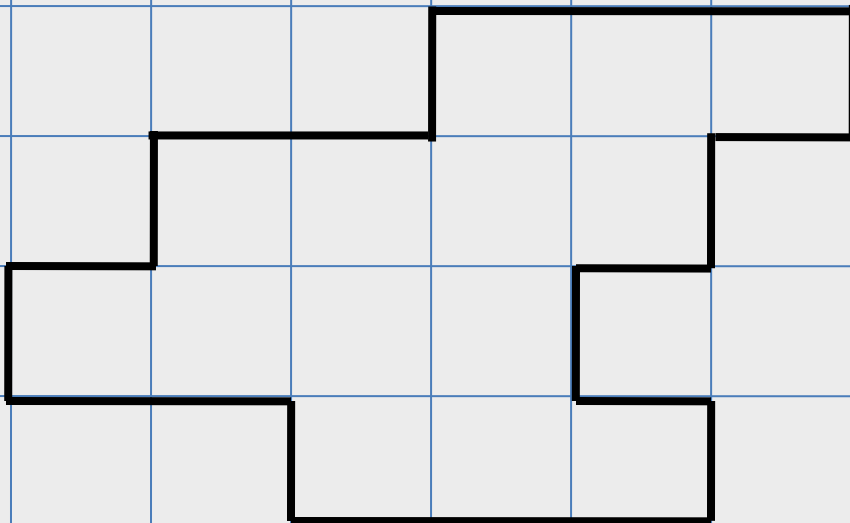
1 см



Начерти на рисунке прямоугольник со сторонами 3 см и 6 см так, чтобы вся изображённая фигура была частью этого прямоугольника.



1 см




1. Начерти данную фигуру.
2. Найди периметр этой фигуры.

Ответ: 22 см периметр фигуры.

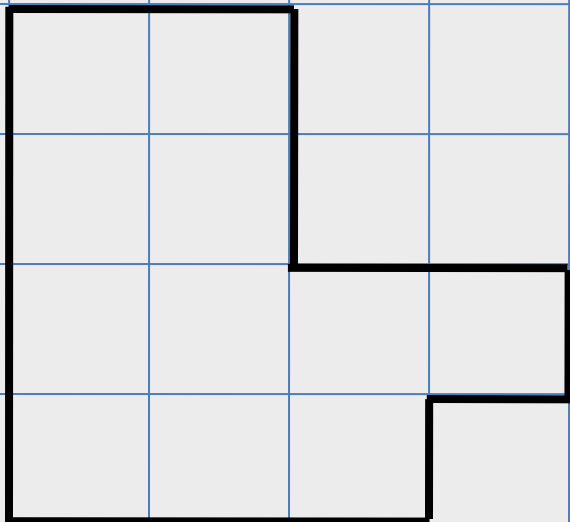


1 см

Начерти по клеткам прямоугольник со стороной 8 см, периметр которого равен периметру данной фигуры.



1 см



1. Начерти данную фигуру.
2. Найди периметр этой фигуры.

Ответ: 16 см периметр фигуры.



1 см



Дорисуй изображённую фигуру так,
чтобы получились три квадрата.



Информационные источники

- Фон http://styleindisign.narod.ru/fon/kol/cryst_ljblue.jpg
- Лист бумаги https://encrypted-tbn0.gstatic.com/images?q=tbn:ANd9GcTy3niFA+Hu3cmv2ywVLCioYfGs1H5liIX1i9J8_Vijgh3DzJ4q
- Карандаш https://png.pngtree.com/element_origin_min_pic/16/08/26/2057c03370cca95.jpg
- Прошивка https://img-fotki.yandex.ru/get/6408/16969765.31/0_67c07_3896c06cL.png

Кравцова С. А., Резникова Н. М., Уринаева С. А., Федотенко С. В. ВПР. Русский язык. Математика. Окружающий мир. 15 тренировочных вариантов. ЛЕГИОН/ Ростов-на-Дону, 2020

На момент создания ресурса все ссылки являются активными!

