

Математика 2 класс
Начальная школа 21 века
Etnika27

ДИСТАНЦИОННОЕ ОБРАЗОВАНИЕ
#МОИВОЛШЕБНИКИ

ТЕМА: ВО СКОЛЬКО РАЗ БОЛЬШЕ ИЛИ МЕНЬШЕ
(ПОВТОРЕНИЕ)

Какое слово я загадала?

$$25+20=\text{Л}$$

$$6*9=\text{К}$$

$$72:8=\text{А}$$

$$7*6=\text{Ш}$$

$$97-17=\text{О}$$

42	54	80	45	9

ТЕМА: ВО СКОЛЬКО РАЗ БОЛЬШЕ ИЛИ МЕНЬШЕ (ПОВТОРЕНИЕ)

42	54	80	45	9
			Л	

ТЕМА: ВО СКОЛЬКО РАЗ БОЛЬШЕ ИЛИ МЕНЬШЕ (ПОВТОРЕНИЕ)

42	54	80	45	9
	К		Л	

ТЕМА: ВО СКОЛЬКО РАЗ БОЛЬШЕ ИЛИ МЕНЬШЕ (ПОВТОРЕНИЕ)

42	54	80	45	9
	К		Л	А

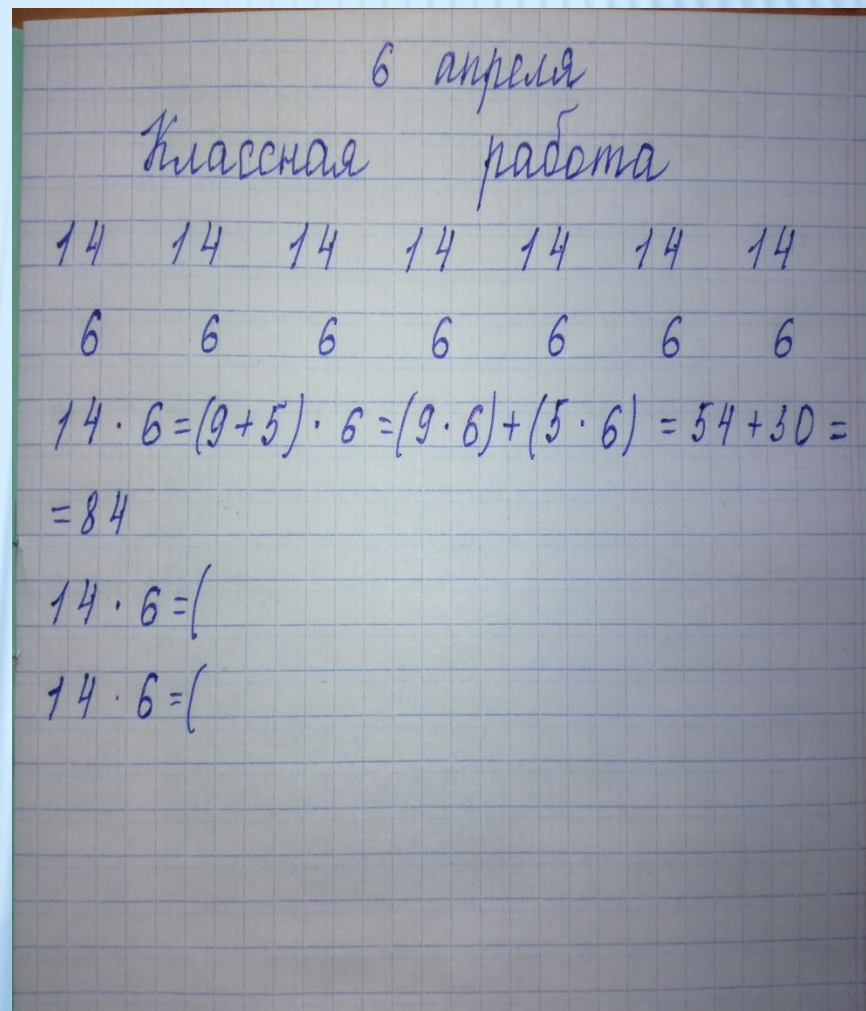
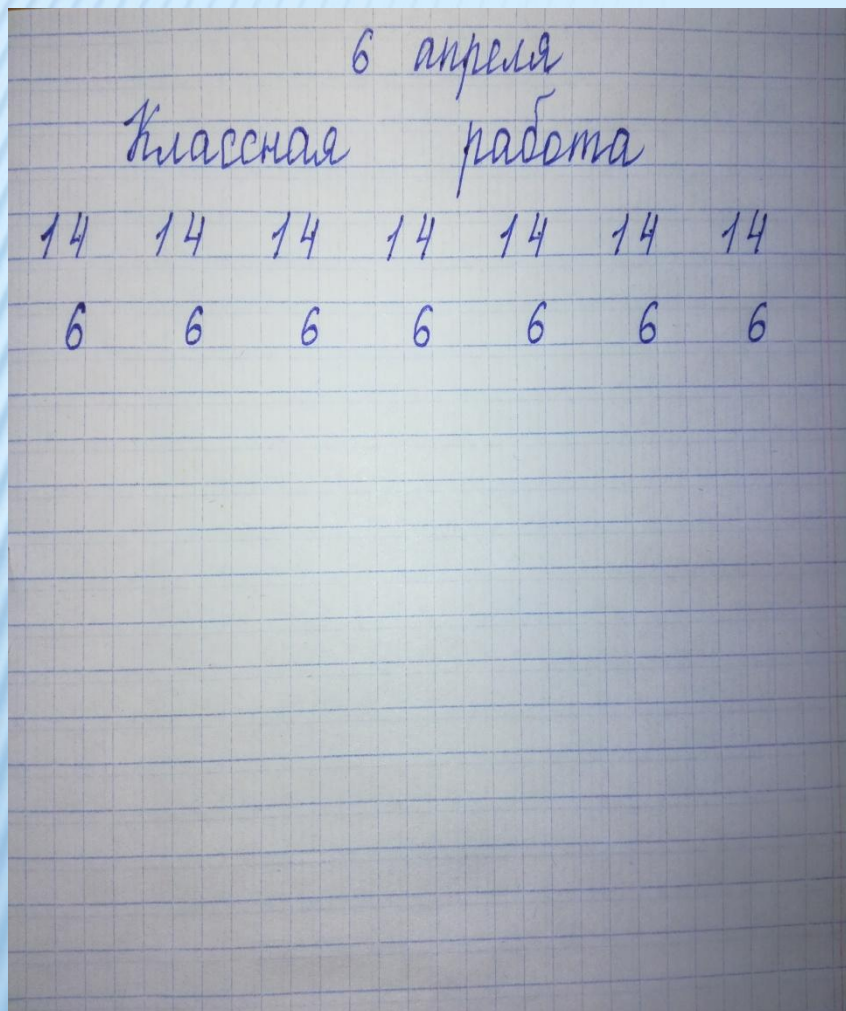
ТЕМА: ВО СКОЛЬКО РАЗ БОЛЬШЕ ИЛИ МЕНЬШЕ (ПОВТОРЕНИЕ)

42	54	80	45	9
Ш	К		Л	А

ТЕМА: ВО СКОЛЬКО РАЗ БОЛЬШЕ ИЛИ МЕНЬШЕ (ПОВТОРЕНИЕ)

42	54	80	45	9
Ш	К	О	Л	А

ТЕМА: ВО СКОЛЬКО РАЗ БОЛЬШЕ ИЛИ МЕНЬШЕ (ПОВТОРЕНИЕ)



ТЕМА: ВО СКОЛЬКО РАЗ БОЛЬШЕ ИЛИ МЕНЬШЕ
(ПОВТОРЕНИЕ)

6 апреля

Классная работа

14 14 14 14 14 14 14 14 14 14 14
6 6 6 6 6 6 6 6 6 6 6

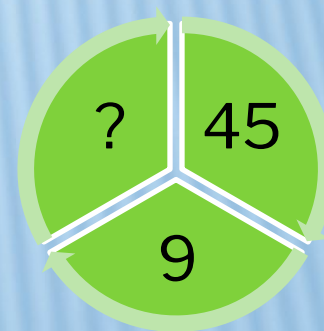
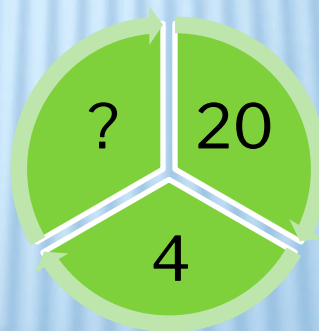

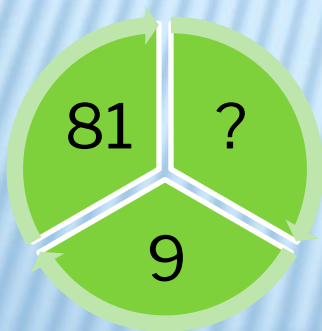
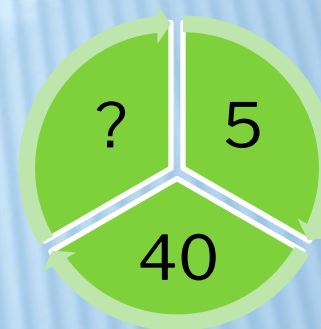
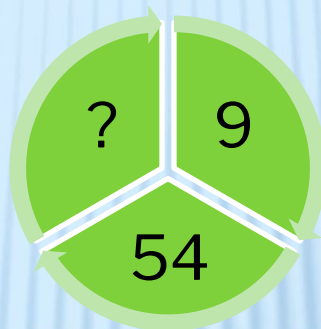


$$14 * 6 = (9 + 5) * 6 = (9 * 6) + (5 * 6) = 54 + 30 = 84$$

$$14 * 6 = (8 + 6) * 6 = (8 * 6) + (6 * 6) = 48 + 36 = 84$$

$$14 * 6 = (7 + 7) * 6 = (7 * 6) + (7 * 6) = 42 + 42 = 84$$

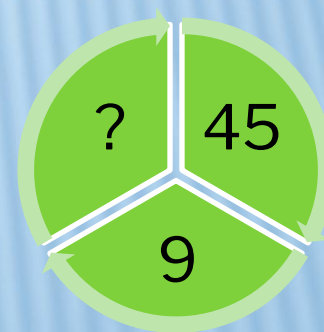
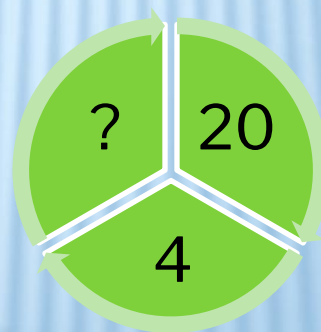

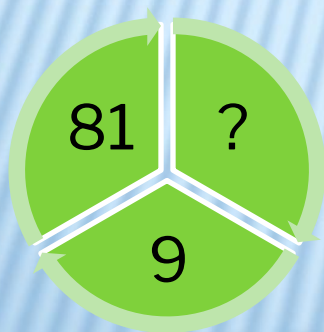
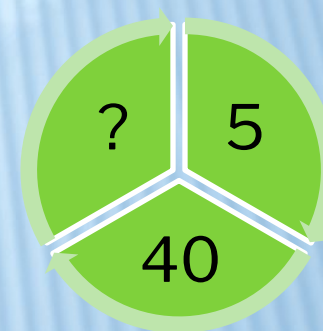

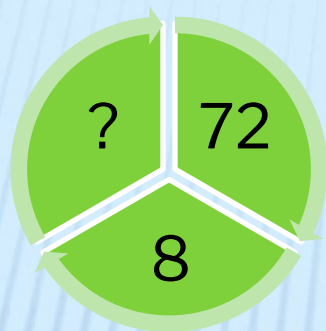
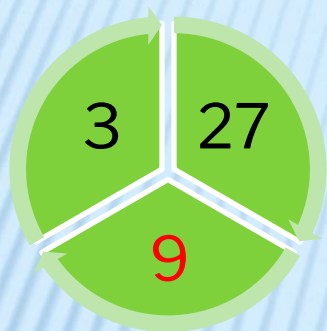
ТЕМА: ВО СКОЛЬКО РАЗ БОЛЬШЕ ИЛИ МЕНЬШЕ (ПОВТОРЕНИЕ)

Вставьте недостающее число



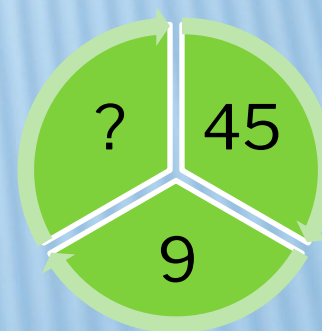
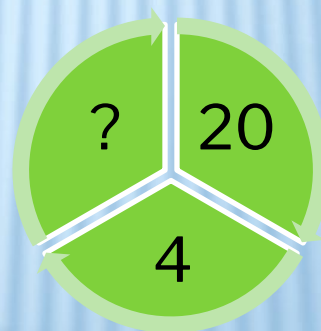

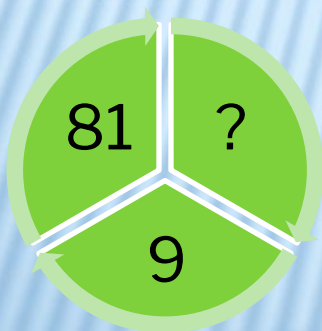
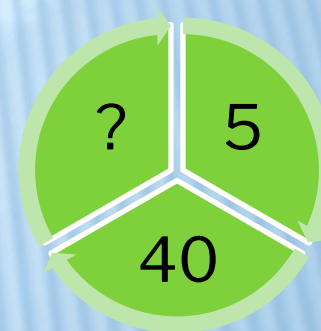

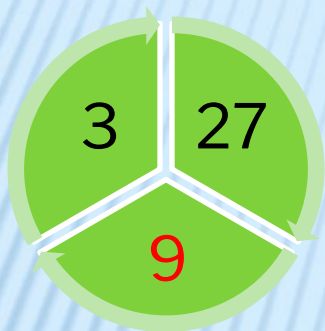
ТЕМА: ВО СКОЛЬКО РАЗ БОЛЬШЕ ИЛИ МЕНЬШЕ (ПОВТОРЕНИЕ)

Вставьте недостающее число



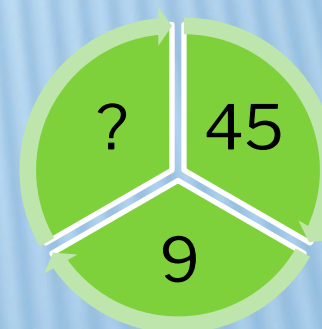
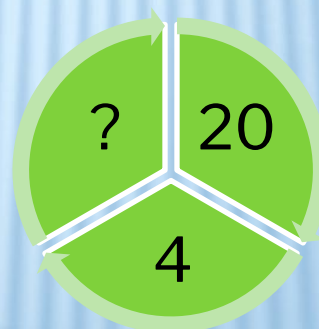
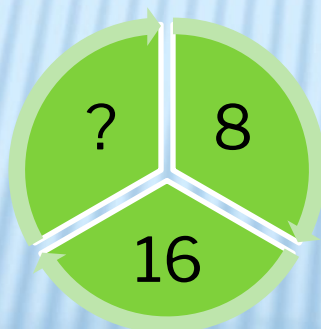
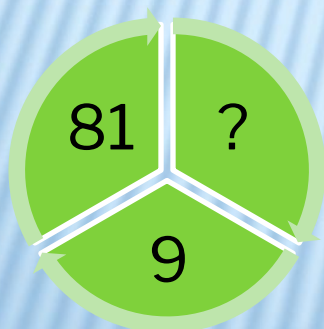
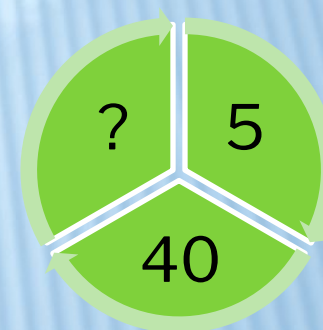
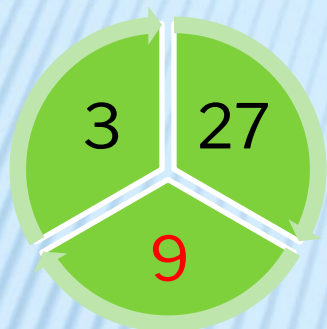
ТЕМА: ВО СКОЛЬКО РАЗ БОЛЬШЕ ИЛИ МЕНЬШЕ (ПОВТОРЕНИЕ)

Вставьте недостающее число



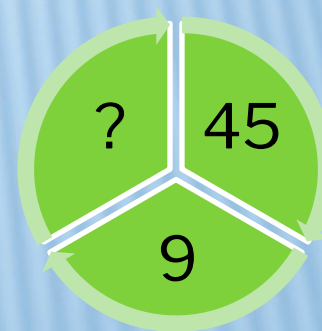
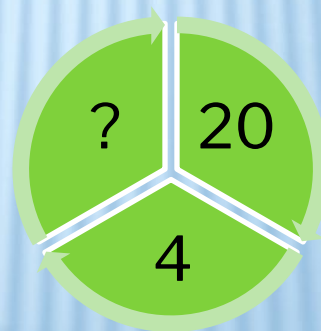

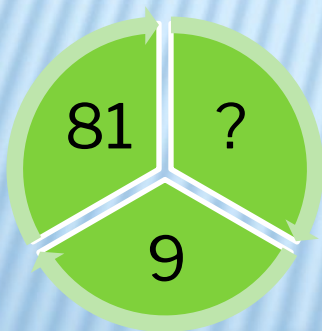
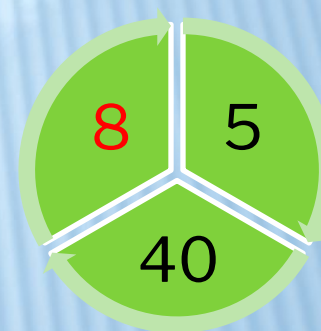
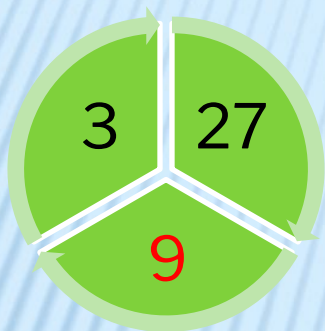
ТЕМА: ВО СКОЛЬКО РАЗ БОЛЬШЕ ИЛИ МЕНЬШЕ (ПОВТОРЕНИЕ)

Вставьте недостающее число



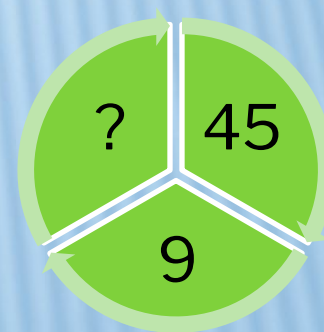
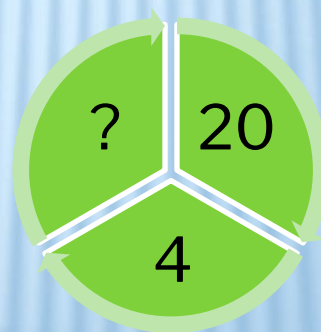

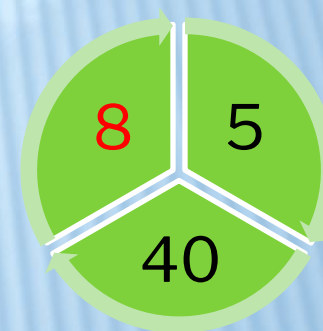
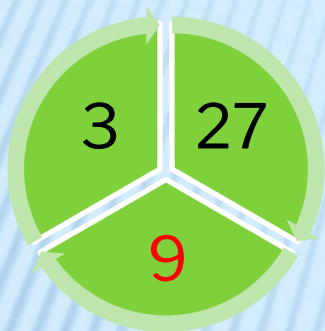
ТЕМА: ВО СКОЛЬКО РАЗ БОЛЬШЕ ИЛИ МЕНЬШЕ (ПОВТОРЕНИЕ)

Вставьте недостающее число



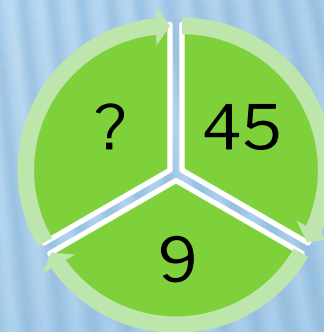
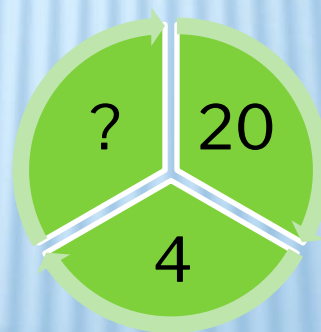
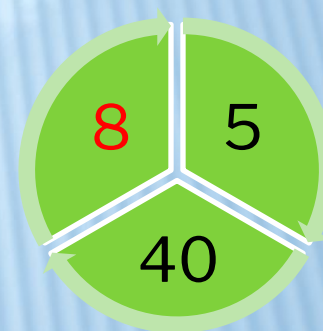
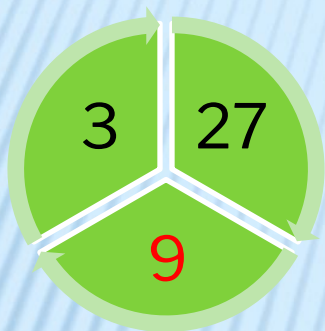
ТЕМА: ВО СКОЛЬКО РАЗ БОЛЬШЕ ИЛИ МЕНЬШЕ (ПОВТОРЕНИЕ)

Вставьте недостающее число



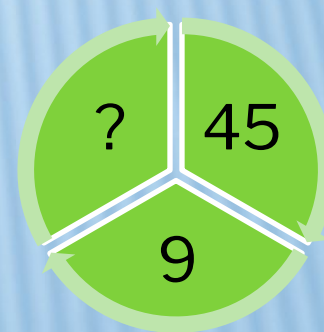
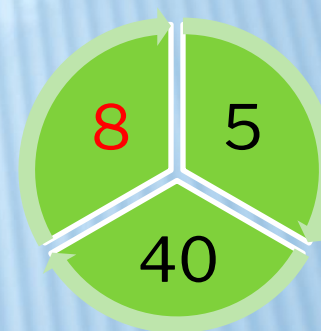
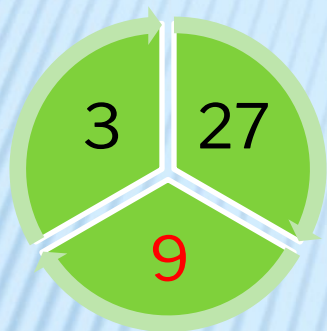
ТЕМА: ВО СКОЛЬКО РАЗ БОЛЬШЕ ИЛИ МЕНЬШЕ (ПОВТОРЕНИЕ)

Вставьте недостающее число



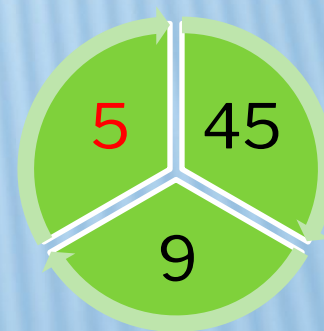
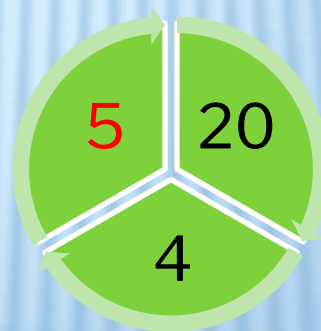
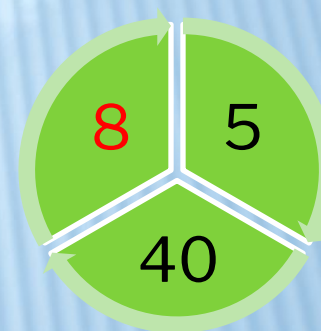
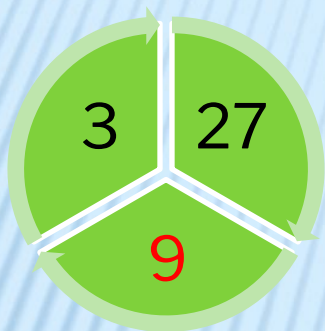
ТЕМА: ВО СКОЛЬКО РАЗ БОЛЬШЕ ИЛИ МЕНЬШЕ (ПОВТОРЕНИЕ)

Вставьте недостающее число



ТЕМА: ВО СКОЛЬКО РАЗ БОЛЬШЕ ИЛИ МЕНЬШЕ (ПОВТОРЕНИЕ)


Вставьте недостающее число



ТЕМА: ВО СКОЛЬКО РАЗ БОЛЬШЕ ИЛИ МЕНЬШЕ (ПОВТОРЕНИЕ)

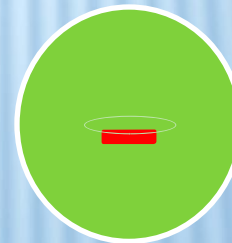
Во сколько раз больше?

Во сколько раз меньше?



На сколько больше?

На сколько меньше?



ТЕМА: ВО СКОЛЬКО РАЗ БОЛЬШЕ ИЛИ МЕНЬШЕ (ПОВТОРЕНИЕ)

Чтобы узнать, во сколько раз одно число больше или меньше другого, надо большее число разделить на меньшее.

Например :

Книг 15 шт.

Тетрадей 5 шт.

Во сколько раз тетрадей меньше, чем книг?

$15:5=3$ (р.) – в три раза тетрадей меньше, чем книг.

Или книг больше в 3 раза, чем тетрадей.

ТЕМА: ВО СКОЛЬКО РАЗ БОЛЬШЕ ИЛИ МЕНЬШЕ (ПОВТОРЕНИЕ)

Чтобы узнать, на сколько одно число больше или меньше другого, надо из большего числа вычесть меньшее.

Например :

Книг 15 шт.

Тетрадей 5 шт.

На сколько тетрадей меньше, чем книг?

$15 - 5 = 10$ (шт.) – тетрадей на 10 штук меньше, чем книг.

Или книг на 10 штук больше, чем тетрадей.

ТЕМА: ВО СКОЛЬКО РАЗ БОЛЬШЕ ИЛИ МЕНЬШЕ (ПОВТОРЕНИЕ)

ВЫВОД:

Если книг в 3 раза больше, чем тетрадей, то тетрадей в 3 раза меньше.

Если цветков в 5 раз больше, чем бабочек, то бабочек в 5 раз меньше, чем цветков.

Если мальчиков в 2 раза больше, чем девочек, то девочек в 2 раза меньше, чем мальчиков.

ТЕМА: ВО СКОЛЬКО РАЗ БОЛЬШЕ ИЛИ МЕНЬШЕ (ПОВТОРЕНИЕ)

А теперь попробуйте сами:

Если 28 больше 4 в 7 раз , то 4 меньше 28 в...

Если 56 больше 7 в 8 раз , то 7...

Если 6 меньше 30 в 5 раз , то 30 больше 6 в

...

Если 4 меньше 12 в 3 раза , то 12 ...

ТЕМА: ВО СКОЛЬКО РАЗ БОЛЬШЕ ИЛИ МЕНЬШЕ (ПОВТОРЕНИЕ)

Посчитай, во сколько раз больше число в верхней строке, чем число, расположенное в нижней строке.

10	20	40	72	21	36	45
5	4	5	9	3	6	9
?	?	?	?	?	?	?

ТЕМА: ВО СКОЛЬКО РАЗ БОЛЬШЕ ИЛИ МЕНЬШЕ (ПОВТОРЕНИЕ)

Посчитай, во сколько раз больше число в верхней строке, чем число, расположенное в нижней строке.

10	20	40	72	21	36	45
5	4	5	9	3	6	9
2	?	?	?	?	?	?

ТЕМА: ВО СКОЛЬКО РАЗ БОЛЬШЕ ИЛИ МЕНЬШЕ (ПОВТОРЕНИЕ)

Посчитай, во сколько раз больше число в верхней строке, чем число, расположенное в нижней строке.

10	20	40	72	21	36	45
5	4	5	9	3	6	9
2	5	?	?	?	?	?

ТЕМА: ВО СКОЛЬКО РАЗ БОЛЬШЕ ИЛИ МЕНЬШЕ (ПОВТОРЕНИЕ)

Посчитай, во сколько раз больше число в верхней строке, чем число, расположенное в нижней строке.

10	20	40	72	21	36	45
5	4	5	9	3	6	9
2	5	8	?	?	?	?

ТЕМА: ВО СКОЛЬКО РАЗ БОЛЬШЕ ИЛИ МЕНЬШЕ (ПОВТОРЕНИЕ)

Посчитай, во сколько раз больше число в верхней строке, чем число, расположенное в нижней строке.

10	20	40	72	21	36	45
5	4	5	9	3	6	9
2	5	8	8	?	?	?

ТЕМА: ВО СКОЛЬКО РАЗ БОЛЬШЕ ИЛИ МЕНЬШЕ (ПОВТОРЕНИЕ)

Посчитай, во сколько раз больше число в верхней строке, чем число, расположенное в нижней строке.

10	20	40	72	21	36	45
5	4	5	9	3	6	9
2	5	8	8	7	?	?

ТЕМА: ВО СКОЛЬКО РАЗ БОЛЬШЕ ИЛИ МЕНЬШЕ
(ПОВТОРЕНИЕ)

Посчитай, во сколько раз больше число в верхней строке, чем число, расположенное в нижней строке.

10	20	40	72	21	36	45
5	4	5	9	3	6	9
2	5	8	8	7	6	?

ТЕМА: ВО СКОЛЬКО РАЗ БОЛЬШЕ ИЛИ МЕНЬШЕ (ПОВТОРЕНИЕ)

Посчитай, во сколько раз больше число в верхней строке, чем число, расположенное в нижней строке.

10	20	40	72	21	36	45
5	4	5	9	3	6	9
2	5	8	8	7	6	5

ТЕМА: ВО СКОЛЬКО РАЗ БОЛЬШЕ ИЛИ МЕНЬШЕ
(ПОВТОРЕНИЕ)

Вывод:

Чтобы узнать, во сколько раз одно число больше или меньше другого, надо большее число разделить на меньшее.

ТЕМА: ВО СКОЛЬКО РАЗ БОЛЬШЕ ИЛИ МЕНЬШЕ (ПОВТОРЕНИЕ)

Во сколько раз	Пример
49 больше 7	
35 больше 5	
20 больше 4	
6 меньше 42	
7 меньше 63	

ТЕМА: ВО СКОЛЬКО РАЗ БОЛЬШЕ ИЛИ МЕНЬШЕ (ПОВТОРЕНИЕ)

Во сколько раз	Пример
49 больше 7	$49:7=7$
35 больше 5	$35:5=7$
20 больше 4	$20:4=5$
6 меньше 42	$42:6=7$
7 меньше 63	$63:7=9$

ТЕМА: ВО СКОЛЬКО РАЗ БОЛЬШЕ ИЛИ МЕНЬШЕ (ПОВТОРЕНИЕ)

В зоомагазине мы увидели 45 мышат, а крольчат на 36 меньше. Во сколько раз крольчат меньше, чем мышат?

Мышата



Крольчата



ТЕМА: ВО СКОЛЬКО РАЗ БОЛЬШЕ ИЛИ МЕНЬШЕ (ПОВТОРЕНИЕ)

В зоомагазине мы увидели 45 мышат, а крольчат на 36 меньше. Во сколько раз крольчат меньше, чем мышат?

М. – 45

К. – ? на 36 < 

Во ? раз К. < М.

Решение:

1) $45 - 36 = 9$ (к.) – крольчат

2) $45 : 9 = 5$ (р.) – в 5 раз крольчат меньше, чем мышат.

Ответ: крольчат в 5 раз меньше, чем мышат.

ТЕМА: ВО СКОЛЬКО РАЗ БОЛЬШЕ ИЛИ МЕНЬШЕ
(ПОВТОРЕНИЕ)

Домашнее задание: