




Б8

Линия УМК Н. И. Сони́на. Биология
(концентрическая, красная) (5-9)

04.02.2018

ГКОУ «Школа-интернат Костромской области для детей с ТНР и (или) нарушениями ОДА».




03 АНАЛИЗАТОРЫ

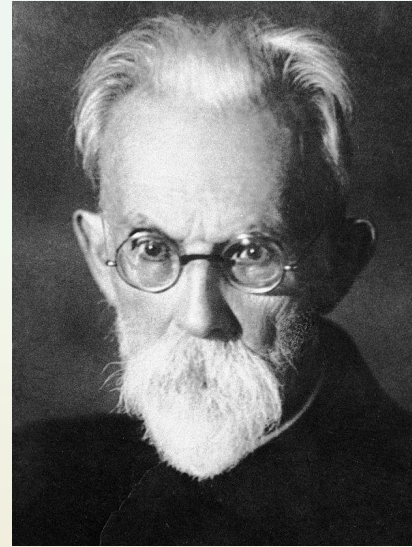
1 Кто ввел понятие анализаторы?




1



2



3



4

Понятие «анализатор» включает
2 следующие составляющие

- 1) Рецептор, воспринимающий сигнал
- 2) Зона коры, где проводится анализ раздражений
- 3) Проводящие пути
- 4) Все указанные компоненты

Структурой глазного яблока,
регулирующей количество

3 поступающих в глаз солнечных
лучей, является

- 1) Роговица
- 2) Хрусталик
- 3) Зрачок
- 4) Стекловидное тело

Т На корне языка расположены
4 рецепторы, чувствительные к

- 1) Сладкому
- 2) Горькому
- 3) Кислому
- 4) Солёному

Светочувствительные рецепторы

— палочки и колбочки находятся

в

- 1) Белочной оболочке глаза
- 2) Сосудистой оболочке глаза
- 3) Стекловидном теле и хрусталике глаза
- 4) Сетчатке глаза

Полукружные каналы

6 внутреннего уха расположены относительно друг друга

- 1) Параллельно
- 2) Под острым углом друг к другу
- 3) Перпендикулярно друг другу
- 4) Один внутри другого

60 Выберите три верных
7 утверждения

Оптическая система глаза включает

- 1) Роговицу
- 2) Хрусталик
- 3) Сетчатку
- 4) Зрачок
- 5) Стекловидное тело
- 6) Жёлтое пятно

60 Выберите три верных

8 утверждения

В полости среднего уха находятся
косточки

- 1) Молоточек
- 2) Подковка
- 3) Наковальня
- 4) Стремечко
- 5) Уздечка
- 6) Улитка

Установите соответствие между
9 анализаторами и их структурами.

Структуры		Анализаторы	
А	Стекловидное тело	1	Зрительный
Б	Улитка	2	Слуховой
В	Колбочки		
Г	Палочки		

Правильные ответы

03 Тест Анализаторы

1	2	3	4	5	6
1	4	3	2	3	2
7			8		
1	2	5	1	3	4
9					
1	2	1	1		

Оценка

<i>Баллы</i>	<i>Оценка</i>
<i>14 – 16</i>	<i>5</i>
<i>9 – 13</i>	<i>4</i>
<i>3 – 8</i>	<i>3</i>
<i>2</i>	<i>2</i>
<i>1</i>	<i>1</i>

60 Верны ли следующие

7 утверждения?

- 1) Верно только А
- 2) Верно только В
- 3) Верны оба суждения
- 4) Неверны оба суждения

60

Верны ли следующие
8 утверждения?

- 1) Верно только А
- 2) Верно только В
- 3) Верны оба суждения
- 4) Неверны оба суждения

Озаглавьте список. Выберите
10 один «лишний» объект.

80

Т

10 Вставьте в места пропусков цифры, соответствующие словам из словарика.