

Урок-математическая сказка



# УСТНЫЙ

1 2 3 4 5 6 7 8 9 10

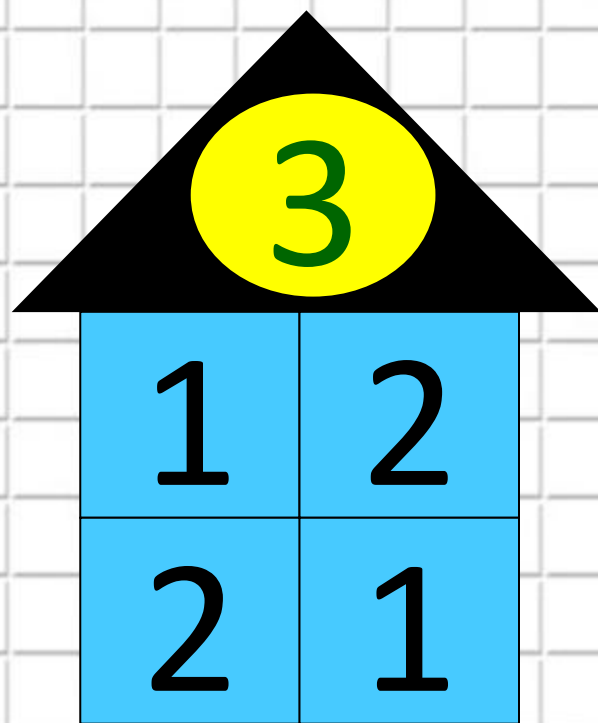
□ Сосчитай от 3 до 7

□ Сосчитай от 5 до 9

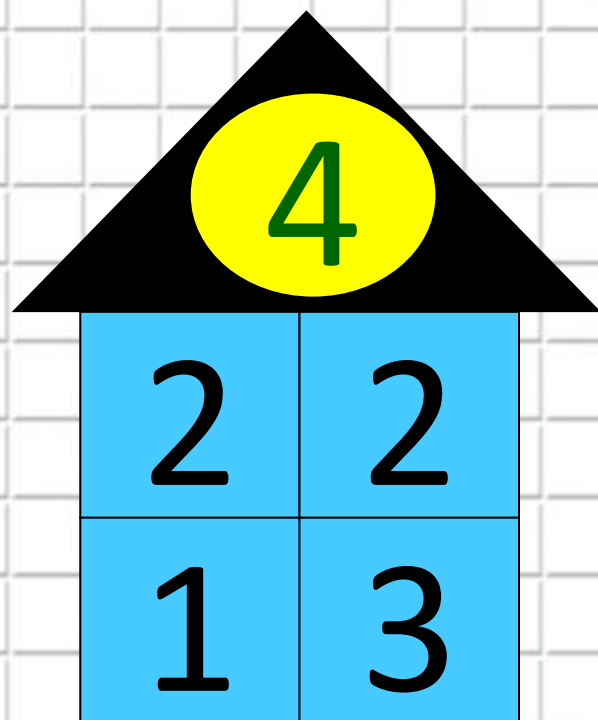
□ Сосчитай от 9 до 5

□ Сосчитай от 6 до 4

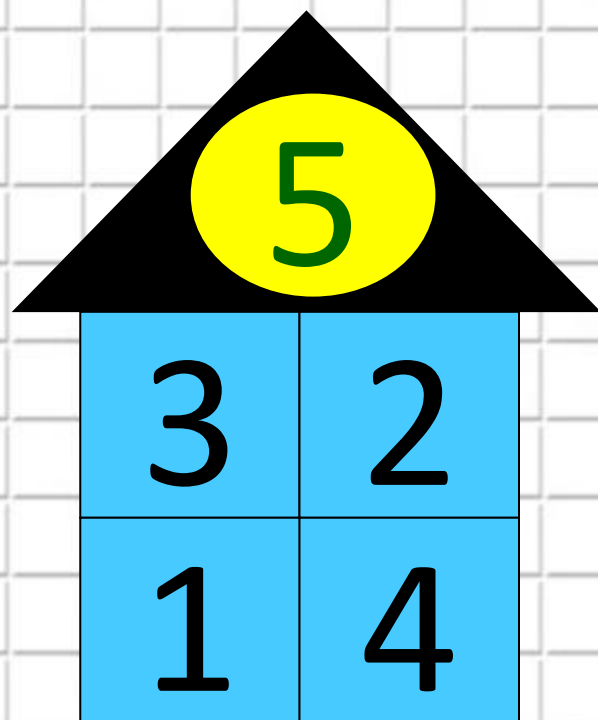




Игра «Назови  
соседа»



Игра «Назови  
соседа»



Игра «Назови соседа»

# Игра «Я загадала число»



5

4

1

4

2

2





Жили-были мужик  
да баба. Была у  
них дочка, да  
сынок маленький.  
Раз уехали мужик  
и баба в город. А  
девочке строго  
настрою  
наказали  
следить за  
братцем.  
Сестрица  
посадила брата  
под окошком, а  
сама загулялась,





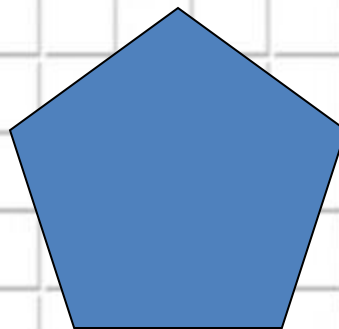
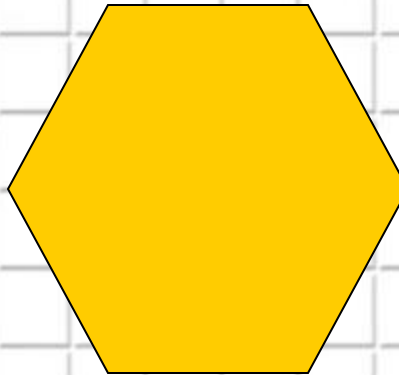


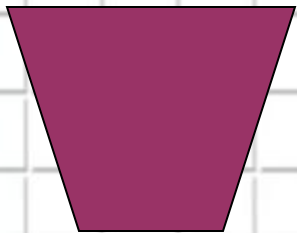
**Побежала сестра догонять брата.**







**-Выполнишь моё задание,  
скажу куда Гуси-Лебеди полетели.**

# Многоугольники

Четырёхугольники



Треугольники



Тема урока:

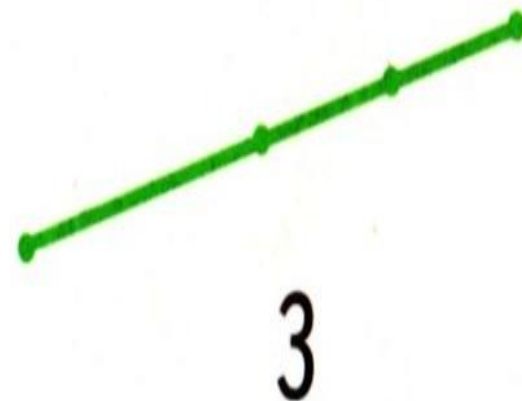
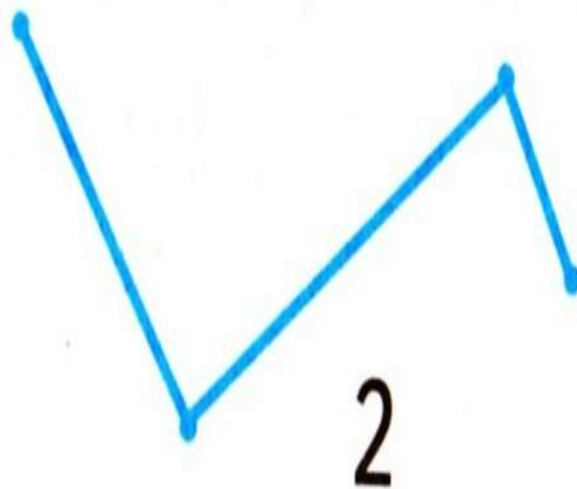
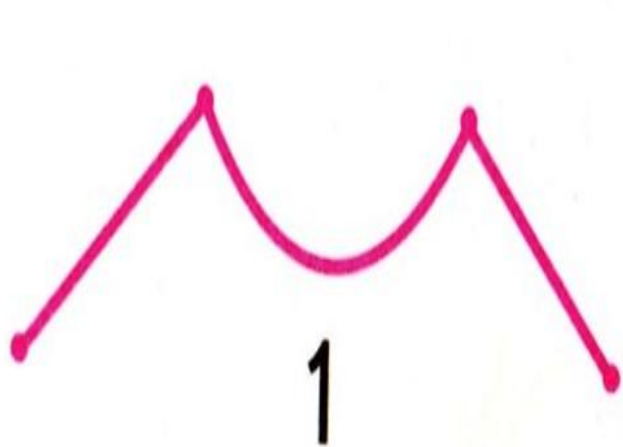
# МНОГОУГОЛЬНИКИ

**Цели:**

- Научимся различать многоугольники
- Будем аккуратно писать
- Внимательно слушать и отвечать на вопросы



**Нужно пойте по дорожке- ломаной  
состоящей из трёх звеньев, выбери:**



# физминутка

















Будьте  
здоровы!





Найдите такой же многоугольник на доске, как в учебнике на с.50.



# Математика



Часть  
1

# 1



## Многоугольник

Сравни: чем фигуры на рисунке слева отличаются от фигур на рисунке справа.



Круг легко катится.



Таким фигурам мешают катиться углы. У них много углов. Это **многоугольники**.



Это **треугольники**.




Это **четырёхугольники**.

Почему они так называются?  
Сколько углов, сторон и вершин у пятиугольника? у шестиугольника? у десятиугольника?


Назови каждый многоугольник и покажи его **стороны** и **вершины**.

Саша и Юля измеряли шагами дорожку от дома до беседки. Объясни, почему у них получились разные ответы.






Молодцы, справились  
с моим заданием.  
Гуси-Лебеди полетели  
в сторону реки,  
поспешите за ними.





A colorful illustration of a young girl with a blue headscarf and a red dress running through a rocky stream. She has a determined expression and her arms are outstretched. The background shows dark, jagged rock formations and a waterfall. A large blue thought bubble is positioned in the upper right corner, containing text.

Скажу, если моё задание выполнишь. Начерти мне многоугольник в тетради

Скажу, если моё задание выполнишь. Начерти мне многоугольник в тетради

# СИДИ ПРАВИЛЬНО





Молодцы,  
ребята, все  
справились с  
заданием. Вон в  
том лесу живёт  
Баба-Яга.



[www.mportal.cu](http://www.mportal.cu)

# Физминутк

а























Здоров  
о!



# Графический диктант

- 1 клеточка вверх,
- 2 клеточки вправо,
- 1 клеточка вниз,
- 2 клеточки вправо,
- 1 клеточка вверх,
- 2 клеточки вправо...
- продолжите дорожку самостоятельно.








**-Баба-Яга,  
отдай братца.**


**-Отдам мальчонку,  
если покажешь, что  
научилась различать  
многоугольники.**



- Раскрась все пятиугольники синим цветом, а все треугольники красным.



- Выбери для каждого рисунка свою запись.




$4 - 2 = \square$

$4 + 1 = \square$

$3 + 2 = \square$

$5 - 1 = \square$



$5 > 2$	1	4	$2 + 1$	3	2	$3 - 1$	
$3 < 4$	3	5	$4 - 1$	3	3	$2 + 2$	



**Забирайте  
брatца.  
Да, глядите  
не  
забудьте,  
что  
сегодня на  
уроке  
изучали!**



# Рефлексия



Я всё понял на уроке и могу  
объяснить товарищу.



Я усвоил тему, но объяснить  
не могу.



Эта тема для меня трудная.



**СПАСИБО  
за урок!**



