



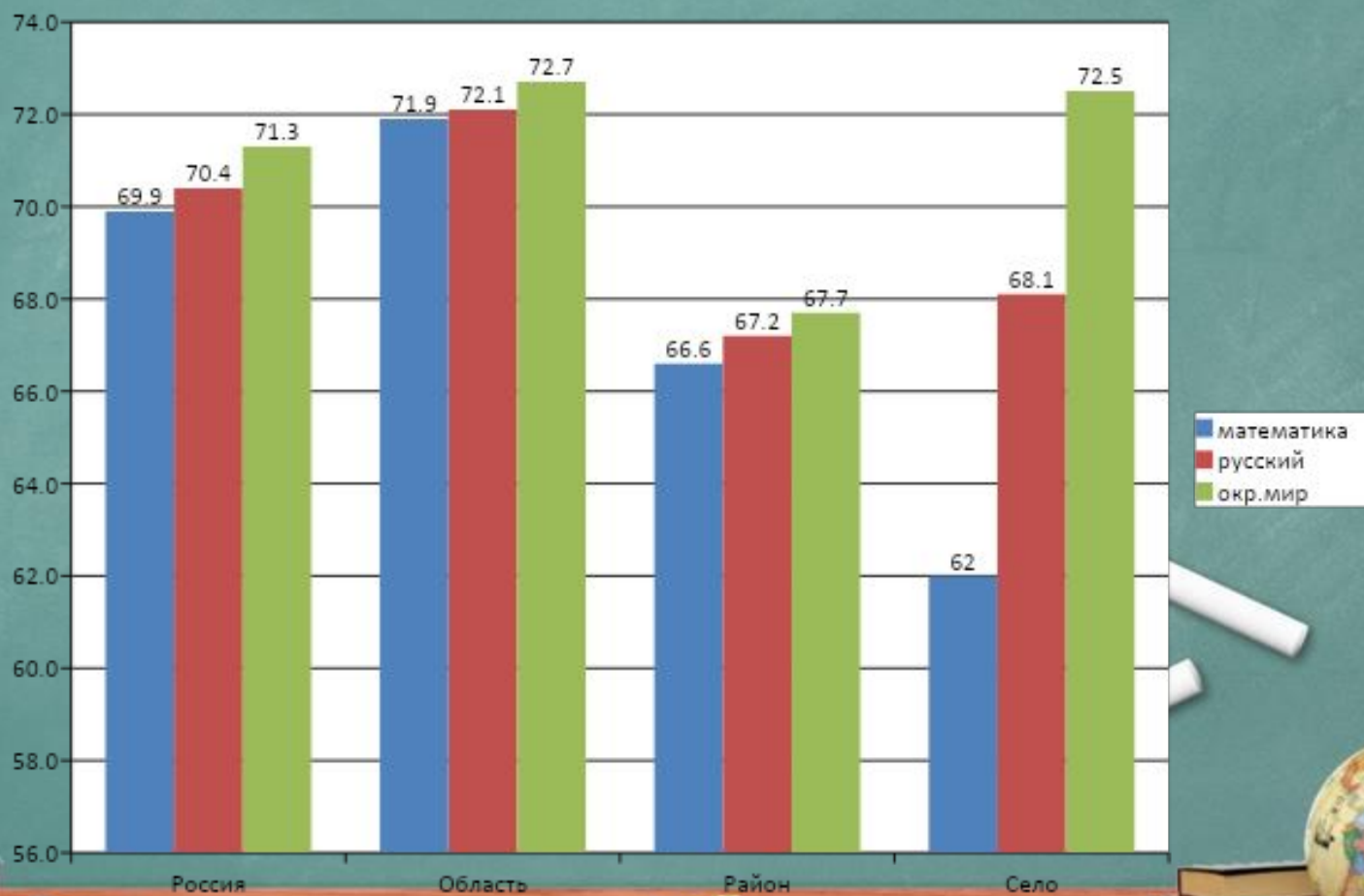
# Анализ Всероссийской проверочной работы

Сельские школы

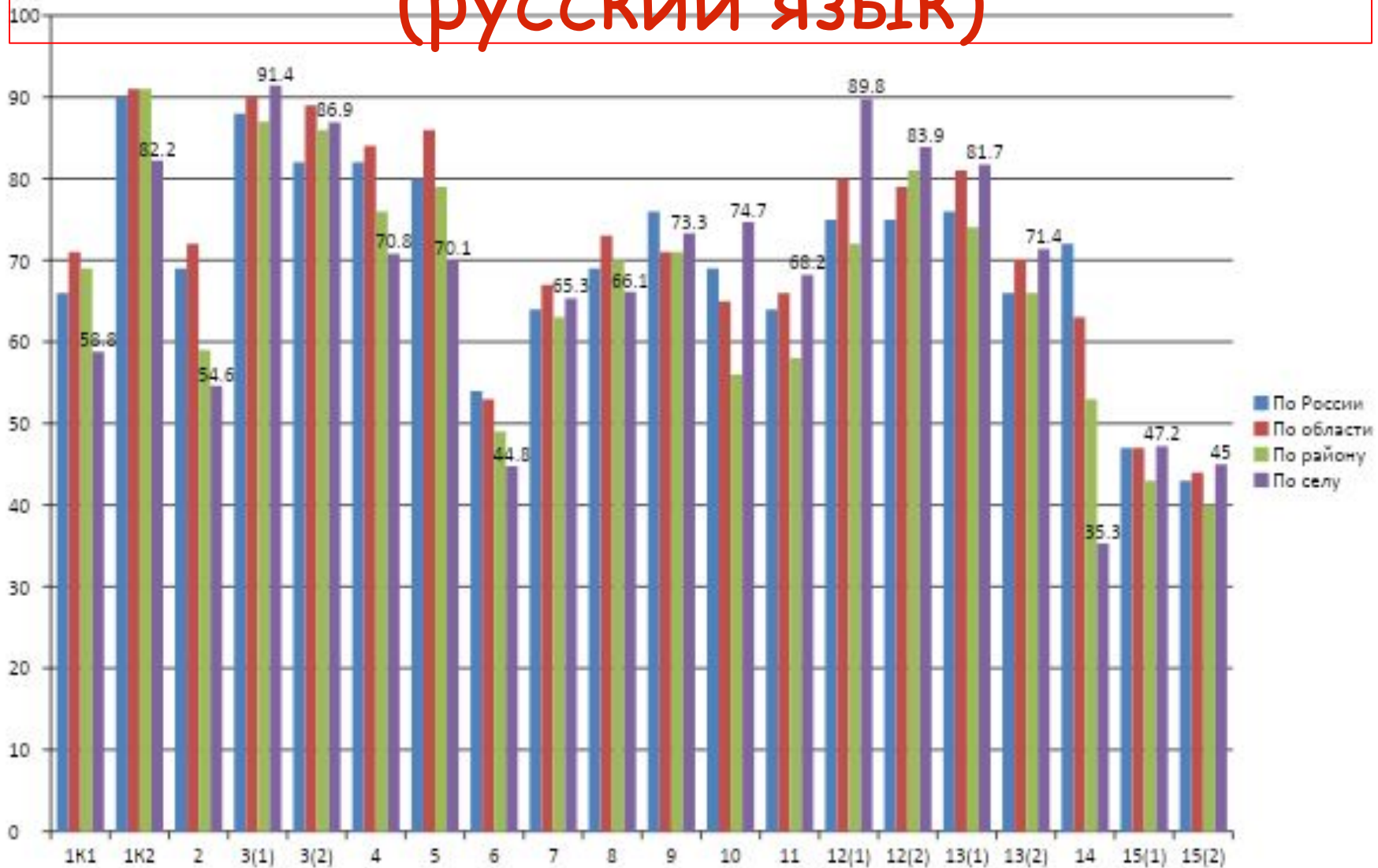
Лукина И.Г.,  
учитель начальных классов  
МКОУ «Алнерская ООШ»



# Выполнение ВТТР сельскими учениками



# Анализ выполнения заданий (русский язык)



# Анализ выполнения заданий

Дата: 17.04.2018  
Предмет: Русский язык

Выполнение заданий сводная таблица по ОО (в % от числа участников)

ОО	Кол-во уч.	1К1	1К2	2	3(1)	3(2)	4	5	6	7	8	9	10	11	12(1)	12(2)	13(1)	13(2)	14	15(1)	15(2)
Сухиничский р-н	184	69	91	59	87	86	76	79	49	63	70	71	56	58	72	81	74	66	53	43	40
Сельские школы	36	58,8	82,2	54,6	91,4	86,9	70,8	70,1	44,8	65,3	66,1	73,3	74,7	68,2	89,8	83,9	81,7	71,4	35,3	47,2	45,0
МКОУ "Соболевская средняя школа"	5	65	47	60	80	87	60	20	20	7	40	0	80	80	100	90	100	80	40	10	0
МКОУ "Субботниковская средняя школа"	3	83	78	67	100	89	100	100	0	67	83	100	100	50	33	83	67	83	33	33	33
МКОУ "Брянская основная школа"	1	50	67	67	100	100	0	100	50	67	50	100	0	100	100	50	100	100	0	0	0
МКОУ "Стрельненская основная школа"	4	69	83	50	100	75	88	75	50	33	62	100	100	25	100	75	75	38	25	50	0
МКОУ "Шлищовская средняя школа"	6	38	72	28	83	78	58	83	75	72	67	100	100	92	100	92	100	92	83	83	67
МКОУ "Алиерская основная школа"	5	45	93	47	60	67	60	20	50	73	60	60	100	0	100	90	60	50	20	70	80
МКОУ "Глазовская основная школа"	6	67	100	89	100	94	83	83	83	94	83	50	67	92	100	75	83	50	67	67	50
МКОУ "Немёрская основная школа"	2	62	100	33	100	100	100	100	0	100	100	100	50	100	100	100	100	50	0	50	100
МКОУ "Фролово-Гореловская основная школа"	4	50	100	50	100	92	88	50	75	75	50	50	75	75	75	100	50	100	50	62	75



# Проблемные задания

6

Что хотел сказать автор читателю? **Определи и запиши** основную мысль текста.

Ответ. \_\_\_\_\_

\_\_\_\_\_

\_\_\_\_\_

\_\_\_\_\_



# Проблемные задания

15 Подумай и напиши, в какой жизненной ситуации уместно будет употребить выражение *Нет друга – ищи, а нашёл – береги*.

□ Ответ. Выражение *Нет друга – ищи, а нашёл – береги* будет уместно

□ в ситуации, когда

---

---

---

---



# Проблемные задания

14 Выпиши из 7-го предложения все глаголы в той форме, в которой они употреблены в предложении.



Ответ. \_\_\_\_\_

\_\_\_\_\_

\_\_\_\_\_



# Проблемные задания

12 Выпиши из 12-го предложения все имена существительные в той форме, в которой они употреблены в предложении. Укажи род, склонение, число, падеж одной из форм имени существительного (на выбор).

□ Ответ. \_\_\_\_\_

13 Выпиши из 8-го предложения все формы имён прилагательных с именами существительными, к которым они относятся. Укажи число, род (если есть), падеж одной из форм имени прилагательного (на выбор).

□ Ответ. \_\_\_\_\_

□ \_\_\_\_\_  
□ \_\_\_\_\_





# Проблемные задания

14 Выпиши из 7-го предложения все глаголы в той форме, в которой они употреблены в предложении.



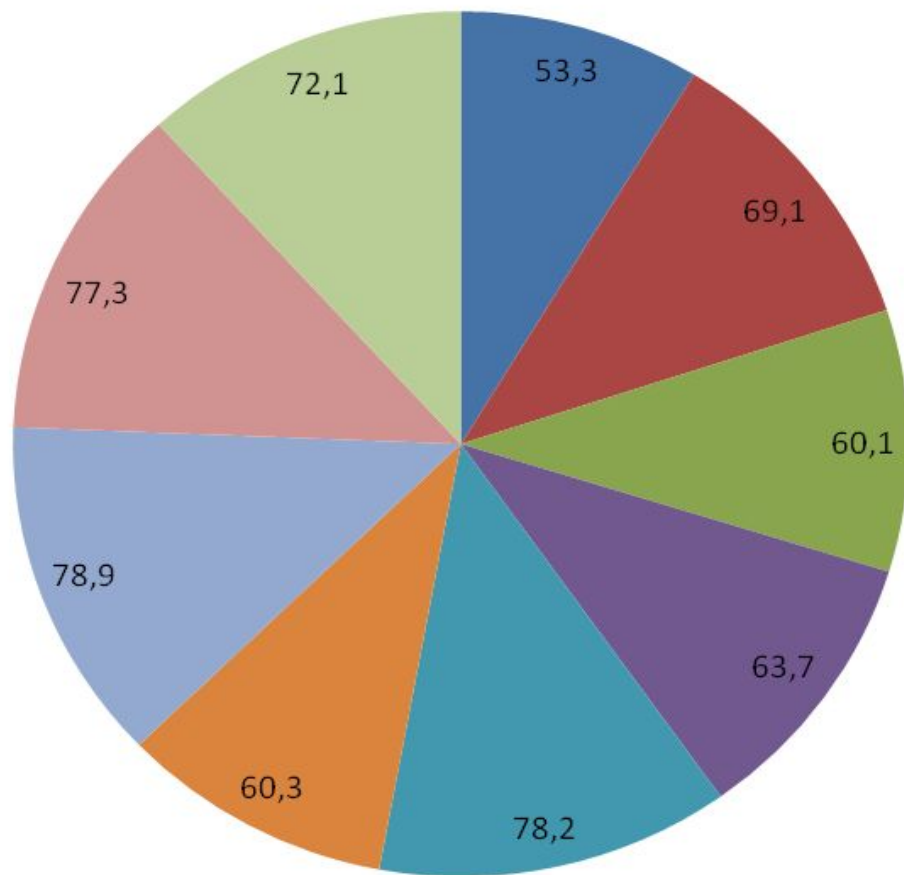
Ответ. \_\_\_\_\_

\_\_\_\_\_

\_\_\_\_\_



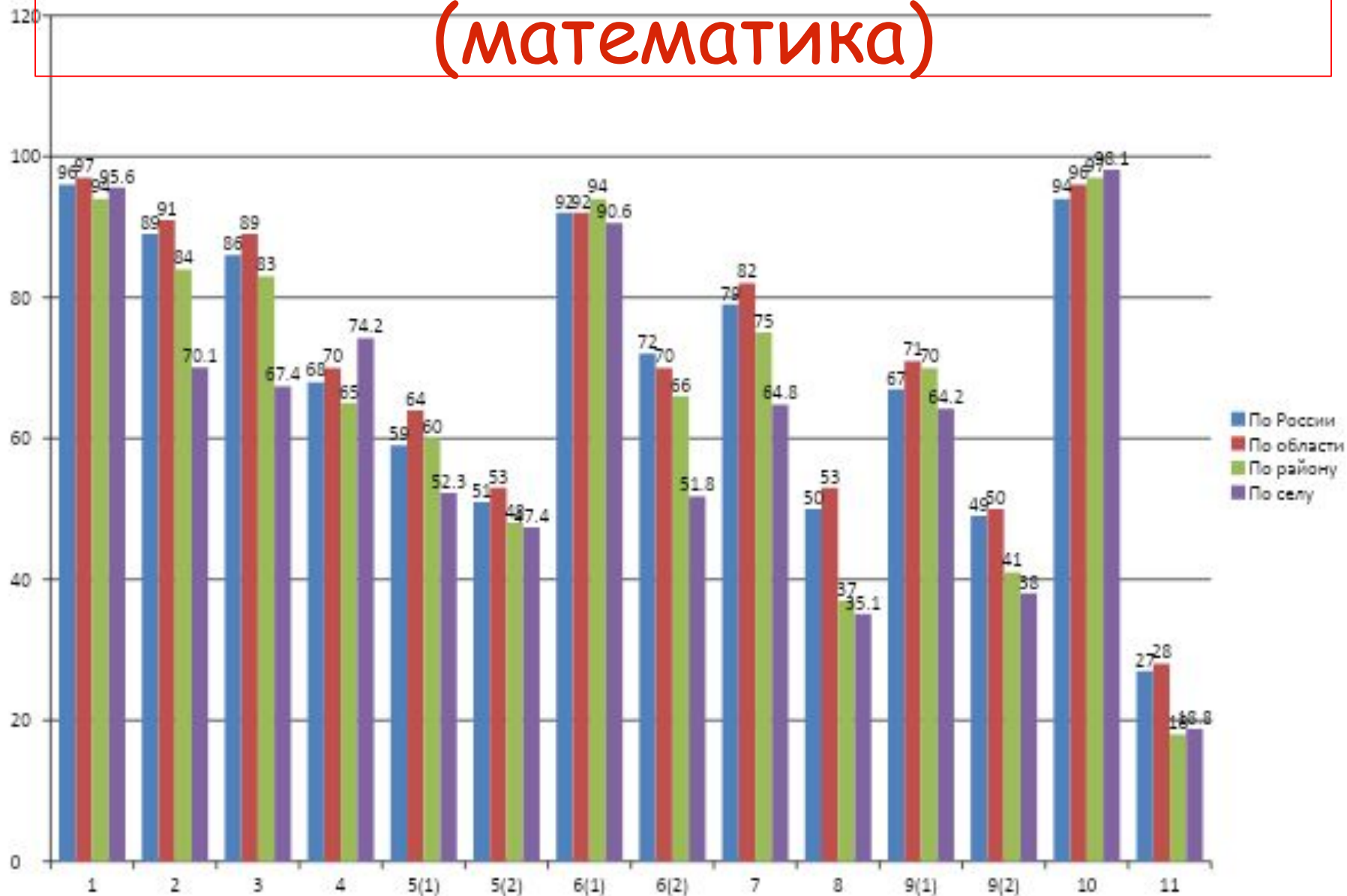
# Процент выполнения ВТР по русскому языку



- МКОУ "Соболевская средняя школа"
- МКОУ "Субботниковская средняя школа"
- МКОУ "Брынская основная школа"
- МКОУ "Стрельненская основная школа"
- МКОУ "Шлипповская средняя школа"
- МКОУ "Алнерская основная школа"
- МКОУ "Глазовская основная школа"
- МКОУ "Немёрзская основная школа"
- МКОУ "Фролово-Горетовская основная школа"



# Анализ выполнения заданий (математика)



# Анализ выполнения заданий

Дата: 24.04.2018

Предмет: Математика

Выполнение заданий сводная таблица по ОО (в % от числа участников)

ОО	Кол-во уч.	1	2	3	4	5(1)	5(2)	6(1)	6(2)	7	8	9(1)	9(2)	10	11
<b>Сухиничский р-н</b>	<b>187</b>	<b>94</b>	<b>84</b>	<b>83</b>	<b>65</b>	<b>60</b>	<b>48</b>	<b>94</b>	<b>66</b>	<b>75</b>	<b>37</b>	<b>70</b>	<b>41</b>	<b>97</b>	<b>18</b>
<b>Сельские школы</b>	<b>36</b>	<b>95,6</b>	<b>70,1</b>	<b>67,4</b>	<b>74,2</b>	<b>52,3</b>	<b>47,4</b>	<b>90,6</b>	<b>51,8</b>	<b>64,8</b>	<b>35,1</b>	<b>64,2</b>	<b>38,0</b>	<b>98,1</b>	<b>18,8</b>
МКОУ "Соболевская средняя школа "	5	100	80	60	100	20	0	100	20	80	0	60	0	100	10
МКОУ "Субботниковская средняя школа "	3	100	100	83	100	67	33	100	33	67	83	67	33	83	33
МКОУ "Брынская основная школа "	1	100	0	100	100	0	0	100	0	0	0	100	0	100	0
МКОУ "Стрельненская основная школа "	4	100	75	50	50	75	50	75	100	50	50	100	75	100	12
МКОУ "Шлипповская средняя школа "	7	100	86	64	43	14	29	100	43	71	43	71	29	100	14
МКОУ "Алнерская основная школа "	5	60	40	60	60	100	60	80	40	60	40	80	20	100	40
МКОУ "Глазовская основная школа "	5	100	100	40	40	20	80	60	80	80	0	100	60	100	60
МКОУ "Немёрская основная школа "	2	100	50	100	100	100	100	100	100	100	100	0	100	100	0
МКОУ "Фролово-Горетовская основная школа "	4	100	100	50	75	75	75	100	50	75	0	0	25	100	0



# Проблемные задания

6

Мушкетёры соревновались в стрельбе по мишеням. У каждого было 3 попытки, а в каждой попытке — 5 выстрелов. В таблице показано, кто сколько раз попал в мишень при каждой попытке. Ответь на вопросы.


Мушкетёр	Первая попытка	Вторая попытка	Третья попытка
Атос	3	1	5
Портос	4	3	1
Арамис	5	4	2
Д'Артаньян	4	5	5

1) Сколько раз Арамис попал в мишень при третьей попытке?

Ответ:


2) Кто из мушкетёров занял третье место по общему количеству попаданий?

Ответ:



# Проблемные задания

11

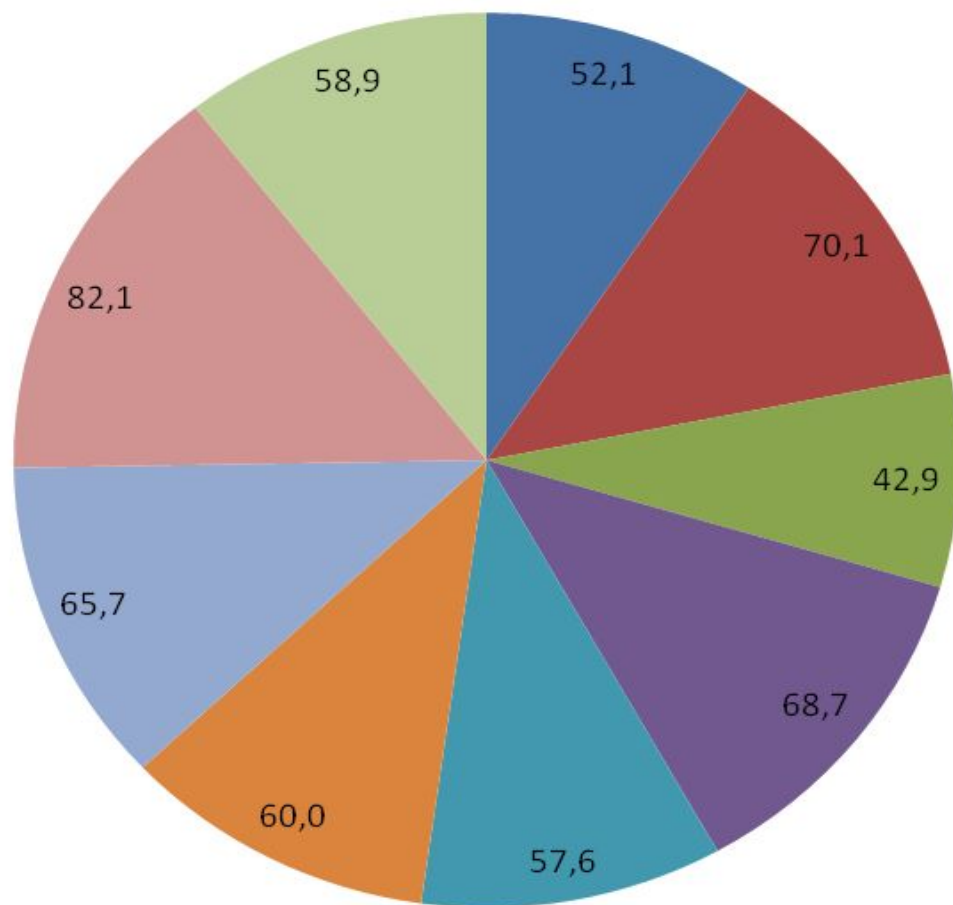
Андрей вырезал из бумаги несколько пятиугольников и шестиугольников. Всего у вырезанных фигурок 27 вершин. Сколько пятиугольников вырезал Андрей?

Запиши решение и ответ.



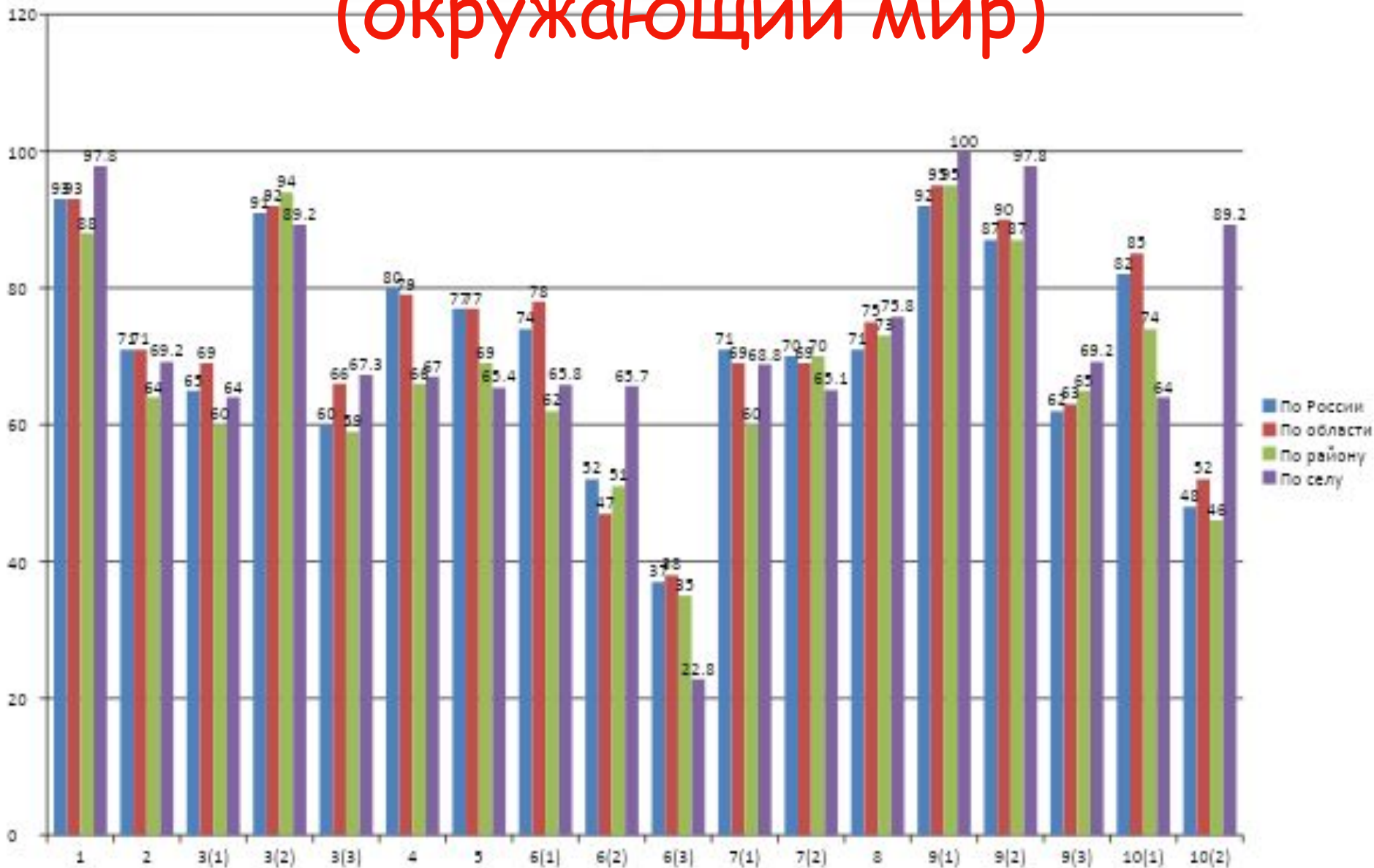


# Процент выполнения ВТТР по математике



- МКОУ "Соболевская средняя школа"
- МКОУ "Субботниковская средняя школа"
- МКОУ "Брынская основная школа"
- МКОУ "Стрельненская основная школа"
- МКОУ "Шлипповская средняя школа"
- МКОУ "Алнерская основная школа"
- МКОУ "Глазовская основная школа"
- МКОУ "Немёрзская основная школа"
- МКОУ "Фролово-Горетовская основная школа"

# Анализ выполнения заданий (окружающий мир)



# Анализ выполнения заданий

Дата: 26.04.2018

Предмет: Окружающий мир

Выполнение заданий сводная таблица по ОО (в % от числа участников)

ОО	Кол-во уч.	1	2	3(1)	3(2)	3(3)	4	5	6(1)	6(2)	6(3)	7(1)	7(2)	8	9(1)	9(2)	9(3)	10(1)	10(2)
Сухиничский р-н	188	88	64	60	94	59	66	69	62	51	35	60	70	73	95	87	65	74	46
<b>Сельские школы</b>	<b>36</b>	<b>97,8</b>	<b>69,2</b>	<b>64,0</b>	<b>89,2</b>	<b>67,3</b>	<b>67,0</b>	<b>65,4</b>	<b>65,8</b>	<b>65,7</b>	<b>22,8</b>	<b>68,8</b>	<b>65,1</b>	<b>75,8</b>	<b>100,0</b>	<b>97,8</b>	<b>69,2</b>	<b>64,0</b>	<b>89,2</b>
МКОУ "Соболевская средняя школа"	5	90	100	100	100	100	20	60	100	100	0	0	100	80	100	100	40	100	45
МКОУ "Субботниковская средняя школа"	2	100	100	75	50	100	50	75	50	100	50	100	100	100	100	100	50	100	25
МКОУ "Брынская основная школа"	1	100	50	0	100	33	0	0	100	0	0	100	50	67	100	100	100	0	50
МКОУ "Стрельненская основная школа"	4	100	88	100	100	50	100	62	50	25	25	25	75	75	100	100	25	75	62
МКОУ "Шлипповская средняя школа"	7	100	57	86	86	81	86	71	57	86	43	86	71	76	100	86	71	50	46
МКОУ "Алнерская основная школа"	5	90	70	60	100	53	80	100	60	80	20	100	40	67	100	100	80	80	40
МКОУ "Глазовская основная школа"	6	100	33	42	67	22	67	58	50	50	17	33	50	67	100	67	67	50	29
МКОУ "Немёрзская основная школа"	2	100	75	75	100	67	100	75	100	50	0	100	50	67	100	100	100	100	38
МКОУ "Фролово-Горетовская основная школа"	4	100	50	38	100	100	100	88	25	100	50	75	50	83	100	100	50	75	38

# Проблемные задания

6

В жаркий солнечный день Алексей решил провести опыт с нагреванием воды. Он взял две одинаковые ёмкости – металлические кастрюли, налил в них различное количество холодной воды одинаковой температуры, закрыл крышками, вынес на улицу и поставил обе кастрюли рядом друг с другом на солнце. Через некоторое время Алексей измерил температуру воды в обеих кастрюлях. В кастрюле с меньшим количеством воды температура воды оказалась выше.

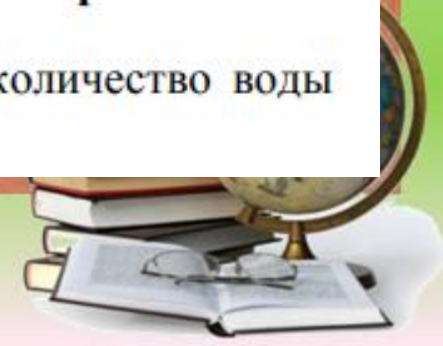
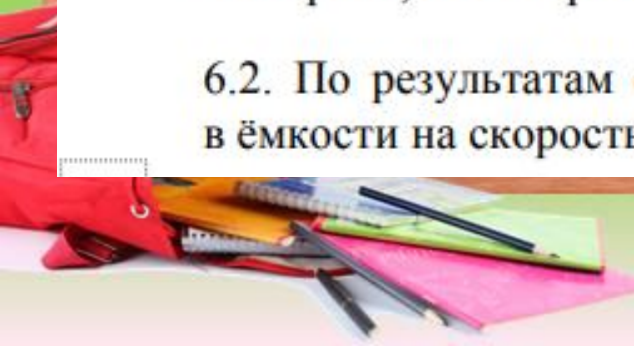
6.1. Сравни условия нагревания воды в ёмкостях в описанном опыте. Подчеркни в каждой строке одно из выделенных слов.

Исходная температура воды в ёмкостях: **одинаковая / различная**

Количество воды в ёмкостях: **одинаковое / различное**

Материал, из которого сделаны ёмкости: **одинаковый / различный**

6.2. По результатам опыта сделай вывод о том, как влияет количество воды в ёмкости на скорость нагревания воды в ней.



# Проблемные задания

10.2. Чем наиболее известен твой регион?

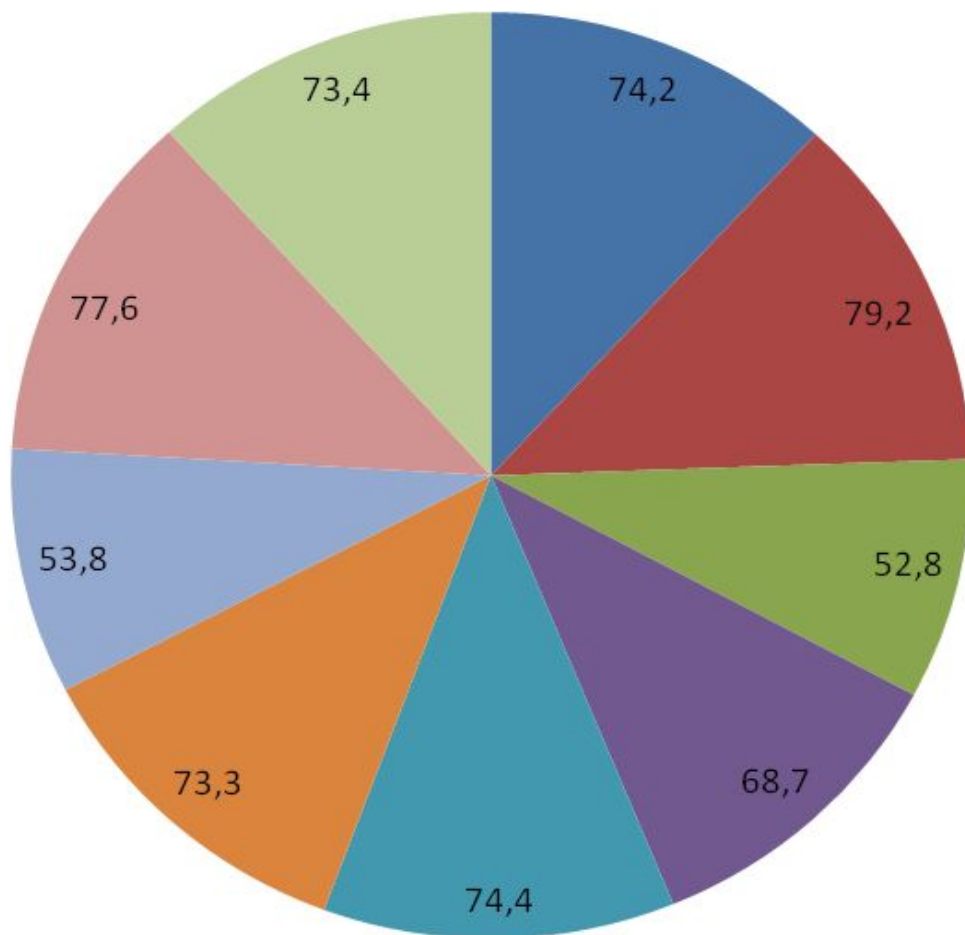
Ответ: \_\_\_\_\_  
\_\_\_\_\_

Какие растения встречаются в природе твоего региона (укажи не менее трёх растений)? Опиши одно любое из этих растений. Как это растение используется людьми?

Ответ: \_\_\_\_\_



# Процент выполнения ВТГР по окружающему миру



- МКОУ "Соболевская средняя школа"
- МКОУ "Субботниковская средняя школа"
- МКОУ "Брынская основная школа"
- МКОУ "Стрельненская основная школа"
- МКОУ "Шлипповская средняя школа"
- МКОУ "Алнерская основная школа"
- МКОУ "Глазовская основная школа"
- МКОУ "Немёрзская основная школа"
- МКОУ "Фролово-Горетовская основная школа"

# Источники изображений:

- <http://i057.radikal.ru/1008/ce/d0e91509bf5d.jpg>
- <http://i072.radikal.ru/1008/90/df5daa35757f.jpg>
- <http://fileshare256.depositfiles.com/auth-1309614760950a7ae18284d5e5b0e2a8-92.127>

## Автор шаблона презентации:

Пастлер Елена Эдуардовна,  
МОУ «Школа №71» г. Прокопьевска, Кемеровской  
области,  
учитель математики и информатики

«<http://pedsovet.su/>»

