

Урок математики в 4 классе

Автор презентации: Кадырова Ольга Игоревна,
учитель начальных классов МАОУ ООШ №52 города Тюмени
2019



Настрой на урок

**Каждый день
нам прибавляет
частичку
мудрости!**



Вычисли площадь

Прямоугольника со
сторонами 5 см и 6
см

30 кв.
см

Прямоугольника со
сторонами 10 м и 7 м

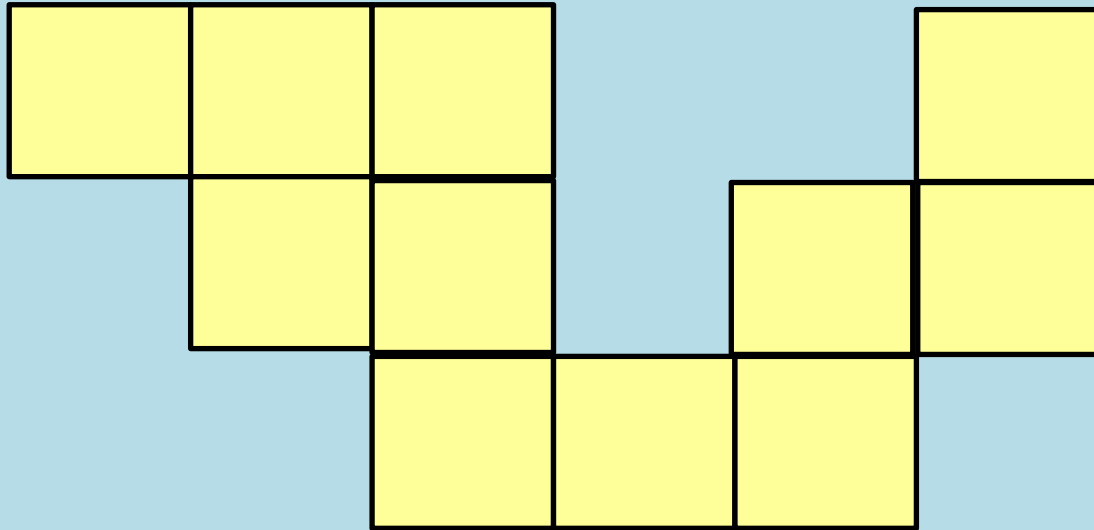
70 кв. м

Квадрата со
стороной
7 дм

49 кв.
дм



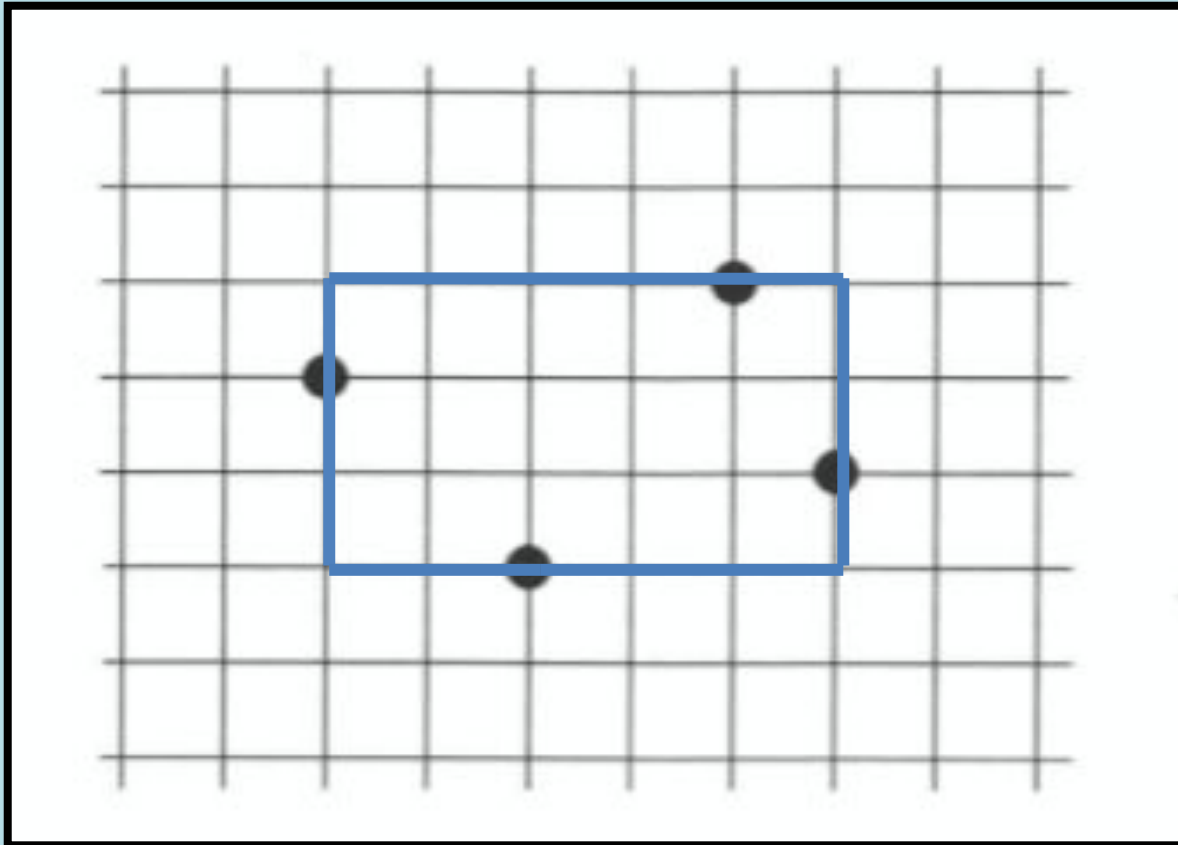
Вычисли площадь, если сторона клетки
1 см



11 кв. см



Нарисуй по клеточкам прямоугольник так, чтобы его стороны проходили через все отмеченные точки, вычисли площадь



**15 кв.
см**



Самостоятельная работа

Найдите площадь



??????

Нет быстрого и

верного

ДЕЛЕНИЯ

без знания таблицы

УМНОЖЕНИЯ

Я



Тема урока

**Деление на
однозначное
число столбиком**



Цель урока

Научиться выполнять
деление на однозначное

число в строчку

Научиться выполнять

деление на однозначное

число столбиком

Научиться выполнять

деление на многозначное

число столбиком



Назови

компоненты

частное

значение
частного

$$12 : 3 = 4$$

делимое

делитель



**Какой остаток может
получиться при делении**

...

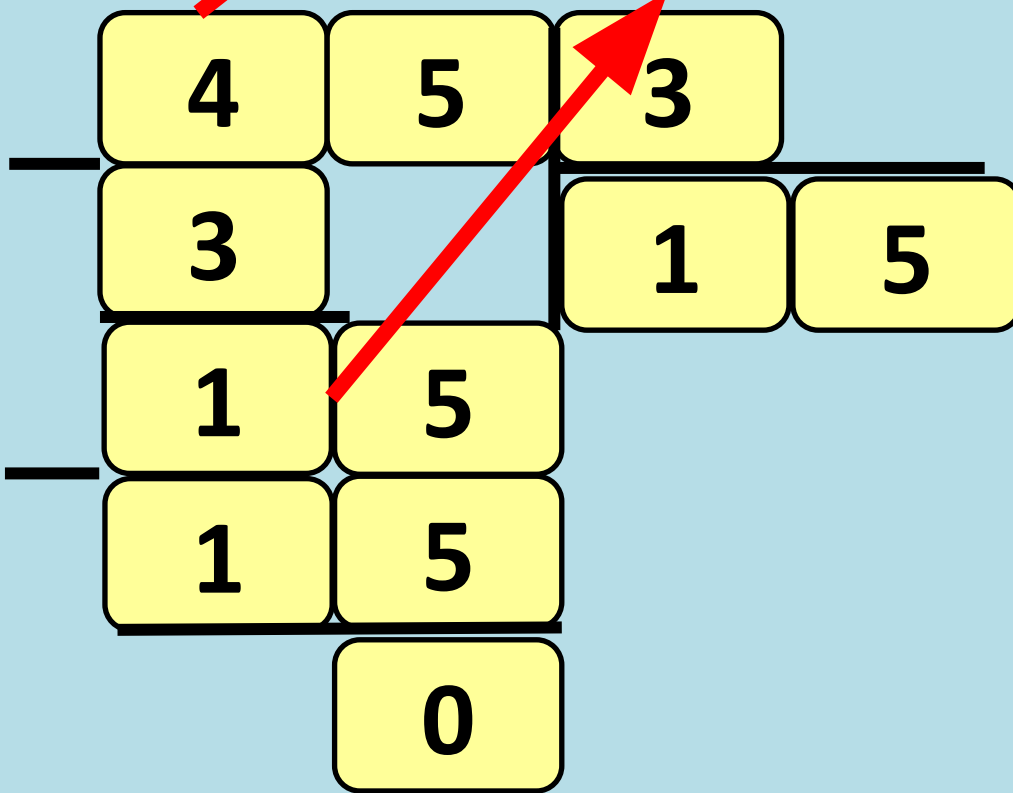
на 3

на 5

на 8



1-ое промежуточное
2-ое промежуточное
делимое



Выполни деление

$952 : 4 =$

238

$354 : 6 =$

59

$852 : 3 =$

284



Домашнее задание

№14-16.с.10

На выбор 2 номера

**Повторить таблицу
умножения и
деления**



Физминутка

**Упражнения для
ГОЛОВЫ**

**Упражнения для
СПИНЫ**

Упражнения для ног



Выполни деление, найди пару,
проверь

$561 : 3 =$

187

$287 : 7 =$

41

$712 : 8 =$

89



Реши задачу

В одной полке было 456 книг, что в 3 раза больше, чем в другой полке. Сколько книг в двух полках?

$$456 : 3 = 152(\text{к.})$$

во 2-й полке

$$456 + 152 = 608(\text{к.})$$

всего

Ответ: 608 книг в двух полках



№17

Длина -

455 мм

Ширина -

65 мм

Площадь

29575 кв.мм



Самооценка



Научу
всех!

Всё понятно!

Я попытаюсь!

Ничего не получается!

Не хочу ничего делать!

Итог урока

Мы уже умели...

**Новое было то,
что...**

**Чтобы уметь
выполнять
деление нужно...**

