

Урок математики  
в 1 классе  
Тема: Числа от 1 до 10.  
Закрепление

Выполнила: Мищукова Татьяна Валерьевна  
учитель начальных классов  
МБОУ «СОШ №13» г.Братск











Загадка:

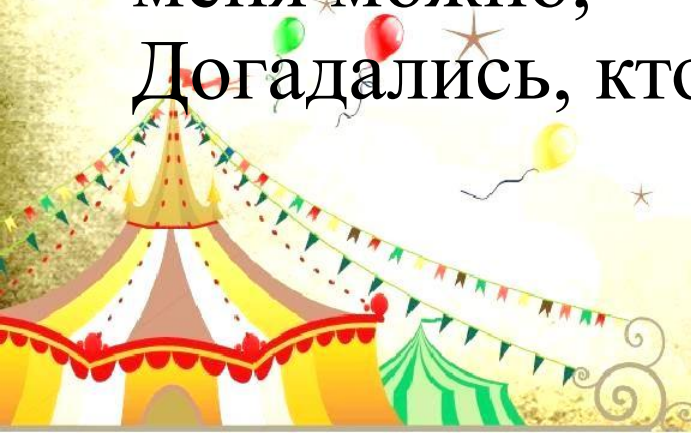
Я люблю смешить  
людей,

А особенно детей.

Выйти на манеж я рад,  
Чтоб повеселить ребят.


В цирке встретить  
меня можно,

Догадались, кто я?



# Задание 1.

1. Счет прямой и обратный.





# Задание 1.

2. Назовите соседей числа.



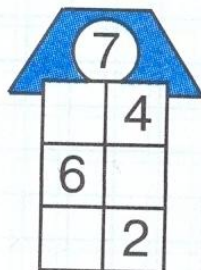
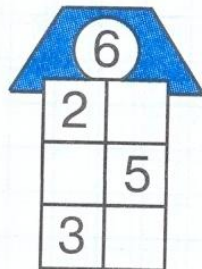
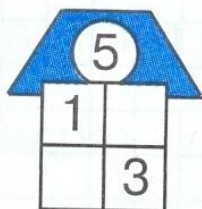
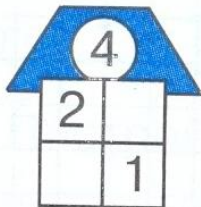
Назови соседей

<input type="text"/>	5	<input type="text"/>	<input type="text"/>	6	<input type="text"/>
<input type="text"/>	3	<input type="text"/>	<input type="text"/>	2	<input type="text"/>
<input type="text"/>	7	<input type="text"/>	<input type="text"/>	8	<input type="text"/>
<input type="text"/>	9	<input type="text"/>	<input type="text"/>	4	<input type="text"/>

# Задание 1.

## 3. Заселите числа в домики.

3 «Засели» числа в домики:





# 4. Зрительный зал в цирк



5	6	7	8
■	■	■	■



Загадка:

Бурый зверь малину любит

Его солнышко разбудит:


По весне закончит он

Долгий-долгий сладкий сон



## Задание 2. Решите задачи в стихах

Яблоки с ветки на землю упали.  
Плакали, плакали, слезы роняли  
Таня в лукошко их собрала.  
В подарок друзьям своим  
принесла  
Два Сережке, три Антошке,  
Катерине и Марине,  
Оле, Свете и Оксане,  
Самое большое - маме.  
Говори давай скорей,  
Сколько Таниных друзей?





## Задание 2. Решите задачи в стихах

С неба звездочка упала,  
В гости к детям забежала.  
Две кричат вослед за ней:  
«Не забудь своих друзей!»  
Сколько ярких звезд пропало  
С неба звездного упало?



## Задание 2. Решите задачи в стихах

Решила старушка ватрушки испечь.  
Поставила тесто, да печь затопила.  
Решила старушка ватрушки испечь,  
А сколько их надо — совсем позабыл  
Две штучки — для внучки,  
Две штучки — для деда,  
Две штучки — для Тани,  
Дочурки соседа...  
Считала, считала, да сбилась,  
А печь-то совсем протопилась!  
Помоги старушке сосчитать ватрушек





# Задание 2. Решите задачи в стихах

Три зайчонка, пять ежат  
Ходят вместе в детский сад.  
Посчитать мы вас попросим,  
Сколько малышей в саду?





# Задание 2. Решите задачи в стихах

Пять пирожков лежало в миске.  
Два пирожка взяла Лариска,  
Еще один стащила киска.  
А сколько же осталось в миске





# Физминутка «Веселый клоун»

Вышел клоун на арену,  
Поклонился всем со сцены:  
«Здравствуйте, мои дорогие!  
И маленькие, и большие,  
И пухленькие, и худые!»  
Вправо, влево и вперед,  
Поклонился всем, как мог!



Загадка:

С хозяином дружит,  
Дом сторожит,  
Живёт под крылечком,  
А хвост колечком.





# Задание 3. Решите неравенства

1. Сравни. Поставь знак  $<$ ,  $>$  или  $=$ .

$4 + 3 \dots 7$

$4 - 3 \dots 5$

$6 + 3 \dots 7$

$9 - 3 \dots 8$

$3 + 3 \dots 3$

$10 - 3 \dots 9$

$7 + 3 \dots 6$

$7 - 3 \dots 5$

$2 + 3 \dots 3$



Загадка:


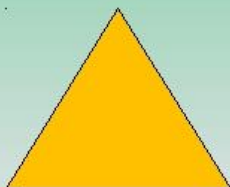
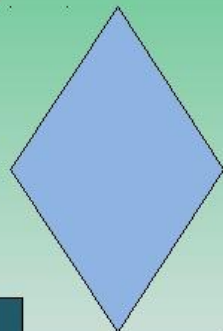

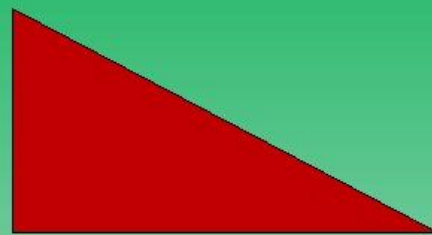
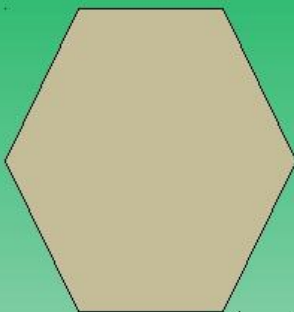
Он большой неимовер,  
Больше всех зверей, и  
Как шар воздушный —  
А ростом — этажа на





# Задание 4. Назовите фигуры

Назовите фигуры



Загадка:

Ноги цепкие, как руки,  
Ей, конечно, не до скуки:  
Все хватает без разбора,  
Ест бананы до упора,  
Дом родной ее – лиана,  
Что за зверь-то?





# Задание 5. Цифры рассыпались

Соедини цифры по порядку стрелочками.

A 5x5 grid containing the following numbers in circles:

	5	2	7	
4		6	1	8
	3	10	9	

An arrow points from the number 1 to the number 2.







★ Ссылка на мультфильм  
[https://www.youtube.com/watch?v=\\_lgdO1b8UKQ](https://www.youtube.com/watch?v=_lgdO1b8UKQ)