


Урок математики

во 2 классе




Девиз урока

**Есть
желание
– путь
найдетсЯ**



25 68 51 13 45

Контрольные работы





Тема урока:

**Работа над ошибками
по теме:**

«Двузначные числа»

Цель:

Проанализировать типичные
ошибки по теме:
«Двузначные числа».

Назови числа, найди ловушку :

3 дес. 7 ед.

9 дес. 2 ед.

4 дес. 4 ед.

8 ед. 1 дес.

5 дес. 0 ед.

Назови числа, найди ловушку:

3 дес. 7 ед.

9 дес. 2 ед.

4 дес. 4 ед.

8 ед. 1 дес.

5 дес. 0 ед.

Придумайте сами своё
такое же задание:



Найдите значение выражений

$7 + 10$

$60 - 50$

$30 + 6$

$60 + 40$

$12 + 5$


$17 - 5$

$60 + 7$

$80 - 30$

**Придумайте сами свои
похожие примеры:**





**Постройте
квадрат со
стороной 2 см.**

Физминутка



Быстро встали, улыбнулись.

Выше-выше потянулись.

Ну-ка, плечи распрямите,

Поднимите, опустите.

Вправо, влево повернитесь,

Рук коленями коснитесь.

Сели, встали. Сели, встали.

И на месте побежали.



Задачи

Части задачи:

Условие

Вопрос

Решение

Ответ

Составь краткую запись к задаче,
реши её.

В парке гуляло 20 девочек, а
мальчиков на 3 больше.

Сколько гуляло мальчиков?

Составь краткую запись к задаче,
реши её.

В парке гуляло 20 девочек, а
мальчиков на 3 больше.

Сколько гуляло мальчиков?

Проверь:

девочек – 20

мальчиков - ?, на 3 >

$$20 + 3 = 23 \text{ (м.)}$$

Ответ: 23 мальчика.

Составь краткую запись,
реши задачу.

В магазине было 60
арбузов, продали 40.
Сколько арбузов
осталось?

Составь краткую запись,
реши задачу.

В магазине было 60
арбузов, продали 40.
Сколько арбузов
осталось?




Было – 60 арбузов

Продали – 40 арбузов

Осталось -?

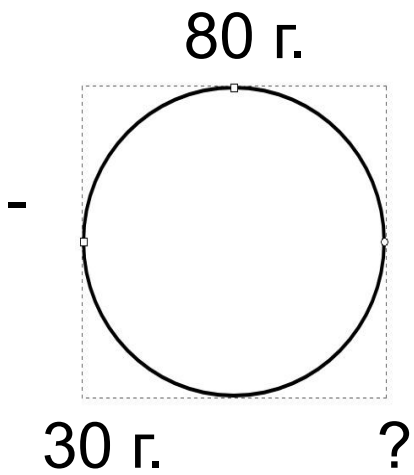
$$60 - 40 = 20$$

Ответ: 20 арбузов.



Составь круговую схему,
реши задачу.

У тётушки 80 гусей, 30 из них
белые, остальные серые.
Сколько серых гусей у
тётушки?



$$80 - 30 = 50 \text{ (г.)}$$

Ответ: 50 гусей

Рефлексия



Всё понял, могу объяснить
товарищу.



Многое понял, но мне ещё
нужна помощь.



Мне трудно было на уроке.