

Урок математики в 3 классе



Пожелания на урок

Пусть сегодня
урок будет....



Определи вид треугольника по углам

**Остроугольный
треугольник - это
такой треугольник, у
которого все углы
острые**



Определи вид треугольника по сторонам

**Разносторонний
треугольник- это
треугольник, у
которого все стороны
разные**



Начерти и отметь углы или стороны

равнобедренный

прямоугольный

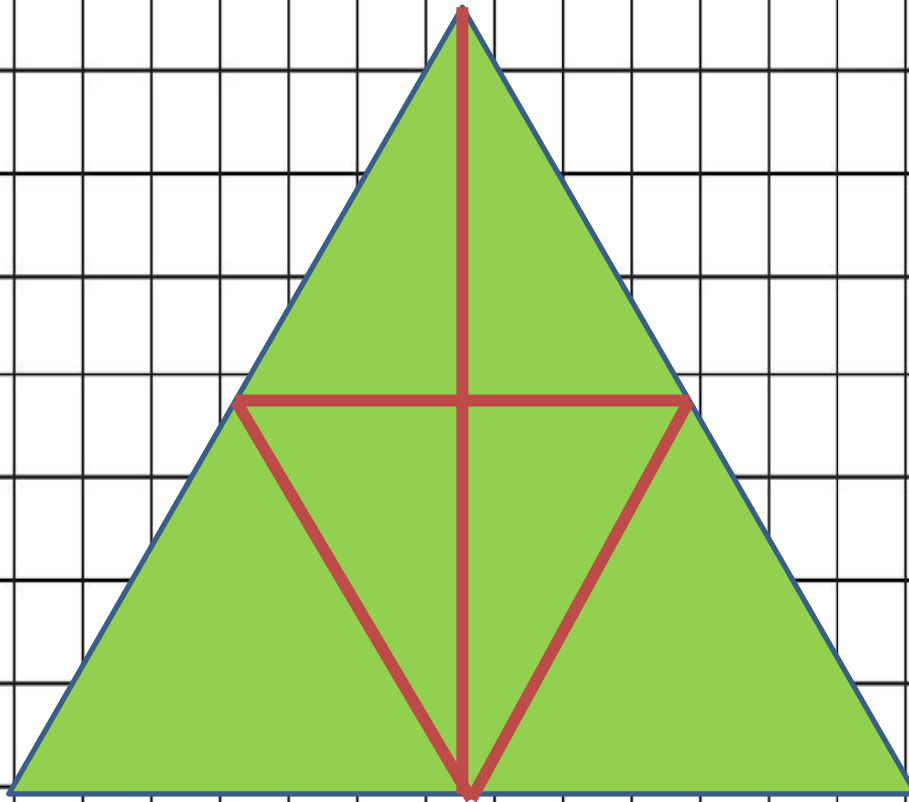
остроугольный

равносторонний


тупоугольный



?????



??????



ЗАДАЧА



Тема урока

Как мы
научились
формулировать
и решать задачи



Задачи урока

Повторить...

Уметь...

Развивать...



№437


	Серёжа	Витя	Коля
возраст	10 лет, на 2 года моложе	?	?, на 1 год старше

Промежуточное
неизвестное?



Домашнее задание

**ВЫПОЛНИТЬ
КОМПЛЕКСНУЮ
РАБОТУ «Кабан»**



Физминутка

Быстро встаньте, улыбнитесь,
Выше, выше, потянитесь.
Ну-ка, плечи распрямите,
Поднимите, опустите.
Влево, вправо повернитесь,
Руками коленей коснитесь.
Сели-встали, сели-встали
И на месте побежали.



Казбек




Алтайские горы



Кавказские горы

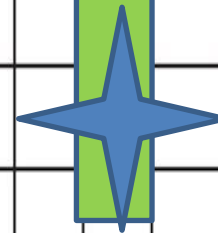





Самооценка

Умею составлять
задачи

Умею решать
задачи



Итог урока

Мы повторили...

Чтоб решить задачу,
нужно.....

