

Урок математики в 3 классе



С ВЕСЕННИМ
ПРИВЕТОМ!



?????

Из 9 спичек сделай 100



?????

Диана купила 15 конфет, а Лиана больше. Сколько конфет купила Лиана?

Диана – 15 конфет

Лиана – ?, на ... >



?????

Эдик решил 25 примеров, и Тимур столько же. Сколько они решили вместе?

Эдик – 25 примеров

Тимур – ... примеров



?????

В магазин привезли 400 кг яблок.
Сколько кг яблок и бананов
привезли в магазин?

Яблоко – 400 кг

Бананов - ...



?????

На спортивный кружок ходит в 3
раза больше детей, чем на
танцевальный. Сколько человек
ходит на спортивный кружок?

Танцевальный - ...

Спортивный - ?, в 3 раза

>



?????

В 1 день туристы проплыли 20 км на лодках, во 2 день – 15 км. Сколько они проплыли за 3 дня?

1 день – 20 км

2 день – 30 км

3 день – ... км



Самостоятельная работа

**Составьте краткую
запись к задаче,
дополните её
недостающими
данными и решите её**



?????

На сколько см твой рост
отличается от роста соседа?

На сколько кг твой вес
отличается от веса соседа?

На сколько метров река
Тура меньше реки Волги?



Тема урока

Как получить недостающие данные



Цель урока

Узнать, как решать задачи

Узнать, как получить
недостающие данные

Узнать, как решать задачи с
недостающими данными



№224

**ВЫЧИСЛИТЬ ПЛОЩАДЬ ПОЛА
В НАШЕМ КЛАССЕ**

Длина -

5 м

Ширина -

4 м

Площадь

20 м



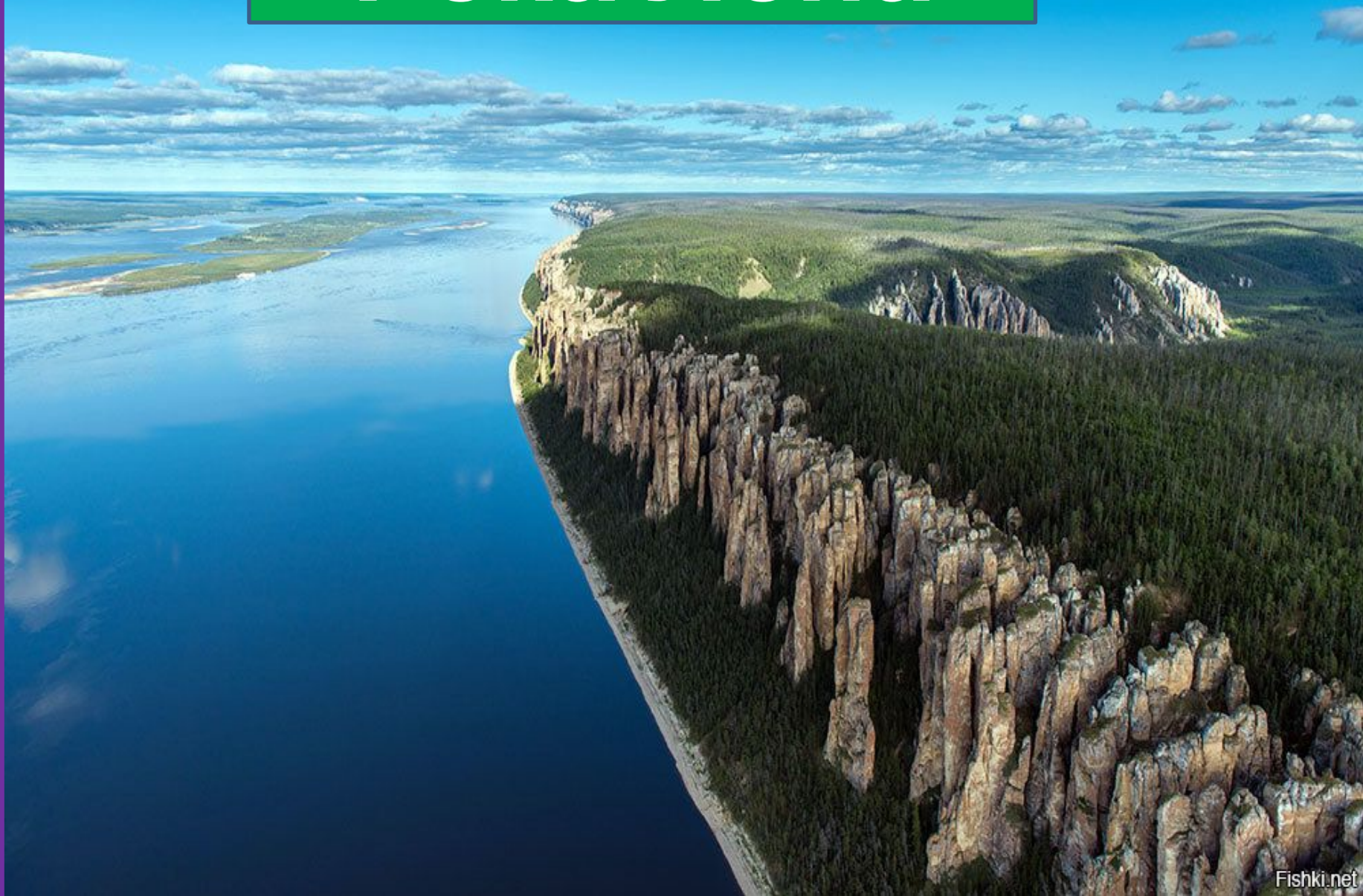
Домашнее задание

**№227.с. 79,
придумать свои
задачи**



Упражнение
«Ходьба»

Река Лена




Река Ишим



Река Тобол



На сколько
твой рост
отличается
соседа по



Придумайте свои задания


Сравните с

ПОМОЩЬЮ

ЛИНЕЙКИ

СМ ЛЕНТЫ

ВЕСОВ



??????

**Я всё быстро
понимаю!**

**Мне иногда нужна
помощь!**

**Я испытываю
трудности,
помогите!**

Итог урока

-Что новое открыли?

-Можете ли вы сами

придумывать

задачи?

