




Математик

а

**Назови множители,  
которые образуют  
произведения:**

**24, 32, 45, 64, 54, 9, 18, 2, 28**



# Реши

## задачи

На один костюм швея расходует 5 метров ткани. Сколько ткани нужно на 5 костюмов? 8 костюмов?

В одной коробке 8 карандашей. Сколько карандашей в 5 коробках? 9 коробках?

# На S и P прямоугольника, используя таблицу



<b>a</b>	<b>6 см</b>	<b>5 см</b>	<b>1 см</b>
<b>b</b>	<b>5 см</b>	<b>9 см</b>	<b>20 см</b>
<b>P</b>	<b>22 см</b>	<b>28 см</b>	<b>42 см</b>
<b>S</b>	<b>30 см<sup>2</sup></b>	<b>45см<sup>2</sup></b>	<b>20см<sup>2</sup></b>

$$P=(a+b)*2$$

$$S=a*b$$

**1 см<sup>2</sup>    1 дм<sup>2</sup>    1 м<sup>2</sup>**

**Подумай, какой меркой лучше измерить эти предметы?**




# Квадратный метр

Узнаем...  
Будем  
измерять...

Поупражняемся в

# Что такое квадратный метр?



1 м

$$1 \text{ дм}^2 = 100 \text{ см}^2$$

$$1 \text{ м}^2 = 100 \text{ дм}^2$$

