



Математик

а

# Выполни вычисления

$25:5$      $48:6$      $9*8$      $27:9$

$0:5$      $13-0$      $56:8$      $45:5$


$24:6$      $35:5$      $32:4$      $8*2$

# Ответь на

	Количество коробок	Количество предметов в коробке
Цветные карандаши	8	6
Краски	4	9
Фломастеры	6	8
Маркеры	7	4
Простые карандаши	8	3


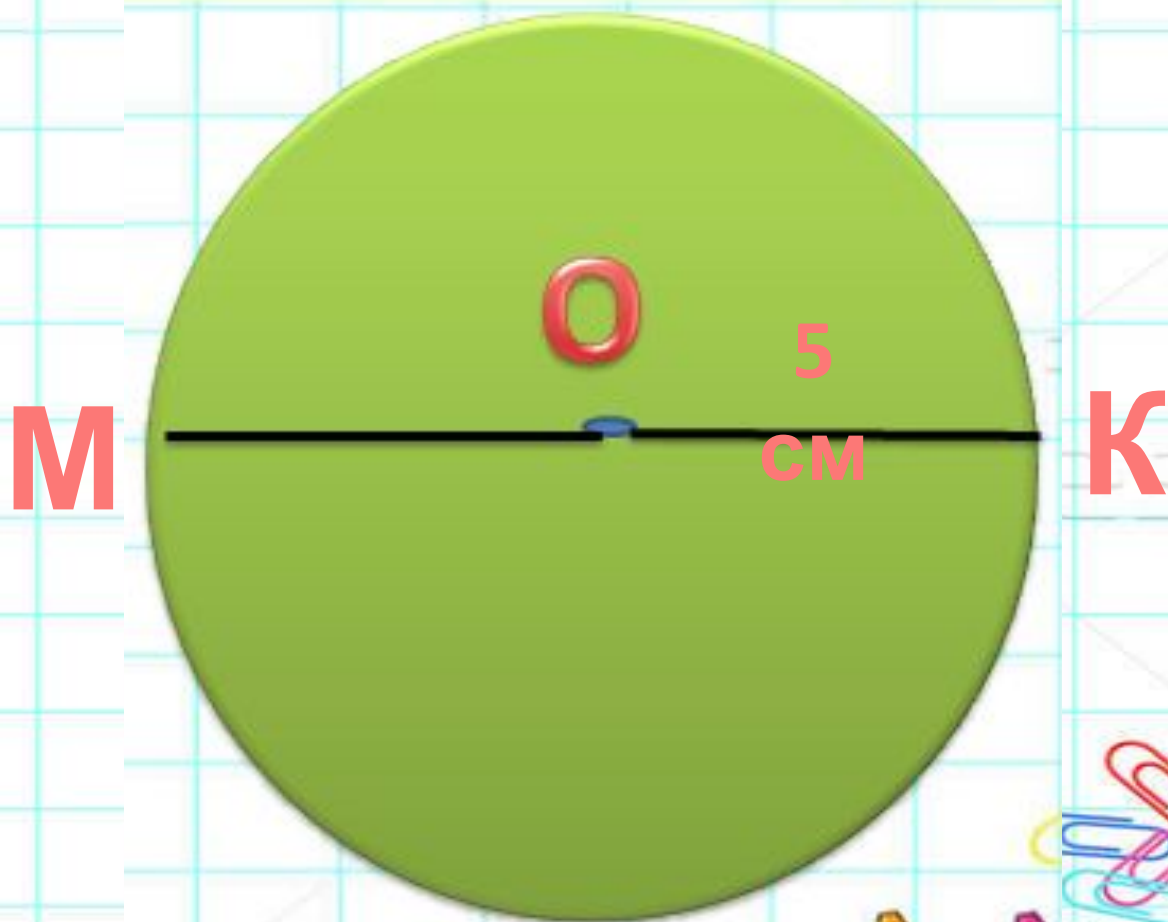
1. Сколько всего привезли цветных карандашей?
2. Сколько всего привезли фломастеров?
3. Сколько всего привезли красок?
4. Сколько всего привезли маркеров?
5. Сколько всего привезли простых карандашей?

Назовите фигуры:  
А) окружности;  
Б) круги.





# Чему равен диаметр?



# Отгадайте

*Месяцы ходят по кругу,  
Не уступая друг другу,  
Каждому - свой черёд.  
Вместе все месяцы -*

**Го**

**ДКИ:**

**Д**

*Двенадцать братьев  
Разно называются  
И разными делами  
занимаются.....*

**Месяц**

*Братьев этих ровно семь.  
Вам они известны всем.  
Каждую неделю кругом  
Ходят братья друг за другом.  
Попрощается последний -  
Появляется передний.*

**Дни**

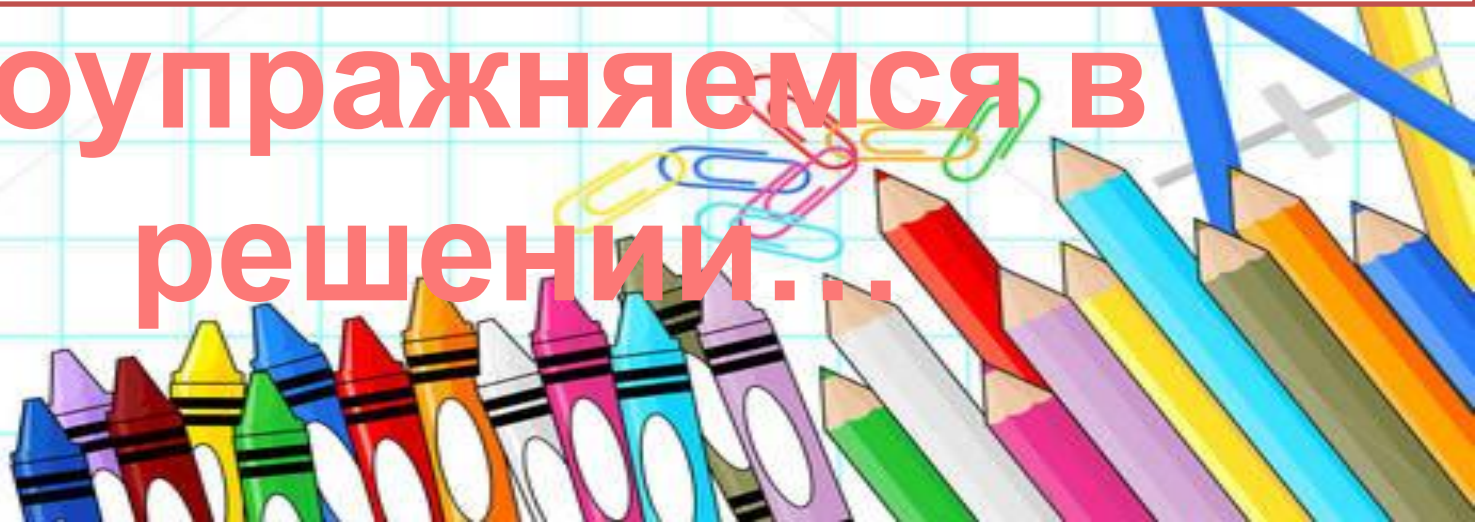
**ы**



# Единицы времени

Узнаем, какие  
существуют...

Поупражняемся в  
решении...





	январь	февраль	март
<b>Пн</b>	4 11 18 25	1 8 15 22	1 8 15 22 29
<b>Вт</b>	5 12 19 26	2 9 16 23	2 9 16 23 30
<b>Ср</b>	6 13 20 27	3 10 17 24	3 10 17 24 31
<b>Чт</b>	7 14 21 28	4 11 18 25	4 11 18 25
<b>Пт</b>	1 8 15 22 29	5 12 19 26	5 12 19 26
<b>Сб</b>	2 9 16 23 30	6 13 20 27	6 13 20 27
<b>Вс</b>	3 10 17 24 31	7 14 21 28	7 14 21 28

	апрель	май	июнь
<b>Пн</b>	5 12 19 26	3 10 17 24 31	7 14 21 28
<b>Вт</b>	6 13 20 27	4 11 18 25	1 8 15 22 29
<b>Ср</b>	7 14 21 28	5 12 19 26	2 9 16 23 30
<b>Чт</b>	1 8 15 22 29	6 13 20 27	3 10 17 24
<b>Пт</b>	2 9 16 23 30	7 14 21 28	4 11 18 25
<b>Сб</b>	3 10 17 24	1 8 15 22 29	5 12 19 26
<b>Вс</b>	4 11 18 25	2 9 16 23 30	6 13 20 27

	июль	август	сентябрь
<b>Пн</b>	5 12 19 26	2 9 16 23 30	6 13 20 27
<b>Вт</b>	6 13 20 27	3 10 17 24 31	7 14 21 28
<b>Ср</b>	7 14 21 28	4 11 18 25	1 8 15 22 29
<b>Чт</b>	1 8 15 22 29	5 12 19 26	2 9 16 23 30
<b>Пт</b>	2 9 16 23 30	6 13 20 27	3 10 17 24
<b>Сб</b>	3 10 17 24 31	7 14 21 28	4 11 18 25
<b>Вс</b>	4 11 18 25	1 8 15 22 29	5 12 19 26

	октябрь	ноябрь	декабрь
<b>Пн</b>	4 11 18 25	1 8 15 22 29	6 13 20 27
<b>Вт</b>	5 12 19 26	2 9 16 23 30	7 14 21 28
<b>Ср</b>	6 13 20 27	3 10 17 24	1 8 15 22 29
<b>Чт</b>	7 14 21 28	4 11 18 25	2 9 16 23 30
<b>Пт</b>	1 8 15 22 29	5 12 19 26	3 10 17 24 31
<b>Сб</b>	2 9 16 23 30	6 13 20 27	4 11 18 25
<b>Вс</b>	3 10 17 24 31	7 14 21 28	5 12 19 26

Сколько месяцев в году?

Сколько дней в неделе?

Сколько дней в году?

Какой месяц самый короткий?





# Запомн

# и!

**1 год – 12 мес.**

**1 нед. – 7 д.**

**1 год – 365/366 дней**

