




Математик

а

# Вычисли

$a$	0	1	6	9
$9 \cdot a$	0	9	54	81

$c$	0	7	28	63
$c : 7$	0	1	4	9



# Заполни пропуски

$$2 \text{ см} = 20 \dots \text{мм}$$

$$3 \text{ м} = 30 \dots$$

$$60 \text{ дм}$$

$$50$$

$$6 \text{ см} = 80 \dots \text{мм}$$

$$5 \text{ м} = 10 \dots$$

дм

$$8 \text{ дм} = \dots \text{см}$$

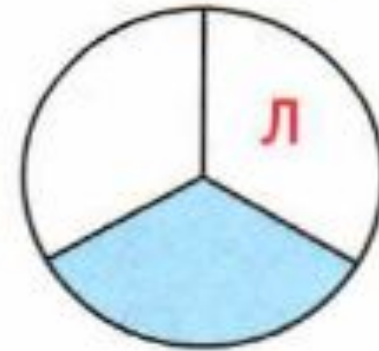
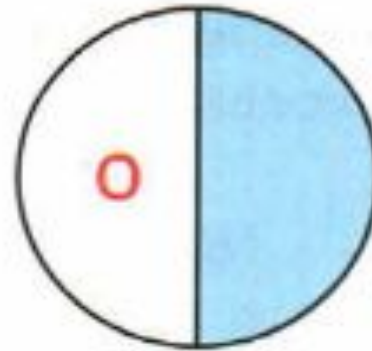
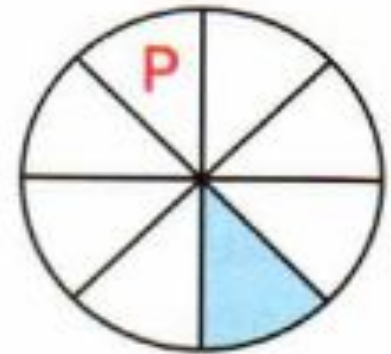
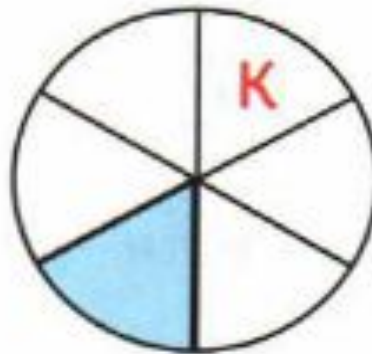
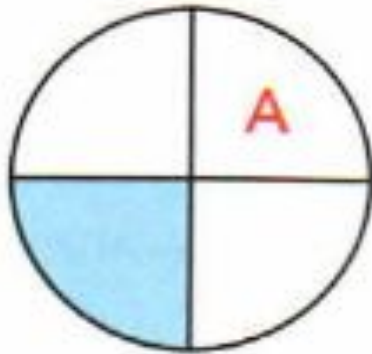
$$\text{дм} = \dots \text{см}$$

# Вычис ли

$1 * 17$     $73 : 73$     $0 * 92$     $1 * 0$     $0 : 13$   
 $98 * 1$     $82 : 1$     $1 * 65$     $19 * 0$     $0 : 1$

# Назови закрасенные доли в порядке

З  
е  
р  
к  
а  
л  
о



# Закрепление изученного

## Поупражняемся в решении...

