



Математик

Расставь знаки +,-,

,
.

$3 \bigcirc 6 \bigcirc 2 = 9$

$9 \bigcirc 3 \bigcirc 6 = 18$

$7 \bigcirc 3 \bigcirc 9 = 30$

$2 \bigcirc 8 \bigcirc 9 = 7$

КАКОЕ
ЧИСЛО
ЛИШНЕЕ?

7

14

21

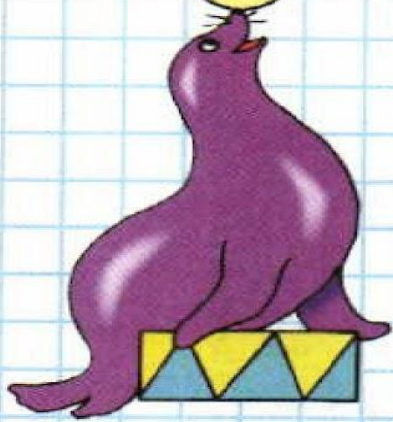
28

35



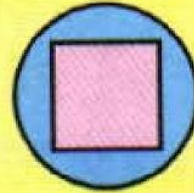

42

48

56



КАКАЯ
ФИГУРА
ЛИШНЯЯ?



Вычис- ли

Увеличь в 7 раз

8	6	9	4	3	1
---	---	---	---	---	---

Уменьши в 6 раз

42	30	54	36	18	6
----	----	----	----	----	---

Увеличь на 7

14	35	63	56	42	21
----	----	----	----	----	----

Уменьши на 6

30	12	24	42	6	18
----	----	----	----	---	----

Реши

**В саду 15 берез, а елей в 3
раза меньше. Сколько
елей в саду?**

**У кошки 4 лапы и 2 глаза.
Сколько лап и глаз у 5
кошек?**

**В день тюлень съедает 6
рыбин. Сколько рыбин съест
тюлень за 5 дней? 7 дней?**

Найди лишнее выражение

$B+14$ $32:8$

$24+10$

Тема «Решение выражений»

Будем
решать....

Закрепим....

