

Урок математики в 4 классе

Автор презентации: Кадырова Ольга Игоревна,
учитель начальных классов МАОУ ООШ №52 города Тюмени

2018



Настрой на урок

Мы урок наш начинаем,
Всем удачи пожелаем.
Вы друг друга поддержите
Постарайтесь, не ленитесь.
На «5» лишь трудитесь



Ленивые восьмерки



Развиваем мышление

	1	9	4
+	7	6	6
	9	6	0



Развиваем мышление

	8	4	7
+	0	5	8
	9	0	5



Развиваем мышление

	2	0	8
+	4	6	5
	6	7	3



??????

$a + b$

P

$a - b$

$a \times b$

$a : b$

S



Тема урока

**Поупражняемся
в нахождении
значений зависимой
величины**



Задачи урока

Уметь ...

Проверить ...

Развивать ...



Вычисли

a	80	360	890
a + 50	130	410	940



Вычисли

a	90	570	4100
a + 30	120	600	4130

3 балла



Вычисли

В	80	260	1000
В - 25	55	235	975



Вычисли

В	70	450	800
В - 35	35	415	765

3 балла



Вычисли

с	10	26	123
с x 2	20	52	246



Вычисли

с	10	25	231
с х 3	30	75	693

3 балла



Вычисли

у

27

90

369

$у : 3$

9

30

123



Вычисли

y	36	80	844
$y : 4$	9	20	211

3 балла



Вычисли

A (см)	3	12	40
P (см)	12	48	160



Вычисли

A (см)	5	11	30
P (см)	20	44	120

3 балла



Вычисли

A (см)	7	9	10
S (кв. см)	49	81	100



Вычисли

A (см)	3	5	8
S (кв. см)	9	25	64

3 балла



Домашнее задание

№122-125. с. 43

на выбор 2 номера





Запиши формулу, как найти
периметр квадрата

$$a \times 4$$



Вычисли Р

а (см)	2	3	5	8	10	50
Р (см)	8	12	20	32	40	200

6
баллов



Запиши формулу, как найти
площадь квадрата

а х а



Вычисли S

a (см)	2	3	5	8	10	50
S (кв. см)	4	9	25	64	100	2500

6
баллов




Запиши пример и
начерти

Начерти квадрат,
периметр которого
равен 12 см

$$12 : 4 = 3$$

3 см



2 балла




Запиши пример и
начерти

Начерти квадрат,
площадь которого
равна 25 кв. см

$$25 : 5 = 5$$

5 см



2 балла



В одной коробке 15
конфет

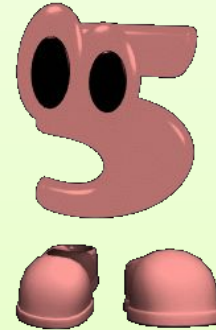
Число коробок	2	4	6	10
Число конфет	30	60	90	150

4 балла



Посчитай баллы

36-38 баллов



30-35 баллов



19- 29 баллов





Итог урока

Самое легкое задание

Самое сложное задание

Самое интересное
задание

