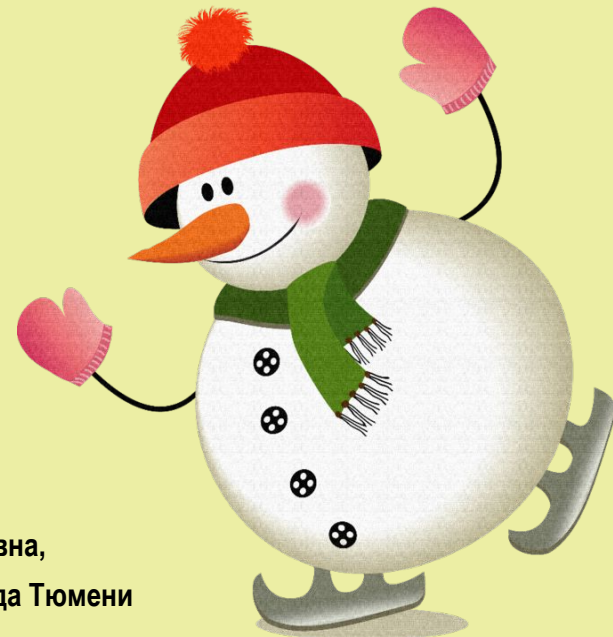


Урок математики в 4 классе



Автор презентации: Кадырова Ольга Игоревна,
учитель начальных классов МАОУ ООШ №52 города Тюмени

2018

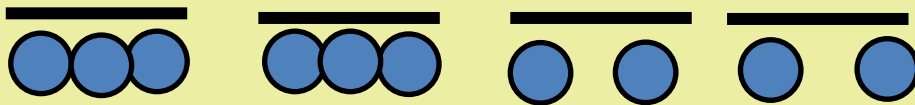
Настрой на урок

Желаю всем
новогоднего
настроения, белого
снега, скользких
горок и быстрых
санок, чтобы они
дoveзли вас к мечте!



Задание на логику

Папа и 3 сына катались на велосипедах. Всего было 10 колёс. Сколько было велосипедов двухколёсных и трёхколёсных?



$$2 \times 4 = 8$$

$$10 - 8 = 2$$

²
двухколёсных
трехколёсных




Задание на ЛОГИКУ


Полина нарисовала 5 фигур:
треугольники и квадраты. Всего у
фигур 18 вершин. Сколько
треугольников и сколько квадратов
нарисовала Полина?

2

треугольника



3 квадрата



$$5 \times 3 = 15$$

$$18 - 15 = 3$$

$$5 - 3 = 2$$



Гимнастика мозга

Качание головой

**«Ленивые
восьмерки»**

**«Шапка для
размышлений»**

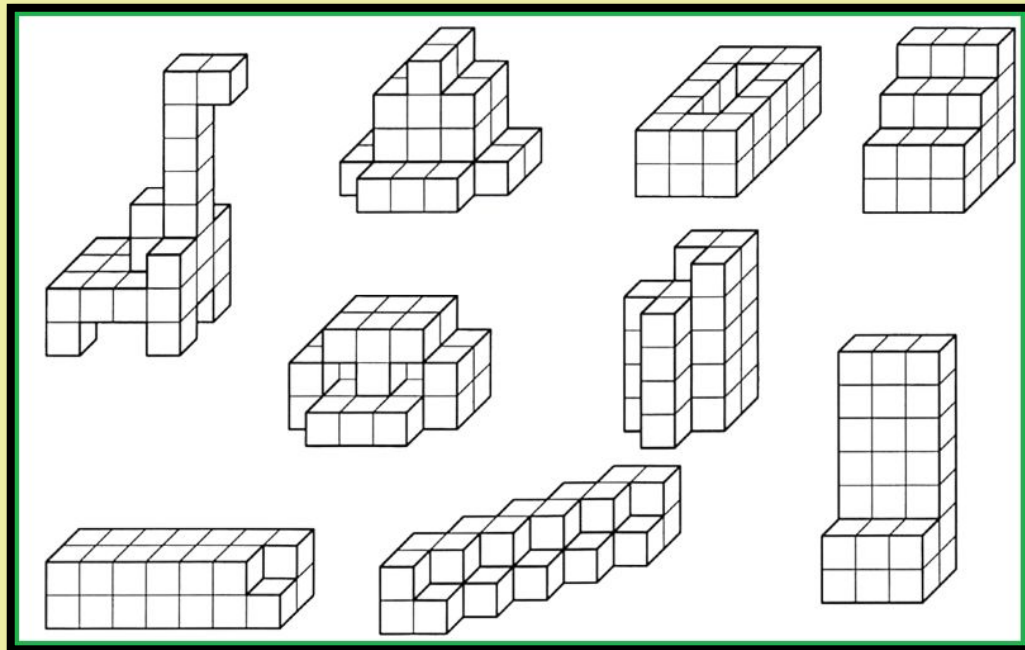


Самостоятельная работа

Реши 2 задачи на
логическое
мышление



?????



Тема урока

**Поупражняемся в
измерении объема**



Задачи урока

Уметь ...

Развивать ...

Воспитывать ...



№345

1 фигура

11 кубиков

2 фигура

10 кубиков

3 фигура

12 кубиков

4 фигура

12 кубиков

**Начерти
фигуру
из 10 кубиков**



Домашнее задание

Решить задачи
другого варианта





Новогодние Песни

№346

Найди объем

длина

5 см

ъем

надо длину

ширина

3 см

ину

высота

2 см


$$5 \times 3 \times 2 = 30 \text{ куб.}$$

см


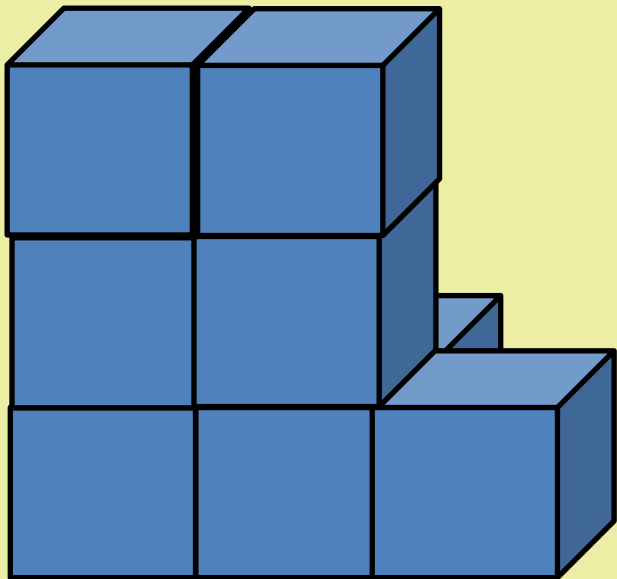


№348

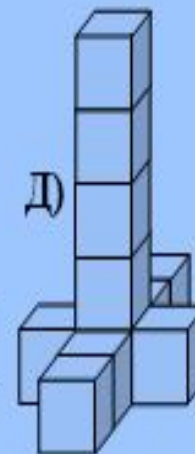
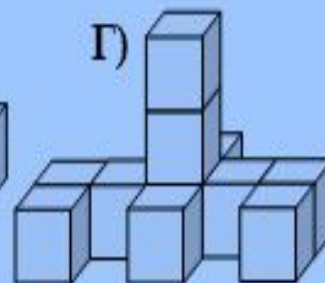
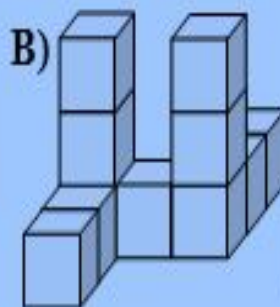
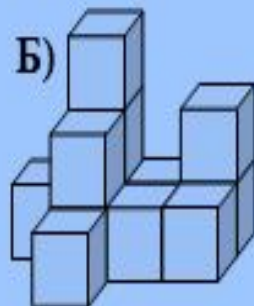
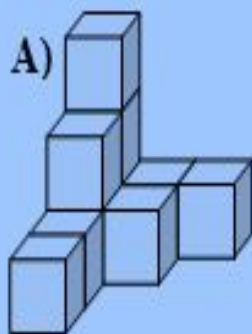
Дополни до 8 куб. см



№348



Сосчитай объем кубиков



10

12



11

11

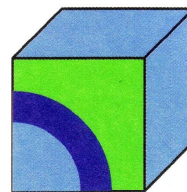
11




Задание на логику



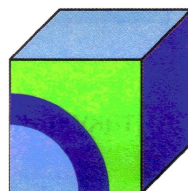
1



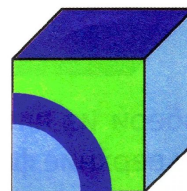
2



3



4



5



Самооценка

Очень всё легко!

Иногда нужна
помощь!

Постоянно нужна
помощь!



Итог урока

Повторили ...

Уже можем...

Еще надо поучиться

...

