

Урок математики в 3 классе




Настрой на урок

**Урок
математики
учит быть...**




Вычисли

180 рублей




Вычисли

670 рублей




Вычисли


1660 рублей



Сколько сдачи должно быть со 100 рублей?



15 рублей




45 рублей

40 рублей



Хватит ли 100 рублей на покупку?



15 рублей



45
рублей



50
рублей

110
рублей



Что можно купить на 200 рублей?



120
рублей



50
рублей



100 рублей



60 рублей



70 рублей



10 рублей



Тема урока

**Разные
задачи**

**на куплю-
продажу**



Задачи урока

Уметь.....

Развивать...

Воспитывать...



Чей завтрак самый дешёвый?

	каша	йогурт	чай
<u>Лена</u>	15	10	10
Диана	20	15	15
Полин а	25	20	10



Чей обед самый дорогой?

	суп	салат	сок
<u>Дани</u> л	45	15	20
Дима	35	20	15
Артём м	25	10	10



Детям дали по 100 рублей, хватит ли им?

	2 блюдо	салат	морс
<u>Борис</u>	45	30	15
<u>Кирил</u> л	55	25	20
Алина	35	35	25






ВЫЧИСЛИ СТОИМОСТЬ ПОКУПКИ


товар	ручка	альбом	тетрадь
цена	10 р.	20 р.	5 р.
КОЛ-ВО	3 шт.	2 шт.	4 шт.
СТОИМ- ТЬ	30 р.	40 р.	20 р.
	30 + 40 + 20 = 90 р.		




Как можно разменять 500 р. пятью купюрами?



Как можно разменять 500 р. десятью купюрами?



Как можно разменять 500 р. шестью купюрами?



Самостоятельная работа

1. Вычисли стоимость всей покупки

2. Реши задачу, найди сдачу

3. Разменяй деньги



Домашнее задание

**Решить
другой
вариант с.р.**









<http://videouroki.net>

Реши задачу

Карандаш и 3 одинаковые тетради стоят 70 рублей.
Сколько стоит 1 тетрадь,
если карандаш стоит 10
рублей?



Решение

$$70 - 10 = 60$$

(р.) – 3 тетради

$$60 : 3 = 20$$


(р.) – 1 тетрадь

$$(70 - 10) : 3 = 20$$



Реши задачу

4 одинаковых альбома и
краски стоят 170 рублей.
Сколько стоит 1 альбом,
если краски стоят 50
рублей?



Решение

$$170 - 50 = 120 \quad (\text{р.}) - 4 \text{ альбома}$$

$$120 : 4 = 30 \quad (\text{р.}) - 1 \text{ альбом}$$

$$(170 - 50) : 4 = 30$$



№297

У Миши есть линейка
длиной 30 см. Как ему
отмерить верёвку
длиной 1 м?



Решение

$$30 \times 6 = 180$$

$$180 + 20 = 200$$

$$30 \times 6 + 20 = 200$$

$$30 \times 7 = 210$$

$$210 - 10 = 200$$



Самооценка

Всё легко и просто!

Немного сомневаюсь!

Думаю, что не получилось



Итог урока

Самое лёгкое задание

Самое трудное задание

**Самое интересное
задание**

Самое нужное задание

