

# Урок математики в 3 классе





# Настрой на урок

**Математика  
любит ....  
учеников**




# Вычисли

## 310 рублей



# Вычисли


## 780 рублей





# Вычисли

## 2160 рублей



**Тема урока**

**Разные  
задачи**

**на куплю-  
продажу**




# Цель урока

**закрепить  
умение....**



# Сколько сдачи должно быть со 100 рублей?



55 рублей

15 рублей

30 рублей





# Хватит ли 100 рублей на покупку?



45 рублей



35  
рублей



15  
рублей

95 рублей



**Мама дала 500 р., сколько  
будет сдачи?**

<b>товар</b>	<b>батон</b>	<b>сметана</b>	<b>молоко</b>
<b>цена</b>	<b>15 р.</b>	<b>30 р.</b>	<b>10 р.</b>
<b>КОЛ-ВО</b>	<b>2 шт.</b>	<b>3 шт.</b>	<b>5 пач.</b>
<b>СТОИМ- ТЬ</b>	<b>30 р.</b>	<b>90 р.</b>	<b>50 р.</b>

$$500 - 170 = 330 \text{ (р.)}$$




**Мама дала 200 р., сколько  
будет сдачи?**

<b>товар</b>	<b>мяч</b>	<b>скакалка</b>	<b>ракетк а</b>
<b>цена</b>	<b>25 р.</b>	<b>10 р.</b>	<b>20 р.</b>
<b>КОЛ-ВО</b>	<b>2 шт.</b>	<b>3 шт.</b>	<b>4 пач.</b>
<b>СТОИМ- ТЬ</b>	<b>50 р.</b>	<b>30 р.</b>	<b>80 р.</b>
<b><math>200 - 160 = 40</math> (р.)</b>			



# Реши задачу

Кисточка и 3 одинаковых альбома стоят 110 рублей. Сколько стоит 1 альбом, если кисточка стоит 20 рублей?





# Решение

$$110 - 20 = 90$$

(р.) – 3 альбома

$$90 : 3 = 30$$


(р.) – 1 альбом

$$(110 - 20) : 3 = 30$$



# Реши задачу

Альбом и 4 одинаковых кисточки стоят 180 рублей. Сколько стоит 1 кисточка, если альбом стоит 20 рублей?



# Решение

$$180 - 20 = 160$$

(р.) – 4 кисточки

$$160 : 4 = 40$$

(р.) – 1 кисточка

$$(180 - 20) : 4 = 40$$



# Домашнее задание

**Решить  
другой  
вариант с.р.**







Анна Яранова

№298



$$24 : 6 = 4(\text{кг})$$

- в 1 пакете  
мандаринов



№298



$$25 : 5 = 5(\text{кг})$$

- в 1 пакете  
апельсинов



# Что тяжелее? На сколько?

$$24 : 6 = 4(\text{кг})$$

$$25 : 5 = 5(\text{кг})$$

$$5 - 4 = 1(\text{кг})$$





# Задача

**В 3 ящика разложили поровну 24 кг яблок, в 5 ящиков разложили поровну 50 кг груш. Что тяжелее и на сколько: пакет с яблоками или пакет с грушами?**



# Что тяжелее? На сколько?

$$24 : 3 = 8(\text{кг})$$

$$50 : 5 = 10(\text{кг})$$

$$10 - 8 = 2(\text{кг})$$


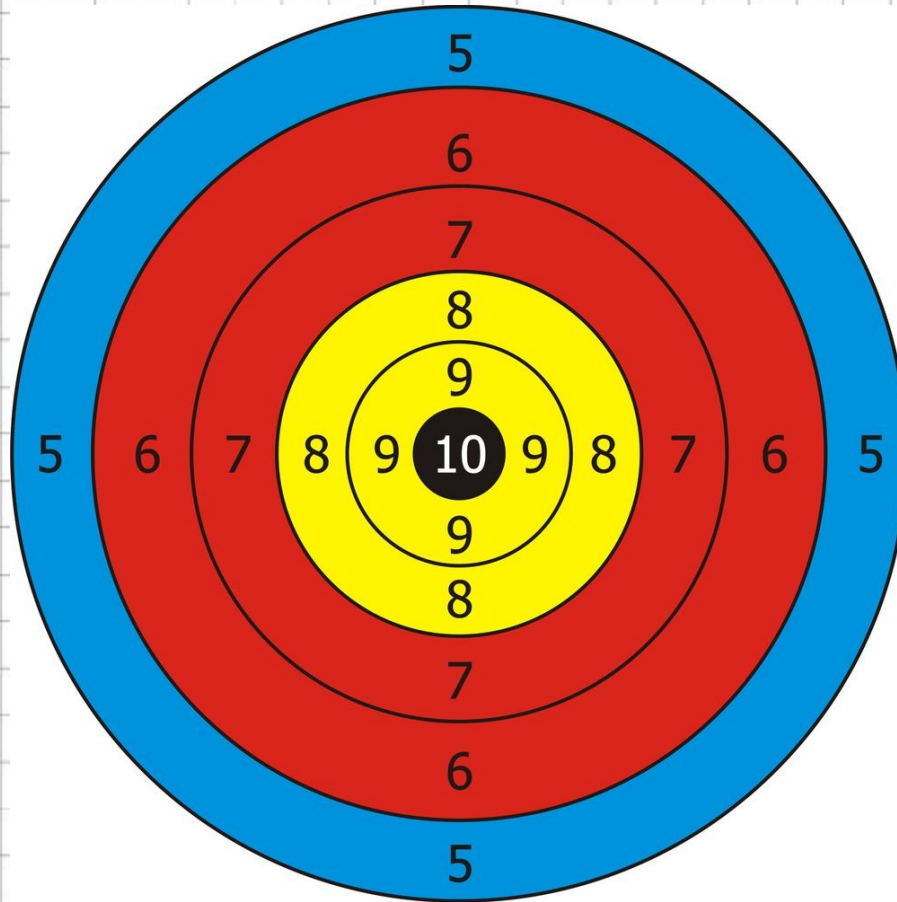


# Самостоятельная работа

**Реши задачу по  
теме: «Купля-  
продажа»**



# Самооценка



# Итог урока

**Чем урок был полезен?**

**Что у вас лучше  
получается?**

**Над чем ещё нужно  
поработать?**

