

Урок математики в 4 классе



Автор презентации: Кадырова Ольга Игоревна,
учитель начальных классов МАОУ ООШ №52 города Тюмени

2019

Настрой на урок

Наши мальчики ...

Наши девочки ...



Развиваем мышление

Полина родилась в декабре 2008 года.
Сколько полных лет будет Полине в
2019 году в ноябре?

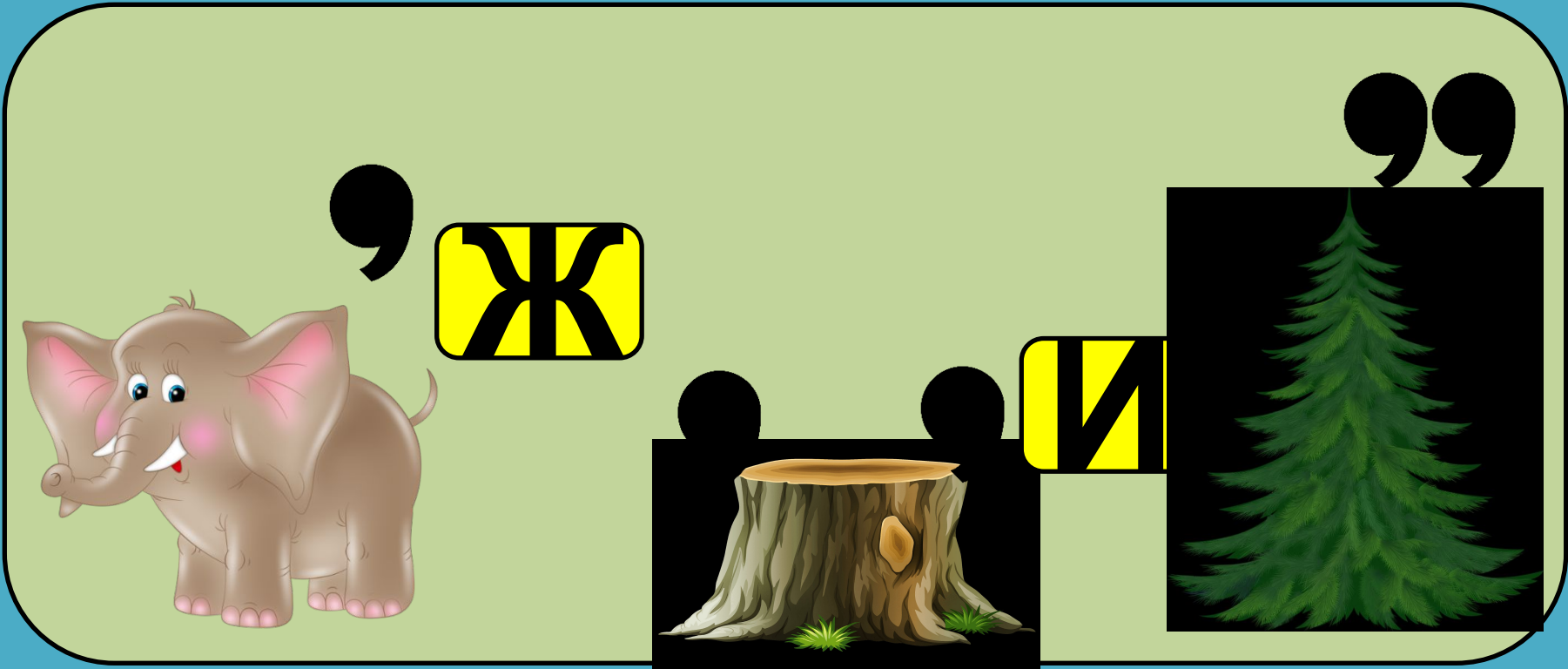
10 лет

Булат родился в апреле 2009 года.
Сколько полных лет будет Булату в
2019 году в феврале?

9 лет



Ребус



СЛОЖЕНИЕ

Выполни сложение

$$256 + 344 =$$

600

$$267 + 423 =$$

690

$$378 + 322 =$$

700




Ребус

””



ЧИ



К =
ИЕ

ВЫЧИТАНИ
Е

Выполни вычитание

$$568 - 231 =$$

337

$$600 - 348 =$$

252

$$800 - 307 =$$


493



Ребус

К = Ч

“ “ “



ВЕЛИЧИНА

Вырази

1 м =

10 дм

1 м =

100 см

1 м =

1000 мм

Единицы
длины



Вырази

1 ч =

60 мин

1 мин =

60 с

1 ч =

3600 с

Единицы времени



Вырази

1 Т =

10 Ц

1 Т =

1000 КГ

1 КГ =

100 Ц

Единицы
массы



??????

2568 кг + 158 кг

2568 кг + 3 ц

569 с – 237 с

3569 с – 5 мин



Тема урока

**Сложение и
вычитание
величин**



Цель урока

Научиться выполнять вычитание величин

Научиться выполнять сложение величин

Научиться выполнять сложение и вычитание величин



Выполните сложение

величин

$$3690 \text{ с} + 420 \text{ с} =$$

$$4110 \text{ с}$$

$$56349 \text{ м} + 26601 \text{ м} =$$

$$82950 \text{ м}$$

$$2536 \text{ кг} + 89763 \text{ кг} =$$

$$92299 \text{ кг}$$



Выполните вычитание величин

$$928 \text{ дм} - 637 \text{ дм} =$$

291 дм

$$500000 \text{ ц} - 15689 \text{ ц} =$$

484311 ц

$$4348 \text{ мин} - 1672 \text{ мин} =$$

2676 мин



Физминутка



Выполни сложение

ВЕЛИЧИН

120 кг

40 см

42 ч

32 ц

67 м

25 мин



Проверь сложение

ВЕЛИЧИН

3320 кг

120 кг + 3200 кг

2545 мин

2520 мин + 25
мин

6740 см

6700 см + 40 см



Выполни вычитание

ВЕЛИЧИН

350 л


37 кв. см

60 кв. м

35 мин

4 ч

120 куб. дм



Проверь вычитание

ВЕЛИЧИН

230 куб дм

350 куб. дм – 120 куб
дм

5963 кв. см

6000 кв. см – 37 кв. см

220 мин

240 мин – 20 мин =



№65

1 поле -

500 ц

2 поле -

480 ц

3 поле-

525 ц

$$500 + 480 + 525 = 1505 \text{ ц}$$



№70

**В одном бидоне было 3 л
молока, а в другом 3 кг молока.
Сколько молока в двух
бидонах?**



1 л молока = 1 кг 30 г



**Какую из данных величин
можно вычесть из 350 л?**

800 л

350 л – 20 куб. дм

600 кв. см



**Какую из данных величин
можно вычесть из 3 ч?**

**180 мин – 40
мин**

8 ч

10 ц



Самооценка

Умею

выполнять
сложение
величин

Умею выполнять
вычитание
величин



Итог урока

Повторили ...

Узнали ...

Закрепили ...

