

Урок математики в 4 классе



Автор презентации: Кадырова Ольга Игоревна,
учитель начальных классов МАОУ ООШ №52 города Тюмени

2019

Настрой на урок

**Ученики нашего класса не
ТОЛЬКО....., НО И ...**



Назови числа, которые являются не только трёхзначными, но и нечётными

662

483

671

64

219

3901

Назови число

Назови самое маленькое
число, которое может
делиться без остатка не
только на 5, но и на 4



$$20 : 4 = 5$$

$$20 : 5 = 4$$

Назови число

Назови самое маленькое
число, которое может
делиться без остатка не
только на 15, но и на 6



$$30 : 15 = 2$$

$$30 : 6 = 5$$

Вычисли

$$(14 + 26) : 4 + 35 =$$

45

$$(56 + 14) \times 3 + 8 =$$

218

$$15 \times 2 + 15 \times 6 =$$

120



Вычисли

$$25 + 5 \times 6 =$$

75

$$28 + 2 \times 9 + 2 =$$

48

$$30 : 5 + 40 : 5 =$$

14



?????

4 апреля 2019 года выпало на
четверг. Какой день недели будет
14 апреля?

04

2019
Апрель

Пн	Вт	Ср	Чт	Пт	Сб	Вс
1	2	3	4	5	6	7
8	9	10	11	12	13	14
15	16	17	18	19	20	21
22	23	24	25	26	27	28
29	30	1	2	3	4	5

воскресень

е

?????

27 марта 2019 года выпало на среду. Какой день недели будет 9 апреля, если в марте 31 день?

03

2019
Март

Пн	Вт	Ср	Чт	Пт	Сб	Вс
25	26	27	28	1	2	3
4	5	6	7	8	9	10
11	12	13	14	15	16	17
18	19	20	21	22	23	24
25	26	27	28	29	30	31

04

2019
Апрель

Пн	Вт	Ср	Чт	Пт	Сб	Вс
1	2	3	4	5	6	7
8	9	10	11	12	13	14
15	16	17	18	19	20	21
22	23	24	25	26	27	28
29	30	1	2	3	4	5

ВТОРНИК

??????

ЧМС ршт лгчск

здч



Тема урока

**Учимся решать
логические задачи**



Задачи урока

Уметь ...

Развивать



№245

1. «Круглое»

2. В записи 6 цифр

3. Меньше, чем

100010

100000



№246

Круглые

двузначные, меньше

15

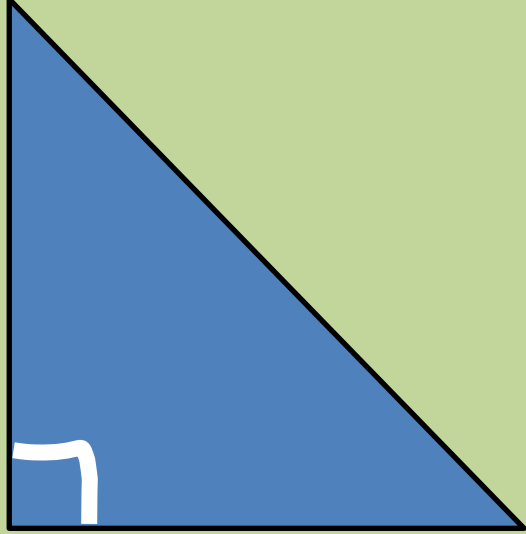
10

Двузначные, меньше 15

14, 13, 12, 11, 10



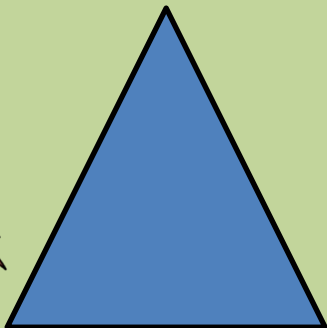


№247



№248



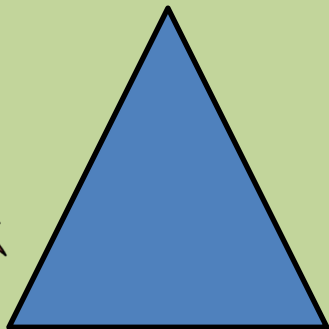
**В любом треугольнике
есть острый угол**



правда

№248

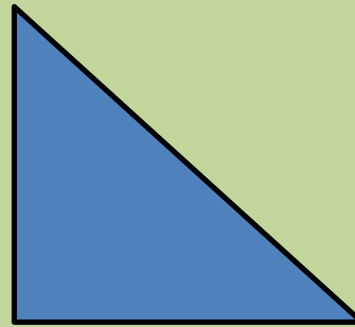
**В любом треугольнике
есть прямой угол**



ЛОЖЬ

№248

Если в треугольнике
есть прямой угол, то
этот треугольник
является
прямоугольным

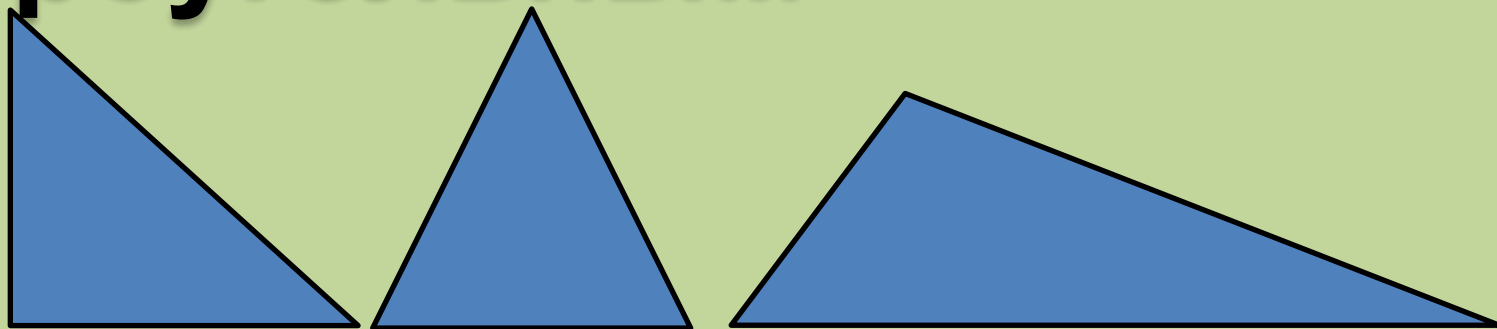


правда

№248

Если в треугольнике
есть острый угол, то
этот треугольник
является

остроугольным



ЛОЖЬ

Если в

четырёхугольнике есть
прямой угол, то этот
четырёхугольник
является

прямоугольником



ЛОЖЬ

№248

Если в

четырёхугольнике все
углы прямые, то этот
четырёхугольник
является

прямоугольником



правда



Есть еще варианты?

$$\begin{array}{r} + \quad 7 \quad 0 \quad 3 \\ 7 \quad 0 \quad 3 \\ \hline 1 \quad 4 \quad 0 \quad 6 \end{array}$$



№250

+

с

т

о

л

с

т

у

л

к

л

а

с

с



№250

+

6

5

2

3

6

5

4

3

1

3

0

6

6



Домашнее задание

**ГОТОВИМСЯ К
ВПР, №4**



Самооценка



Логическая тропинка

Итог урока

Мы повторили ...

Мы узнали....

Мы научились...

