


# Урок математики в 3 классе



# Настрой на урок

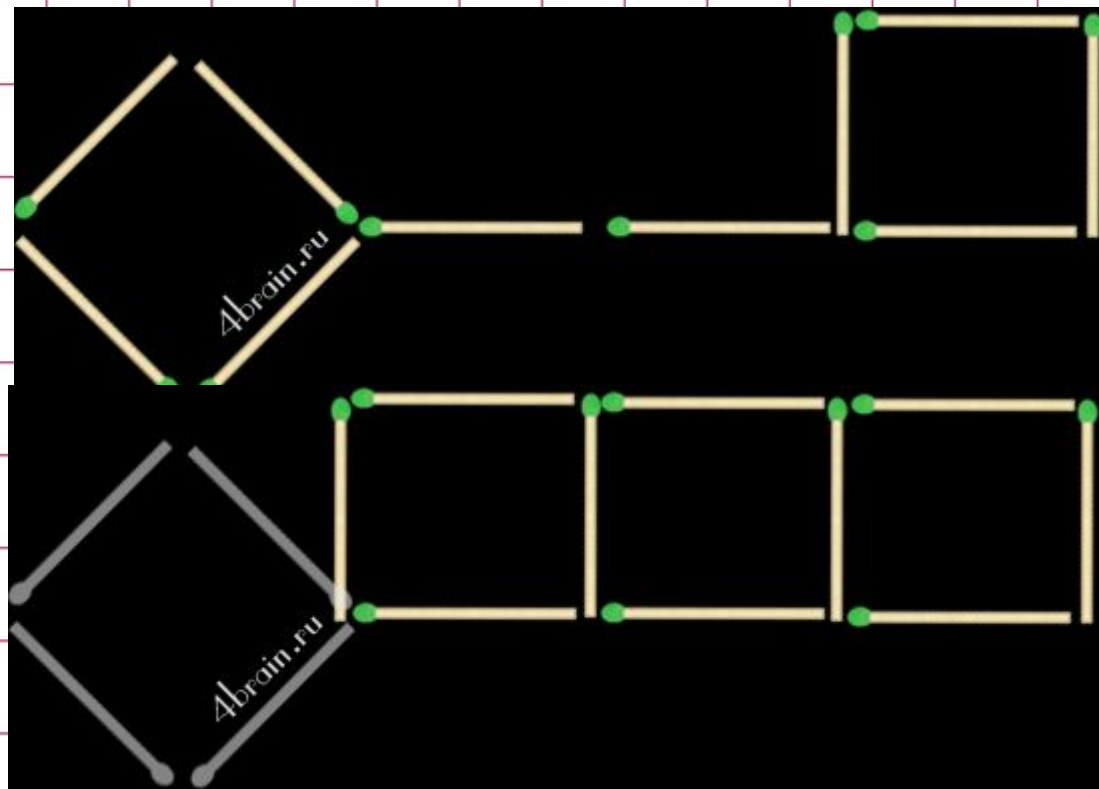
Желаю  
девочкам...

Желаю  
мальчикам...



# КЛЮЧ К НОВЫМ ЗНАНИЯМ!

В этой задаче из 10 спичек сложена форма ключа. Передвиньте 4 спички так, чтобы получилось три квадрата.



?????

В магазин привезли 5  
ящиков фруктов. Сколько  
всего кг фруктов привезли?



20 кг

?????

Выполни разностное  
сравнение цветов и стульев  
в классе

Цветов-

?

Стульев-

?



?????

Купили 3 коробки печенья.  
Сколько весит покупка?



12 кг

# Санкт-Петербург



# Тюмень





# Тюмень



# Самостоятельная работа

## Задачи с недостающими данными



# ТЫСЯЧА

Т



А



З = Я

# Тема

## Умножение на число 1000



# Цель урока

Уметь выполнять деление на 1000

Уметь выполнять умножение на  
100

Уметь выполнять умножение на  
1000



# 1000 x 2

$1000 \times 3 =$

3000

$1000 \times 7 =$

7000

$1000 \times 6 =$

6000

$1000 \times 4 =$

4000

$1000 \times 5 =$

5000

$1000 \times 9 =$

9000

$1000 \times 8 =$

8000

$1000 \times 1 =$

1000

$1000 \times 10 =$


10000



# Домашнее задание

№236-238. с.82







# 8 x 1000

$3 \times 1000 =$

3000

$9 \times 1000 =$

9000

$2 \times 1000 =$

2000

$4 \times 1000 =$

4000

$7 \times 1000 =$

7000

$5 \times 1000 =$

5000

$6 \times 1000 =$

6000

$1 \times 1000 =$

1000

$23 \times 1000 =$

23000



Найди пару,  
проверь

$$1 \times 10 \times 10 \times 10 = 1000$$



# №235

Увеличь каждое  
однозначное число в 1000  
раз, запиши только ответы

1000, 2000, 3000, 4000, 5000, 6000,  
7000, 8000, 9000



**Выбери и запиши число,  
которое в 1000 раз  
больше числа 458**

4580

45800

458000

40580

45080



**Выбери и запиши число,  
которое в 1000 раз  
больше числа 421**

40210

42100

420100

421000

412000



**Выбери и запиши число,  
которое в 1000 раз  
больше числа 360**

36000

630000

306000

30600

360000



# Реши задачу

В одном ящике 15 кг яблок.  
Сколько кг яблок в 1000  
таких ящиках?

$$15 \times 1000 = 15\ 000$$

Ответ: 15000 кг яблок



# №239

5 KM =

5000 M

3 M =

3000 MM

9 KM =

9000 M

8 M =

8000 MM

12 KM =

12000 M

14 M =

14000 MM

45 KM =

45000 M

455 M =

455000 MM





# Термометр комфорта



# Итог урока

Мы повторили темы...  
Для это нужно....

