


Урок математики в 1 классе

Автор презентации: Кадырова Ольга Игоревна,
Учитель начальных классов МАОУ ООШ №52 города Тюмени
2020

Настрой на урок



Узнай массу



4 кг



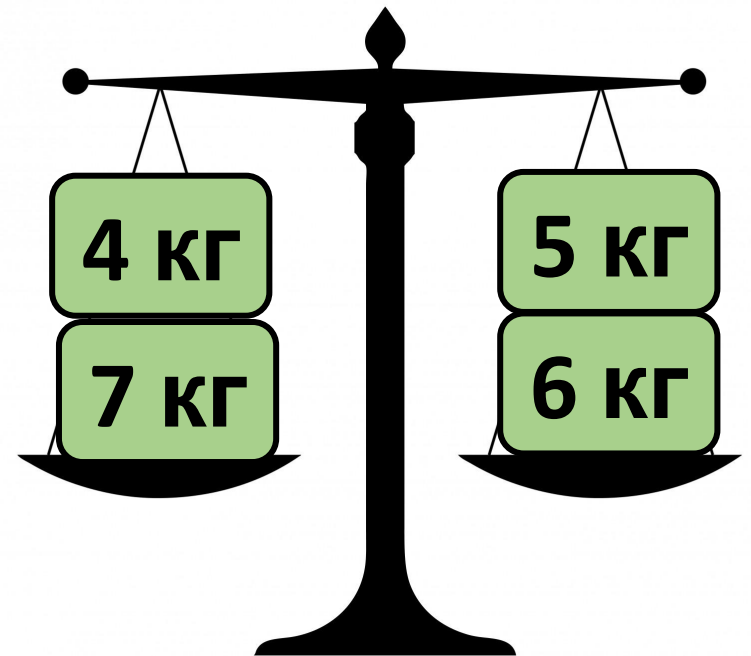
7 кг



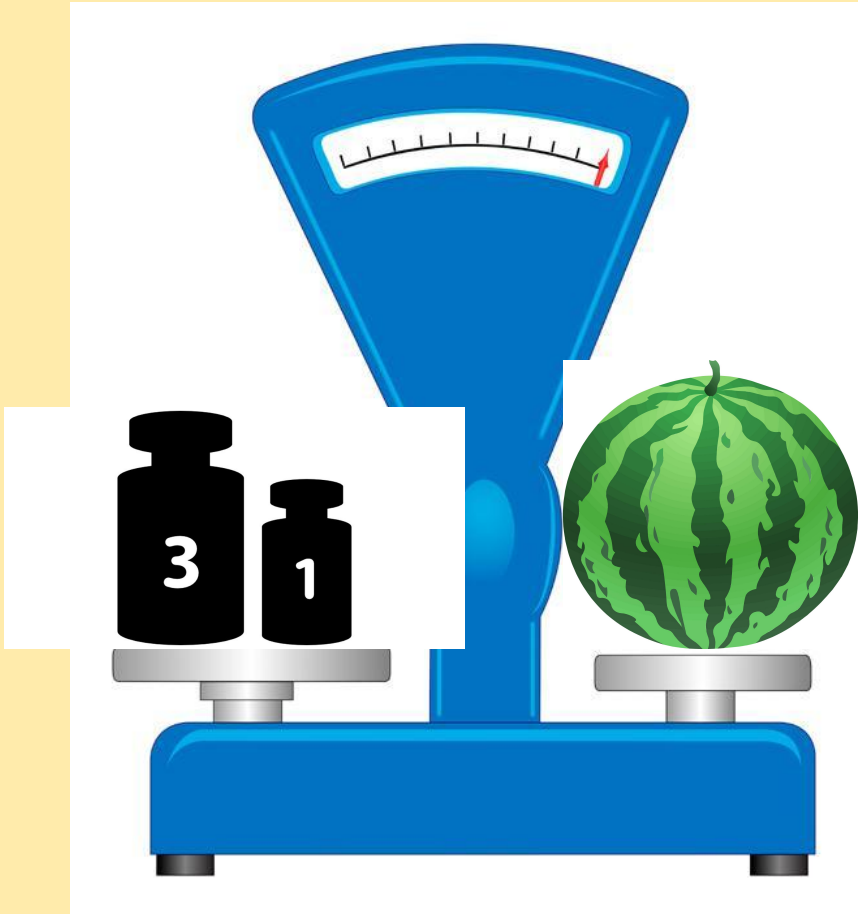
5 кг



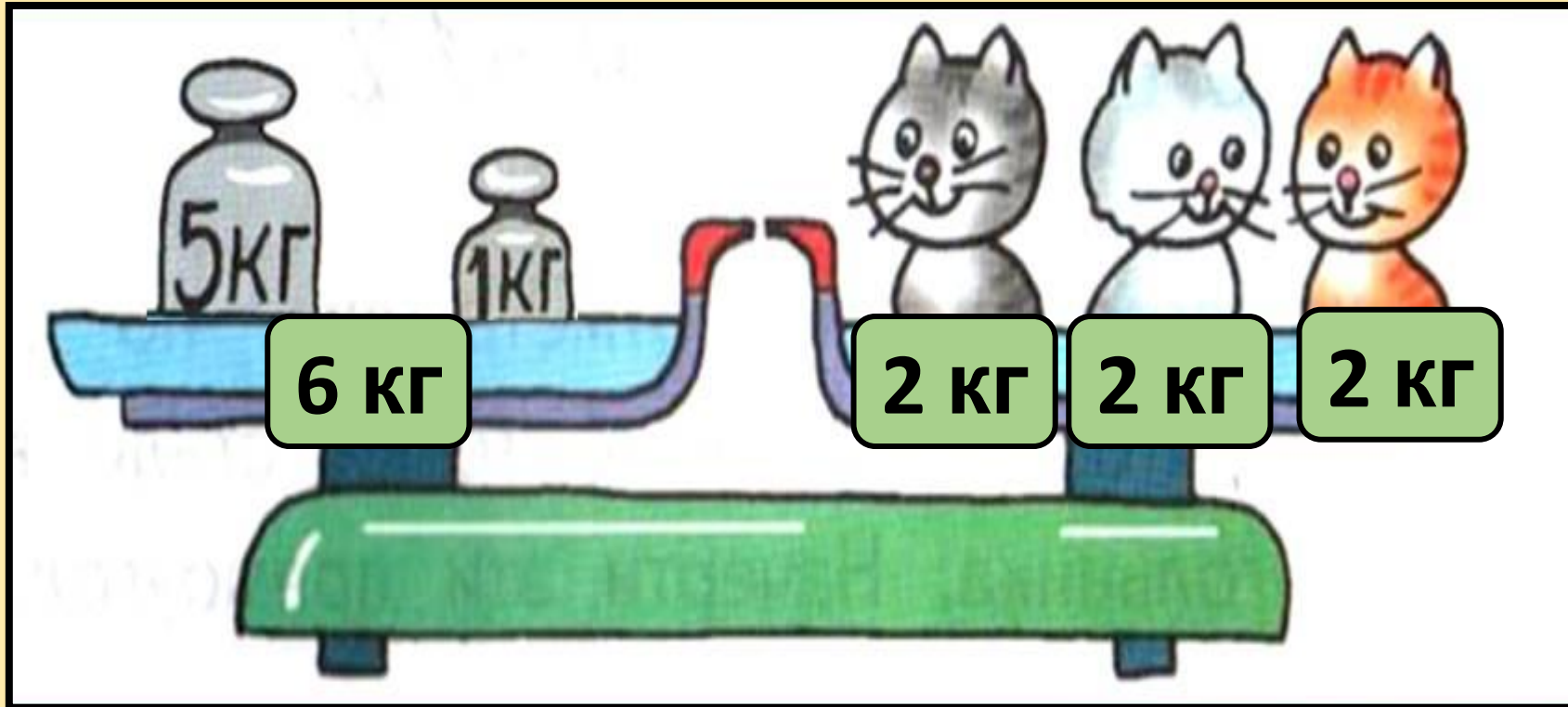
6 кг



Узнай массу дыни?



СКОЛЬКО ВЕСИТ КОТЁНОК?



??????

длина

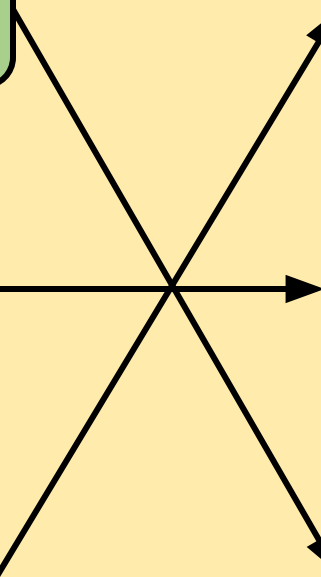
литр

масса

килограм
м

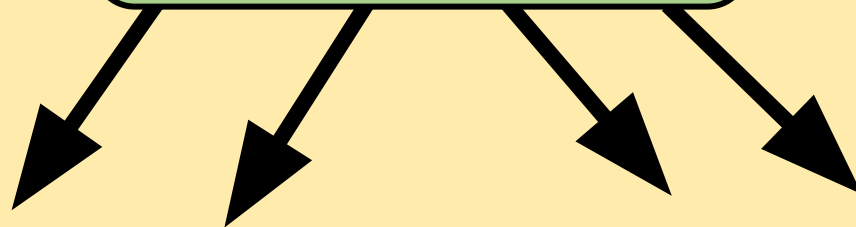
вместимост
ь

сантимет
р



Тема
урока

Литр



Что можно измерять в литрах?



Определи ВМЕСТИМОСТЬ



Сравни



>



$$3 - 1 = 2$$

Задача

6 л

9 л

4 л

1 л



10 л

7 л

8 л

3 л

2 л

5 л

5 л

Задача

В банке-

3 л

В
бидоне-

7 л

10 л

$$3 + 4 = 7(\text{л})$$

$$3 + 7 = 10(\text{л})$$



Задача

Утром-

2 стакана

Вечером

1 стакан

Осталос
ь-

2 стакана

3

ст.



5 стаканов

Вычисли

8

$$10 - 6 + 4$$

6

$$2 - 2 + 6$$

4

$$9 - 7 + 2$$

7

$$10 - 9 + 6$$

7

$$7 + 1 - 1$$

7

$$9 - 6 + 4$$

Задача

У Тани-

4 ленты

У Кати-

6 лент

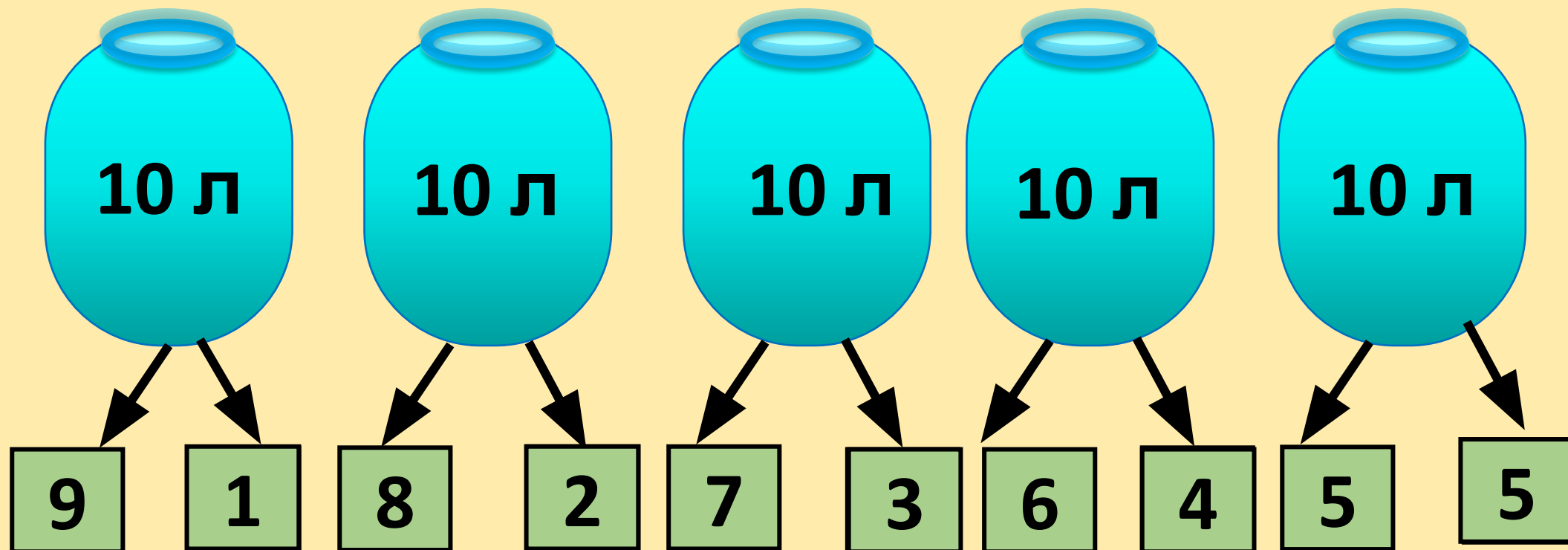
10

лент

$$4 + 2 = 6 \text{ (л.)}$$

$$4 + 6 = 10 \text{ (л.)}$$







5

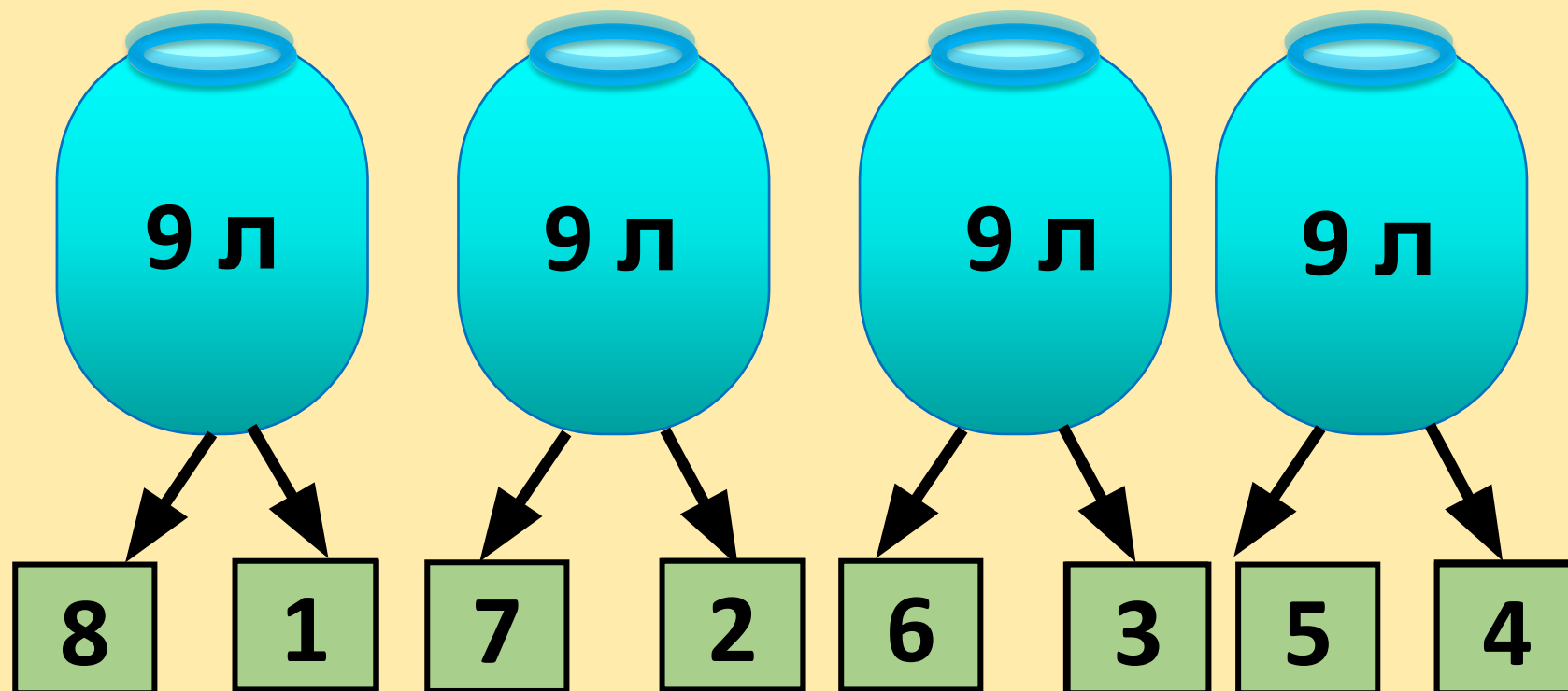
1

4


2

3


3



Самооценка




ПОЛНО



ПОЛОВИН

а



мало

**ИТОГ
урока**

Урок был полезным

Он может пригодится



ССЫЛКИ

[мама с банкой картинка на прозрачном фоне](#)
[глаза картинка для детей на прозрачном фоне](#)
[весы магазинные картинка для презентации](#)
[гиря для весов картинка для детей на прозрачном фоне](#)
[арбуз картинки для детей на прозрачном фоне](#)
[дыня картинки для детей на прозрачном фоне](#)
[узнай массу в килограмм](#)
[узнай массу в кг 1 класс](#)
[лента картинка на прозрачном фоне](#)
[бочка картинка картинка на прозрачном фоне](#)
[кастрюля картинка картинка на прозрачном фоне](#)
[варенье в банке](#)
[бензин в канистре](#)
[растительное масло](#)
[сок 2 литра](#)
[бидон картинка для детей на прозрачном фоне](#)
[смайлики картинки для детей](#)
[1 литр вишневого сока](#)