

Урок математики в 1 классе

Автор презентации: Кадырова Ольга Игоревна,
Учитель начальных классов МАОУ ООШ №52 города Тюмени
2020

Настрой на урок

**С каждым
днём я
становлюсь**



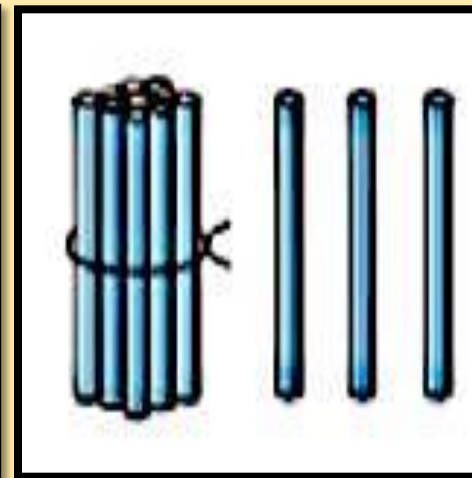
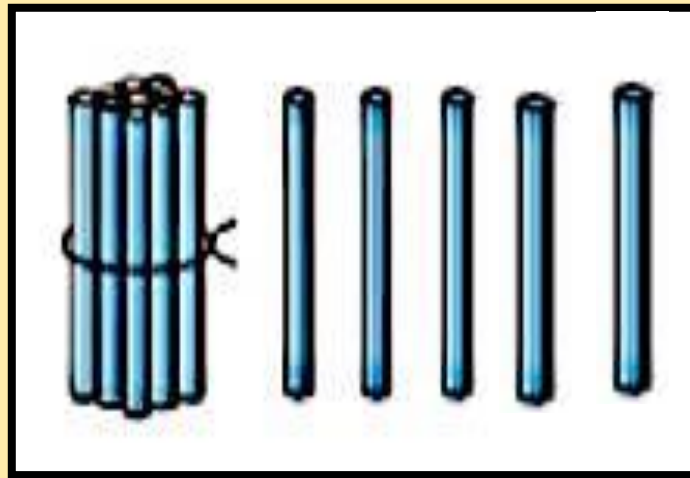
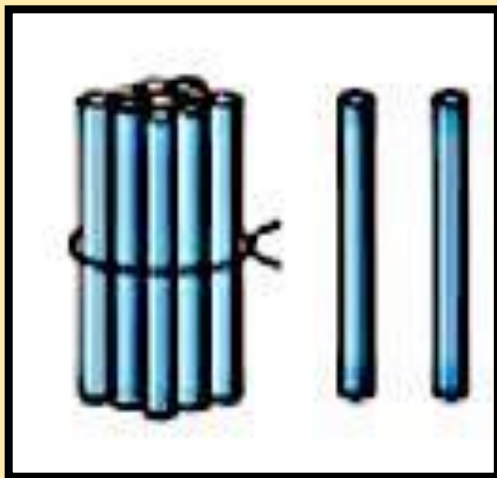
Посчитай

18

13



Сосчита й

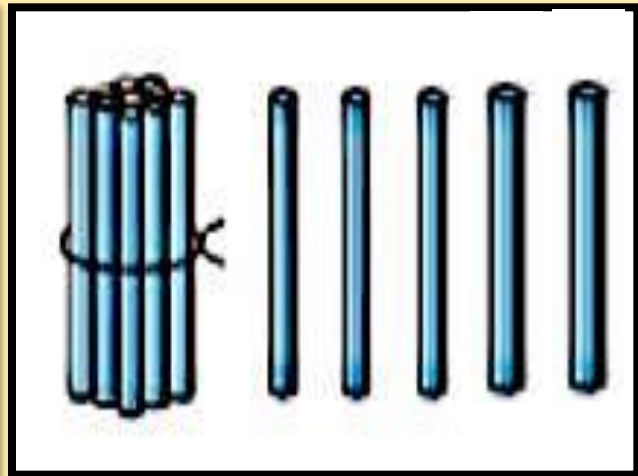
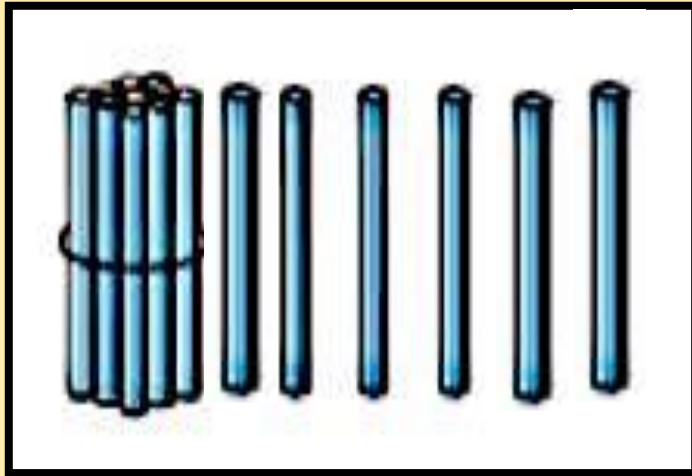
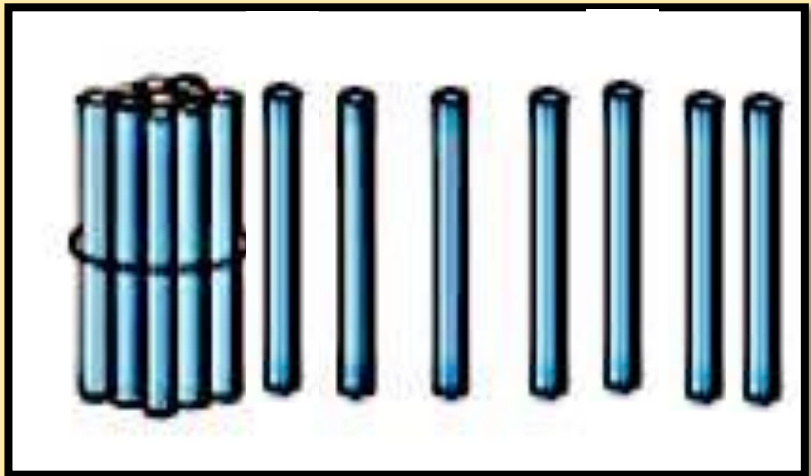


12

15

13

Сосчита й




17

16

15



Какое число
пропущено?



?????

11, 12, 13, 14, 15, 16, 17, 18, 19

? ?

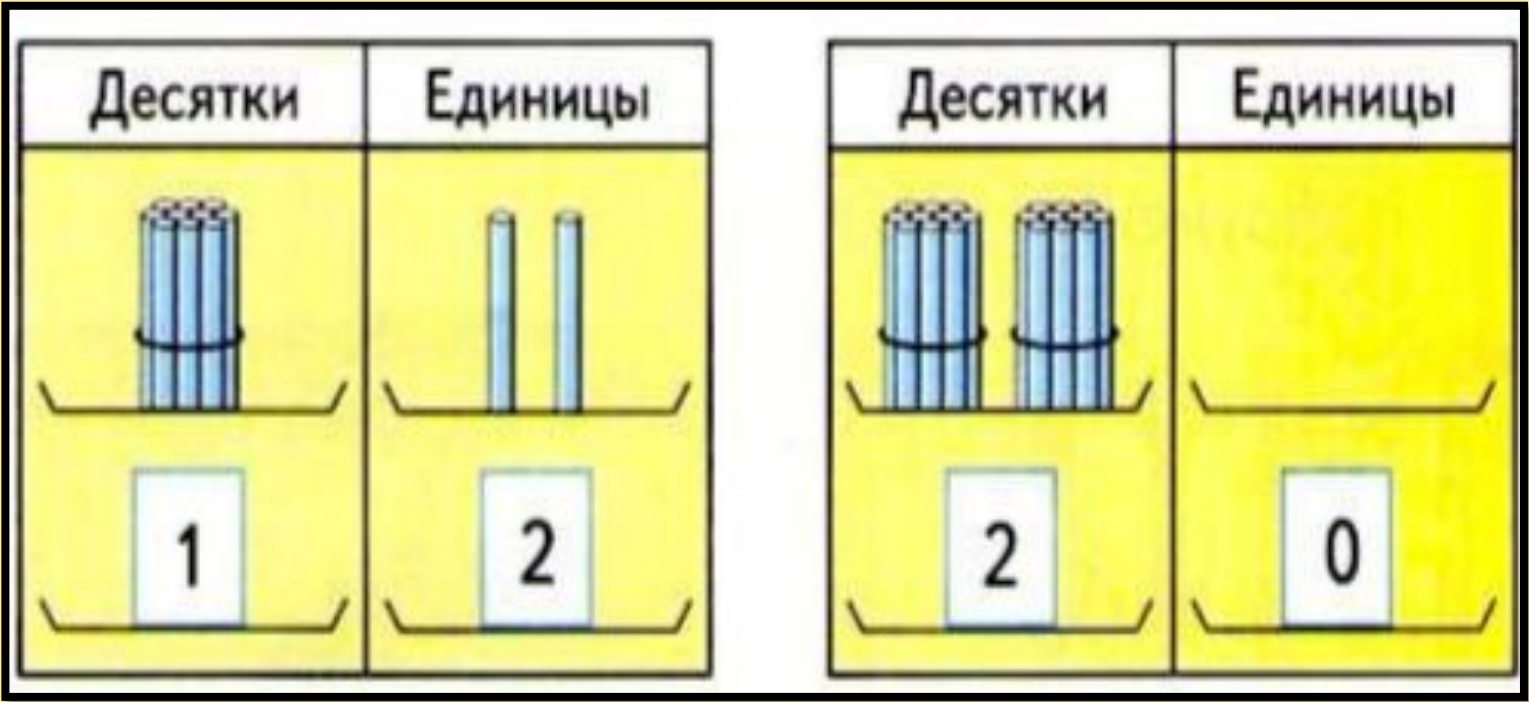


Тема
урока

Чтение и
запись чисел
от 11 до 20



Прочитай

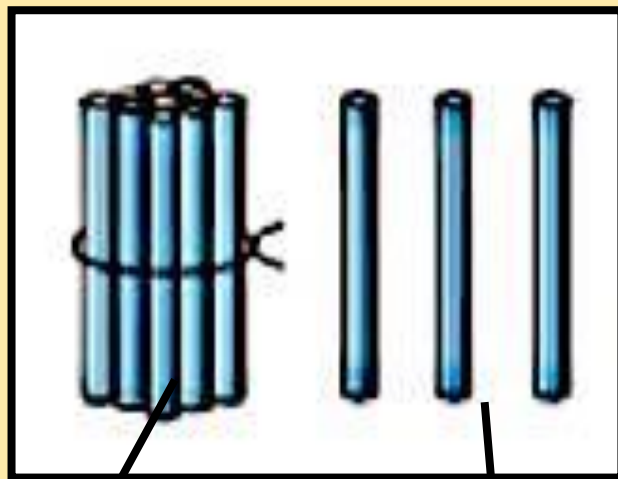


12

20



?????



10

3

1

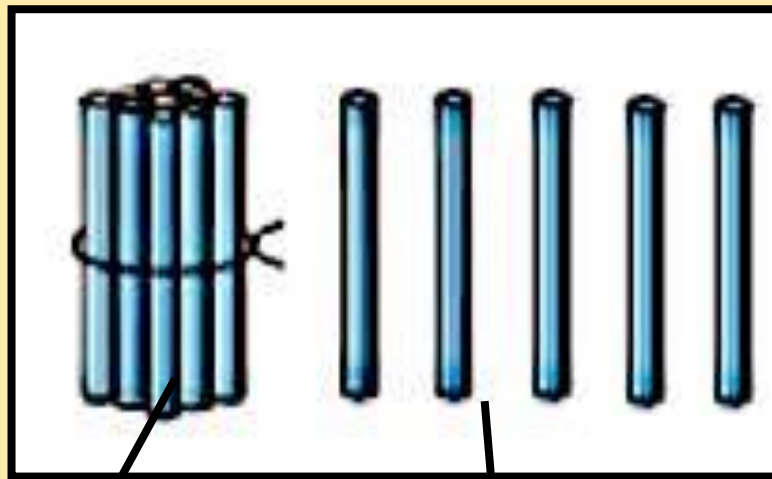
3

десяток

единицы



?????



10

5

1

десяток

5 единиц



Объясни

12

16

19

1

2

1

6

1

9

десято

единиц

десято

единиц

десято

единиц

к

ы

к

к



Объясни

14

1

4

десято

единиц

к

ы

18

1

8

десято

единиц

к

20

2

0

десяток

единиц

а

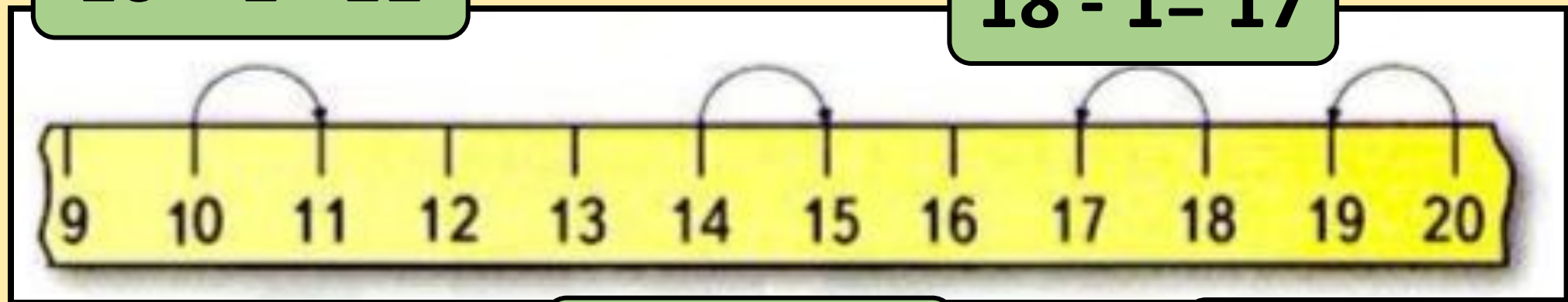


ВЫЧИСЛ

И

$$10 + 1 = 11$$

$$18 - 1 = 17$$



$$14 + 1 = 15$$

$$20 - 1 = 19$$



Проверь!

17, 10, 5, 15, 2, 20, 1

1, 2, 5, 10, 15, 17, 20



Проверь!

18, 9, 8, 16, 6, 13, 20.

20, 18, 16, 13, 9, 8, 6



Задача

У Даши-

3 платья

У Веры-

6
платьев

?

$$3 + 3 = 6$$

$$3 + 6 = 9$$

Ответ: 9

платьев.



Самый быстрый счетовод

$8 - 6$

$1 + 6$

$6 - 5 + 1$

$10 - 7 - 3$

$8 - 5$

$6 + 1$

$6 + 1 - 5$

$10 - 7 + 3$

$8 - 4$

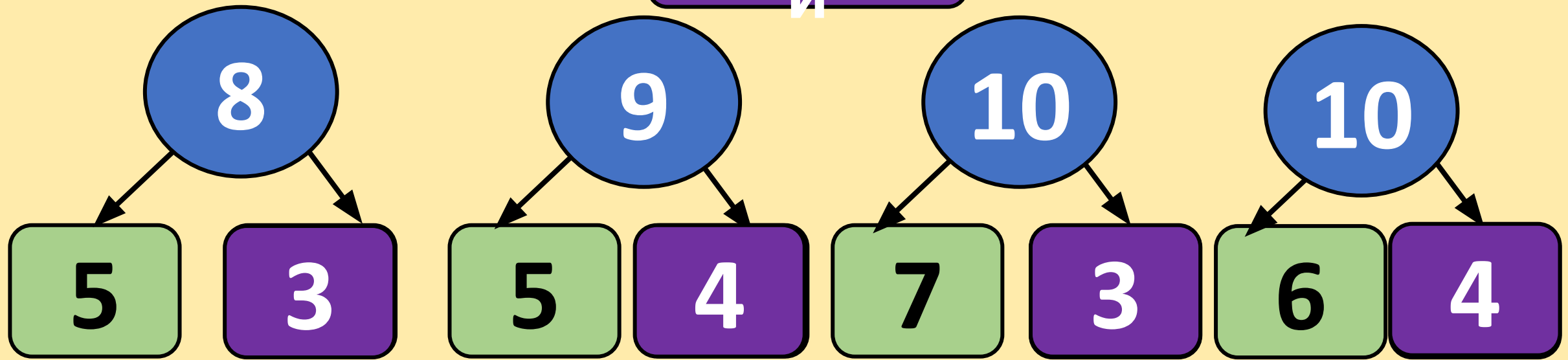
$6 + 0$

$6 - 6 + 1$

$10 - 3 - 3$



Заполни



Самопроверк

а

$4 + 4 - 2 =$

6

$10 - 7 - 3 =$

1

$2 + 6 - 5 =$

3

$10 - 8 + 0 =$

8



Самооценк

а

Ч
Т
Е
Н
И
Е



З
А
П
И
С
Ь



Итог урока

Я уже могу ...

Я уже умею ...

Могу научить ...



Ссылки и

[сова картинка для детей на прозрачном фоне](#)

[десятки и единицы картинки](#)

[дерево с дуплом картинки для детей на прозрачном фоне](#)