

Урок математики в 1 классе

Автор презентации: Кадырова Ольга Игоревна,
учитель начальных классов МАОУ ООШ №52 города Тюмени

2019

Настрой на урок

Настроение у
меня сегодня

...



Тема урока

..е..е..ие ..а..а.. ии..е..о..

..о....о..е..ие



Тема
урока

Р..ш..н.... з..д..ч .. пр..м..

р..в

П..вт..р..

Н....



Тема урока

**Решение задач и
примеров**

Повторение



Назови

1 2 3 4 5 6 7 8 9 10



Назови

10 9 8 7 6 5 4 3 2 1



Увеличь на 3

7	4	2	5	6	3	4
10	7	5	8	9	6	7



Уменьши на
3

10	8	6	9	3	4	5
7	5	3	6	0	1	2



+ ИЛИ -

$$4 + 5 = 9$$

$$6 - 2 = 4$$

$$9 - 7 = 2$$

$$3 + 2 = 5$$



Ребусы

$$6 + 3 - 1 = 8$$

$$7 - 3 - 2 = 2$$

$$5 + 2 - 3 = 4$$



Помогите

1

4

2

7

5

6

3

8

4-3

7-2

7-1

5-2

6-2

5+3

5-3

4+3

4

10

8

6

3

5

7




Задача

На аттракционе «Колесо обозрения» всего **8** ... кабин.
Занято **3** ... кабины. Сколько свободных кабин?


$$8 - 3 = 5$$

Ответ: 5
кабин



Задача

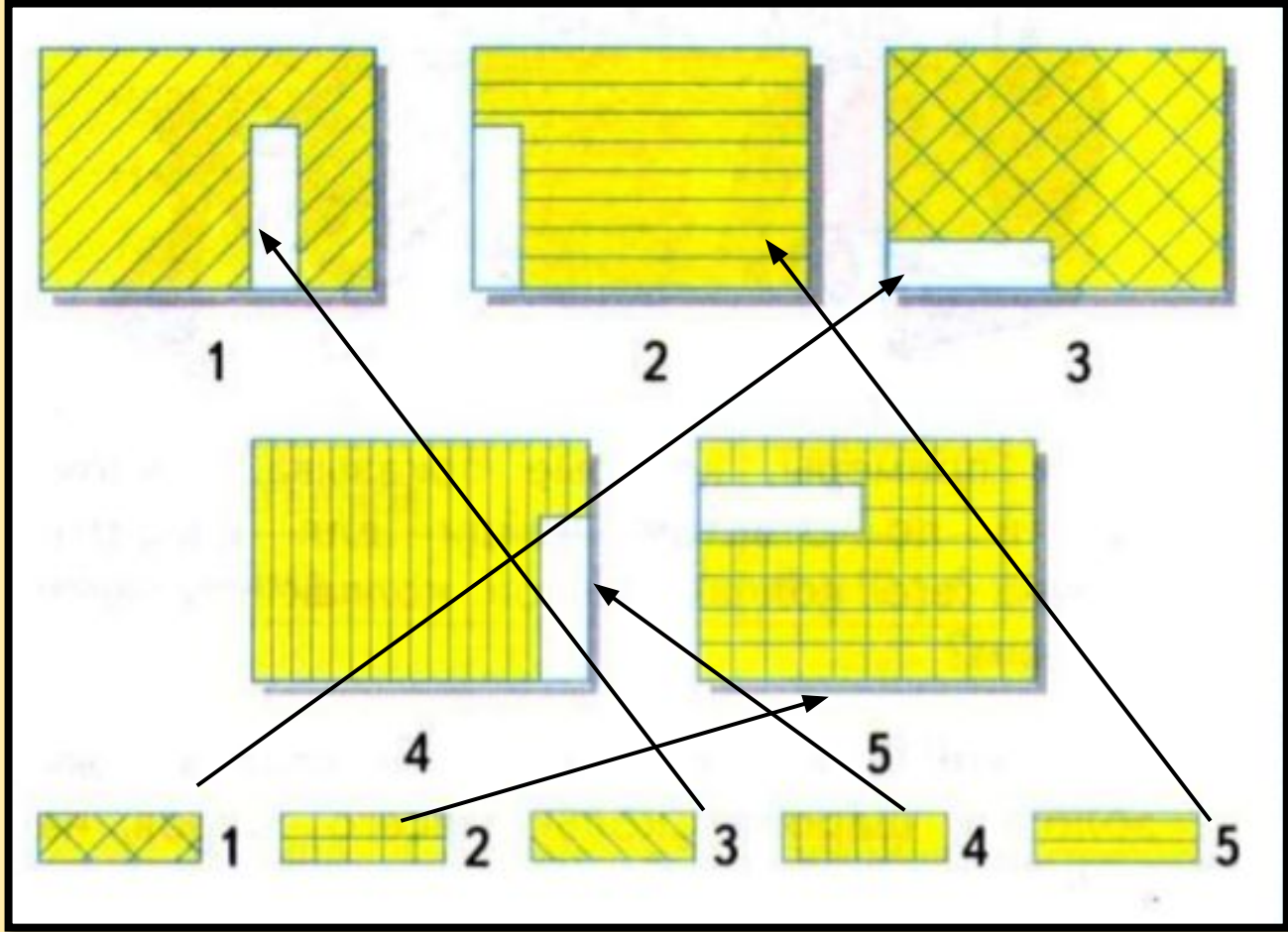
На аттракционе «Колесо обозрения» **5** .. свободных кабин **2** но в уже билеты проданы. Сколько свободных кабин осталось?



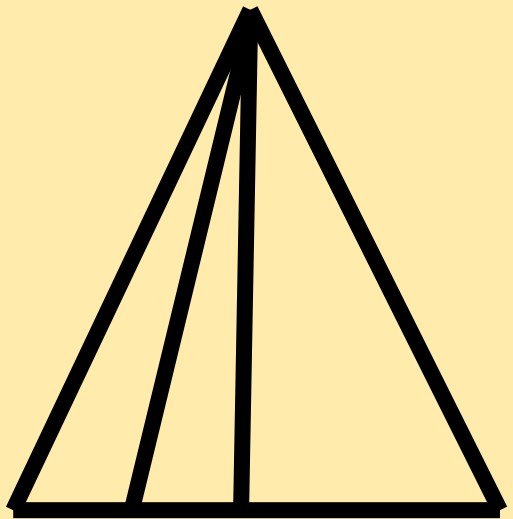
$$5 - 2 = 3$$

Ответ: 3
кабины

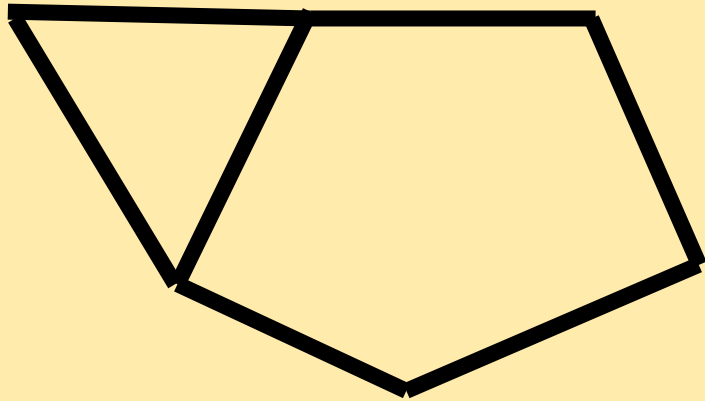

?????



?????



Выложи



Выложи 1
пятиугольник
и 1
треугольник



Задача

Мальчики сделали , ,
а девочки — 2 снеговика. Сколько всего снего-
виков сделали мальчики и девочки?

$$3 + 2 = 5$$

Ответ: 5

СНЕГОВИКОВ



Задача

У Пети было .
Он дал брату 3 конфеты.
Сколько конфет осталось у Пети?

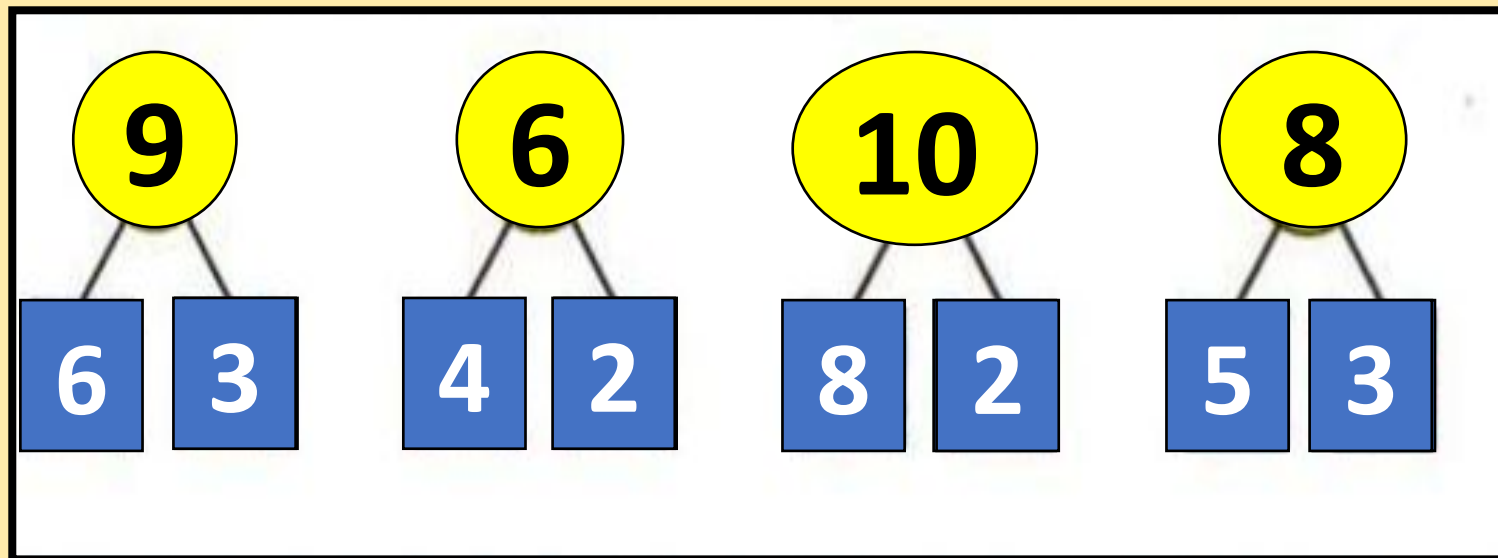
$$6 - 3 = 3$$

Ответ: 3

конфеты



Реши и проверь



Реши и проверь

$6 + 2 = 8$

$4 + 3 = 7$

$9 + 0 = 9$

$7 + 3 = 10$

$5 + 2 = 7$

$6 - 6 = 0$

$8 + 2 = 10$

$6 + 3 = 9$

$10 - 1 = 9$

$6 + 3 = 9$

$3 + 3 = 6$

$8 - 8 = 0$



Самооценк

а



**ИТОГ
урока**

**Мне с каждым днём на
уроках математики всё
легче ...**

