

Урок математики в 1 классе

Автор презентации: Кадырова Ольга Игоревна,
учитель начальных классов МАОУ ООШ №52 города Тюмени

2019

**Настрой на
урок**

Начинается ...

Не ленись и не

...

Руку чаще ...

На вопросы...



Прибавляй по 3

0

3

6

9

1

4

7

2

5

8



Вычитай по

3

10

7

4

1

9

6

3

0

8

5

2



Тема
урока

Таблица +3

Таблица -3



Заполни таблицу

$$1 + 3 = 4$$



$$2 + 3 = 5$$



$$3 + 3 = 6$$



$$4 + 3 = 7$$



$$5 + 3 = 8$$



$$6 + 3 = 9$$



$$7 + 3 = 10$$



Заполни таблицу

$$4 - 3 = 1$$




$$5 - 3 = 2$$



$$6 - 3 = 3$$



$$7 - 3 = 4$$




$$8 - 3 = 5$$



$$9 - 3 = 6$$



$$10 - 3 = 7$$



Проверь!



$$1 + 3 = 4$$

$$2 + 3 = 5$$

$$3 + 3 = 6$$

$$4 + 3 = 7$$

$$5 + 3 = 8$$

$$6 + 3 = 9$$

$$7 + 3 = 10$$

...

Проверь!



$$10 - 3 = 7$$

$$9 - 3 = 6$$

$$8 - 3 = 5$$

$$7 - 3 = 4$$

$$6 - 3 = 3$$

$$5 - 3 = 2$$

$$4 - 3 = 1$$

...

Задача

У Ани было 5 ёлочных игрушек.




Она подарила подруге 3 игрушки.
Сколько игрушек осталось у Ани?

$$5 - 3 = 2$$

Ответ: 2 игрушки

Задача

У Маши было 6 рыбок.



Ей подарили ещё 2 рыбки. Сколько теперь рыбок у Маши?

$$6 + 2 = 8$$

Ответ: 8

рыбок

Задач



$$7 - 3 = 4$$

$$2 + 4 = 6$$

Реши

● Было **5**



Стало на 2 больше.
Сколько ... ?

$$5 + 2 = 7$$

Ответ:

7

Было **8**



Стало на 3 меньше.
Сколько ... ?

$$8 - 3 = 5$$

Ответ:

5 г.



Заполни

и

$9 + \boxed{1} = 10$

$6 + \boxed{3} = 9$

$10 - \boxed{3} = 7$

$8 + \boxed{2} = 10$

$7 + \boxed{2} = 9$

$9 - \boxed{3} = 6$

$7 + \boxed{3} = 10$

$8 + \boxed{1} = 9$

$5 + \boxed{3} = 8$



Дополни

- Сначала Коля сделал из бумаги **4** фонарика, а потом ещё 3.

Дополни условие, поставь вопрос, реши задачу.

$$4 + 3 = 7$$

Ответ: **7 ф.**



Заполни

и

$10 = 9 + 1$

$9 - 9 = 0$

$8 + 0 = 8$

$10 = 8 + 2$

$9 - 1 = 8$

$8 + 1 = 9$

$10 = 7 + 3$

$9 - 2 = 7$

$8 + 2 = 10$





Самооценк

а

+3

-3



Итог урока

Мы сегодня составили

...

Рекомендую эту

таблицу ...

