

# Урок математики в 1 классе

Автор презентации: Кадырова Ольга Игоревна,  
учитель начальных классов МАОУ ООШ №52 города Тюмени

2019

Настрой на  
урок

Математику будем  
учить **ВСЕГД**

Ведь без неё ни туда,  
ни **СЮД**!



Прибавляй по 2

3

5

7

9

2

4

6

8

10

1

3

5

7

9



# Вычитай по 2

9

7

5

3

10

8

6

4

2

0

8

6

4

2

0



Тема  
урока

Таблица +2

Таблица -2



# Заполни таблицу

$1 + 2 = 3$



$2 + 2 = 4$




$3 + 2 = 5$



$4 + 2 = 6$



$5 + 2 = 7$



$6 + 2 = 8$



$7 + 2 = 9$



$8 + 2 = 10$



# Заполни таблицу


$$3 - 2 = 1$$



$$4 - 2 = 2$$




$$5 - 2 = 3$$



$$6 - 2 = 4$$




$$7 - 2 = 5$$



$$8 - 2 = 6$$



$$9 - 2 = 7$$



$$10 - 2 = 8$$



Проверь!



$1 + 2 = 3$

$2 + 2 = 4$

$3 + 2 = 5$

$4 + 2 = 6$

$5 + 2 = 7$

$6 + 2 = 8$

$7 + 2 = 9$

$8 + 2 = 10$

...



Проверь!



$$10 - 2 = 8$$

$$9 - 2 = 7$$

$$8 - 2 = 6$$

$$7 - 2 = 5$$







$$6 - 2 = 4$$

$$5 - 2 = 3$$

$$4 - 2 = 2$$

$$3 - 2 = 1$$

# Поменяй местами






?????

Незнайки 2 шара, у Знайки столько же.  
Вместе у них 4 шара.

У Незнайки 2 шара, у Знайки несколько.  
Сколько шаров у Незнайки Знайки  
вместе?

У Незнайки 2 шара, у Знайки столько же.  
Сколько шаров у Незнайки и Знайки  
вместе?



Части  
задачи

ОТВЕ

Т

РЕШЕНИ


Е

ВОПРОС


УСЛОВИЕ



# Составь задачи




$$4 + 2 = 6$$



$$5 - 2 = 3$$



# Составь задачи



$$3 - 2 = 1$$



$$2 + 3 = 5$$



# Задача


Пилюлькин выписал Незнайке пить таблетки через каждые 2 часа. Первую он принял в 2 часа дня. Во сколько он выпьет последнюю, если ему нужно выпить всего 3 таблетки?



# Реши задачу

● Было

3



Стало на 2 больше.  
Сколько ... ?

$$3 + 2 = 5$$

Ответ:

5

УСЛОВИЕ

ВОПРОС

РЕШЕНИЕ

ОТВЕТ





# Реши задачу

Было **7**



Стало на 2 меньше.  
Сколько ... ?

**7 - 2 = 5** Ответ: **5**

УСЛОВИЕ

ВОПРОС

РЕШЕНИЕ

ОТВЕТ



# Закрась

$1 + 2$	$3 + 2$	$2 + 2$	$2 + 3$
$1 + 4$	$5 - 1$	$6 - 1$	$3 + 1$
$6 - 2$	$7 - 2$	$0 + 4$	...



5

4





# Самооценк

а

+2

-2



# Итог урока

**Мы сегодня составили**

...

**Рекомендую эту**

**таблицу ...**

