

Урок математики в 1 классе

Автор презентации: Кадырова Ольга Игоревна,
Учитель начальных классов МАОУ ООШ №52 города Тюмени
2020

Настрой на урок

Какой сегодня
... день



Назови

$$6 + 2 = 2 + 6$$

$$8 + 1 = 1 + 8$$

$$3 + 6 = 6 + 3$$



Назови

$$6 + 2 = 8$$

$$2 + 6 = 8$$

$$7 + 3 = 10$$

$$3 + 7 = 10$$

$$5 + 4 = 9$$

$$4 + 5 = 9$$



Назови

$$9 + 8 = 17$$

$$8 + 9 = 17$$

$$30 + 40 = 70$$

$$40 + 30 = 70$$

$$48 + 16 = 64$$

$$16 + 48 = 64$$



Назови

$$\square + \bigcirc = \triangle$$

$$\bigcirc + \square = \triangle$$

$$O + y = A$$

$$y + O = A$$

$$\dots + \dots =$$


$$\dots + \dots =$$



ПРАВИЛО

От перестановки
слагаемых
результат
сложения

не изменяется



?????

$5 + 4$

$6 + 1$

$7 + 3$

$8 + 2$

$9 + 1$



$4 + 5$

$1 + 6$

$3 + 7$

$2 + 8$

$1 + 9$

Тема

урока

Решение

примеров

вида

+5

+6

+7

+8


+9



$$2 + 5$$



$$2 + 2 + 3 = 7$$




$$5 + 2 = 7$$

??????



$$1 + 6 = 7$$



$$6 + 1 = 7$$

№2

$2 + 7$

$1 + 9$

$7 + 2$

$9 + 1$

$3 + 6$

$2 + 8$

$6 + 3$

$8 + 2$



№3

Галя-

5 цв.


Вера

?, на 2<

$$5 - 2 = 3$$

Ответ: 3

цветка



№4

Оля-

5 ск.

Таня

?, на 3>

$$5 + 3 = 8$$

Ответ: 8

сказок



Задача

1 Вера раскрасила 4 флажка,

а Юля — на 3 больше:



Сколько ... Юля?

$$4 + 3 = 7$$

Ответ: 7 флажков



Задача

3 Оля раскрасила .
Ваня — на 2 меньше: .
Сколько кругов раскрасил Ваня?

$7 - 2 = 5$ Ответ: 5 кругов



Раскрась

7

2

$5 + 2$	$5 - 3$	$9 - 2$	$0 + 2$	$3 + 4$
$1 + 1$	$6 + 1$	$0 + 7$	$8 - 1$	$4 - 2$



С.р.

Самооценка

Новая
тема



Итог урока

Теперь я знаю,
для чего
нужно знать
правило ...

