

# Урок математики в 1 классе

Автор презентации: Кадырова Ольга Игоревна,  
учитель начальных классов МАОУ ООШ №52 города Тюмени

2019

**Настрой на  
урок**

**Думать ...**

**Решать ...**

**Отвечать ...**

**Успех ждёт ...**



??????

$$5 + 2 = 7$$

$$6 + 1 = 7$$

$$3 + 3 = 6$$

$$2 + 2 = 4$$

$$1 + 3 = 4$$

$$4 + 1 = 5$$



??????

$$5 - 2 = 3$$

$$5 - 1 = 4$$

$$9 - 1 = 8$$

$$8 - 2 = 6$$

$$6 - 3 = 3$$

$$4 - 3 = 1$$





# Проверь



7 см



7 см



7 см



?????


У Незнайки 5 орехов и столько же грибов.

У Незнайки ... орехов и столько же грибов. Сколько всего орехов и грибов?



**Тема  
урока**

**Учимся  
дополнять  
условие задачи,  
ставить вопрос**



# Задача

1. У Милы было 4 игрушки для ёлки.



Ей подарили ещё 3 такие же игрушки.

$$4 + 3 = 7$$

Ответ: 7

игрушек

# Задача

2. Сравни картинки и составь по ним задачу, чтобы в её условии были слова «стало на ... меньше». Реши эту задачу.



$$\square - \square = \square$$



$$6 - 2 = 4$$

Ответ: 4

сливы

# Задача

3. Павлик сорвал 6 лесных орехов.



Сколько орехов осталось у Павлика, если он съел 3 ореха?






$$6 - 3 = 3$$

Ответ: 3

ореха

Придумай задачу на

+








$$3 + 2 = 5$$

Ответ: 5

кроликов

Придумай задачу на -



$$5 - 2 = 3$$

Ответ: 3 кролика



# Заполни

Всего	7	7	7
Зелёные	3	2	1
Красные	4	5	6



# Проверь!

$$1 + 3 = 4$$



$$2 + 3 = 5$$




$$3 + 3 = 6$$




$$4 + 3 = 7$$




$$5 + 3 = 8$$



$$6 + 3 = 9$$



$$7 + 3 = 10$$



# Проверь!

$$4 - 3 = 1$$



$$5 - 3 = 2$$



$$6 - 3 = 3$$



$$7 - 3 = 4$$



$$8 - 3 = 5$$



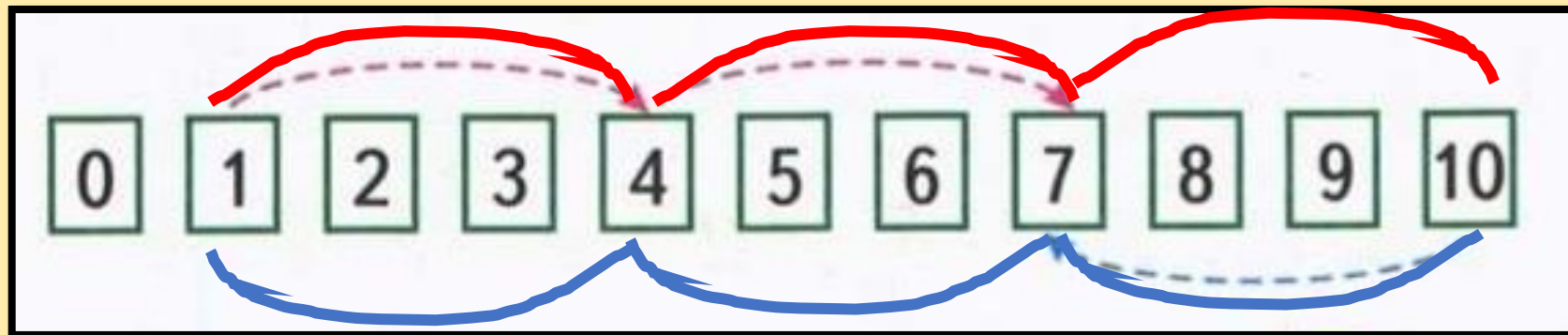
$$9 - 3 = 6$$



$$10 - 3 = 7$$



# Соедини



# Задача

- У Тани было 7 тетрадей. Стало на **3** тетради меньше. Сколько тетрадей стало у Тани? Дополни условие и реши задачу.

$$7 - 3 = 4$$

Ответ:

**4 т.**

Вычисли

сумму

Слагаемы

е

$$8 + 2 = 10$$



# Измерь и сравни



$$7 \text{ см} < 9 \text{ см}$$


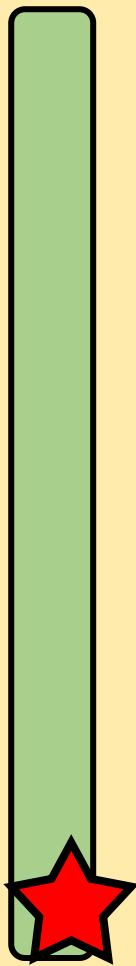
$$7 \text{ см} = 7 \text{ см}$$

$$9 \text{ см} > 7 \text{ см}$$

# Самооценка

примеры

задачи





## Итог урока

**Мне было легко на уроке**

**Мне было сложно на уроке**

